

# 一般入試

( 学 科 別 )

国 語

令和 8 (2026) 年度

試験学科

ホスピタリティ・マネジメント学科  
データサイエンス学科  
現代社会学科

試験時間 (60分)

解答 … 巻末

※著作権の関係上、掲載していません。

※著作権の関係上、掲載していません。

※著作権の関係上、掲載しておりません。

※著作権の関係上、掲載しておりません。

※著作権の関係上、掲載しておりません。

※著作権の関係上、掲載しておりません。

※著作権の関係上、掲載しておりません。

※著作権の関係上、掲載しておりません。

(古田亮<sup>ふるたりにょう</sup>『日本画とは何だったのか 近代日本画史論』による。ただし出題に際して表記・表現を変更し、一部省略した箇所がある。)

※ 唐画<sup>からゑ</sup>⇨平安時代から唐絵<sup>からゑ</sup>という言葉はあり、中国の、あるいは中国風に日本で描いた絵画を指した。一方、日本的なものはやまと絵と呼ぶ。下って江戸時代中頃には、来日した中国人画家沈南蘋<sup>しんなんぺん</sup>の写実的な画風(南蘋風、南蘋派)と、中国文人画の画風にならった南画(南宗画)を合わせて、当時の人々にとって相対的に新しい中国絵画として、唐画と称した。

※ 岡倉天心⇨一八六三―一九一三。日本美術史研究者の先駆。東京美術学校(現東京藝術大学)初代校長。来日したアーネスト・フェノロサ(一八五三―一九〇八)に師事。フェノロサはのちボストン美術館東洋部長。

※ 宋元⇨中国の王朝、宋(九六〇―一二七九)と元(一二七―一三六八)。

※ 八紘一宇⇨日本古代の歴史書『日本書紀』中の語句で、「全世界を一つの家にする」と解釈できる。第二次世界大戦中、日本の海外進出を正統化するスローガンとして利用された。

※ 西田幾多郎 一八七〇—一九四五。哲学者。個物と個物は矛盾対立しつつも自己同一性を保ち、永久の矛盾の中で関係し合いながら同一性を保持するという「絶対矛盾的自己同一」や、個物は自由であるために種を否定し、そのことによって真の自己であるとする「場所の論理」などを提唱した。

※ 横山大観 一八六八—一九五八。岡倉天心に学んだ日本画家。長く画壇で重きをなした。

※ 皇国史観 天皇を中心とした超国家主義による歴史観。ここでは皇統は、一つの流れが永久に続くものと考えられた。

※ 東亜 東アジア。西欧に対してアジア全体を指すこともある。

※ アーネスト・ゲルナー 一九二五—九五。哲学者。ナショナルリズム研究で知られる。

※ 教育勅語 一八九〇年に下された近代日本の教育の基本方針。国家中心主義偏重の性質があった。

※ ベネディクト・アンダーソン 一九三六—二〇一五。政治学者。アイルランドからアメリカに移住。『想像の共同体』

において、ナショナルリズム（国家主義、国民主義など）ないしネイション（国民）の構築について解明した。

問(一) 空欄ア～エにあてはまる最も適切な表現を、それぞれ次の選択肢1～4のうちから一つずつ選び、番号をマークせよ。

ア	1	等閑視	2	放棄	3	玩弄	4	重要視
イ	1	文化遺産	2	無形遺産	3	芸術品	4	完成品
ウ	1	二律背反	2	相互矛盾	3	相即不離	4	自家撞着
エ	1	リクエスト	2	モチーフ	3	レファレンス	4	テーゼ

問(二) 空欄W、X、Y、Zにあてはまる最も適切な表現を、それぞれ次の選択肢1～8のうちから一つずつ選び、番号をマークせよ。(同じ番号を重複して選ばないこと。)

- 1 東洋という文化圏
- 2 必然的、主体的に展開した知性的な絵画
- 3 西洋と東洋、アジアと日本という世界地図
- 4 古いものを失うことなしに新しいものを歓迎する
- 5 西洋という文化圏
- 6 新しいものの受容によって古いものを再生させる
- 7 西洋と日本、その古典と継承というグローバル性
- 8 自然発生的に生まれた野生の絵画

問(三) 本文中の枠で囲まれたa～eの文は著者によるものである。これらは順序通りに並んでいない。正しく並べ替えると

すれば、次の選択肢1～4のうちどれが最も適切か。一つを選び、番号をマークせよ。

- 1 c | d | e | b | a
- 2 c | a | d | e | b
- 3 c | b | a | d | e
- 4 c | e | d | a | b

問(四) 本文中から次の一文が抜けている。本文中の(1)～(4)のうち、どこに挿入すればよいか。最も適切な箇所を一つ選び、番号をマークせよ。

とすれば、かつての〈近代の日本画〉の所在が失われたことはもはや自明と言わざるを得ない。

問(五) 傍線部A「アジアはひとつである」について、著者はどのような理解をもっているか。本文に最もよく合致する説明を、次の選択肢1〜4のうちから一つ選び、番号をマークせよ。

- 1 アジアの一部でありながらイギリスのくびきのもとにあったインドへの同胞意識を、岡倉は英語で伝えた。
- 2 日本の国境をはるかに超越したアジアというひとまとまりの文化圏こそ、近代日本画の母体であり、支持基盤だった。
- 3 日本は東アジア共通の伝統様式を重んじ、そこから優れたものを取り入れて蓄積してきたために、近代的強国となることができた。
- 4 日本はアジアに内蔵された存在であり、歴史的に、中国大陆を含むアジア領域から技術、文化、思想等を摂取し続けてきた。

問(六) 傍線部B「第三の地帯」をめぐって、著者はどのような理解をもっているか。本文とは合致しない考え方を、次の選択肢1〜4のうちから一つ選び、番号をマークせよ。

- 1 西洋と対比され、日本そのものとも異なる、アジアとその内なる一体性とは、近代になって獲得されたものにすぎない。
- 2 近代の日本絵画は、極端に伝統に回帰することも、極端にヨーロッパ風になることも回避しつつ、そのどちらでもない領域において展開した。
- 3 アジアとはヨーロッパから規定された空間であり、統合的な実態は存在しないため、アジアはアジアでありながらアジアではない。
- 4 近代のアジアは自己を再規定するプロセスにあり、そこに依拠した日本画のアイデンティティも、確固たるものはなかった。

問七) 傍線部C「芸術の「国境」をめぐって、著者は、どのような理解をもっているか。本文に最もよく合致する説明を、次の選択肢1～4のうちから一つ選び、番号をマークせよ。

1 各国にはそれぞれの伝統、国民性、自然があり、それらを土台として芸術は成り立っているので、批評が国境を越えたとしても、芸術には国境がある。

2 「芸術の「国境」とは、大観に言わせれば〈日本の画〉の存在基底だったが、敗戦後には消散し、そのとき〈日本の画〉もまた消え去った。

3 岡倉は日本を包摂するアジアという領域を想定していたが、大観にとっては、日本は東洋の中のひとつの国ではなく、理念的には日本がすなわち東洋だった。

4 日本画について考察するとき、通時的に追跡するのではなく、共時的な国際空間に着目することが、近代か戦後かに関わらず有効である。

問八) 傍線部D「〈皇国感情〉」について、著者はどのような理解をもっているか。本文に最もよく合致する説明を、次の選

択肢1～4のうちから一つ選び、番号をマークせよ。

1 ゲルナーの説くナショナリズムの政治的原理、それが喚び起こす怒りや満足の感情こそ、近代日本における〈皇国感情〉であり、近代日本のほとんどあらゆる産物にその表象を見出すことができる。

2 近代という時代においては、国名をいただく絵画ジャンルである日本画も、多かれ少なかれ〈皇国感情〉によって拘束されたものの、芸術上の模索と改革には、あくまで個々の作家の表現意欲が反映された。

3 〈皇国感情〉とは、国家の繁栄と発展のために国家権力によって与えられた思考や感情であり、日本で生まれ育ち、共通の理念のもとに教育を受け、日本語で意志疎通する国民に連携と同質化を促した。

4 ゲルナーの説くナショナリズムの原理と感情、その感情によるナショナリズム運動の動機づけは、〈皇国感情〉にもそのままあてはまり、それによって近代日本の芸術の主題や表現を説明することができる。

問(九) 本文の内容に最もよく合致するものを、次の選択肢1～4のうちから一つ選び、番号をマークせよ。

1 アジアとは地理的区分であるものの、実態的統合は疑わしかった。その領域の複雑さ、矛盾、多様性は、一方では多義的で豊穡な空間を担保したが、その自律性の欠如、まとりつづく背反性、不安定さのために、戦後冷戦下には断された。

2 近代の日本画は可能態としてのアジアという〈場〉に依拠し、その〈場〉とともに動揺した。アジアが根本的な構造変化を起こし、「想像の共同体」というべき近代国家体制が終焉したとき、日本画もその役割を終えたということができる。

3 岡倉天心は、日本に現存するアジアの博物と、古墳時代から室町以降の日本文化を分析することで、「アジアはひとつである」という普遍的な真理にたどりついた。この歴史観は、国民国家を推進しようとする時代の趨勢によって歓迎された。

4 近代日本画は漢字文化圏と重なる東アジアの規範に立脚した。戦後、アメリカ占領下に入ると、日本画はそのスタイルを維持することができなくなり、表現においても主題においても無国籍的なものとなりつつ、世界に拡散していった。

二、問(一)～問(三)の設問に答えよ。

問(一) 次のa～jの空欄にあてはまる最も適切な語を、下の1～5の中からそれぞれ一つずつ選び、番号をマークせよ。

a 彼の心の中には社会的【】 縛から解放されたいという願望が常にある。

1 即 2 促 3 則 4 束 5 足

b 警察は詐欺事件の犯人を一網打【】に逮捕した。

1 仁 2 刃 3 尽 4 陣 5 甚

c 彼は果【】にも危険な状況に飛び込み、子供を救出した。

1 敢 2 感 3 缶 4 肝 5 寒

d 成人式は、若者が大人としての自覚を持ったための通過【】礼として、重要な意味を持っている。

1 擬 2 犠 3 戯 4 義 5 儀

e 食べ物【】末にはいけないよ、と母が言った。

1 租 2 疎 3 素 4 租 5 粗

f 経済的に不利な立場にある人たちは、社会の意思決定プロセスから周【】化されやすい。

1 円 2 縁 3 遠 4 延 5 猿

g 彼は数学の試験で幾【】学を選択した。

1 何 2 科 3 可 4 加 5 化

h 日食や月食、地震といった天変【】異に、不吉な前触れを感じていた時代があった。

1 治 2 知 3 地 4 千 5 致

i 大型台風で首都の交通が完全に麻痺した。私が遅刻したのは不可【】力だと思っほしい。

1 公 2 抗 3 光 4 効 5 行

j 景気を向上させるために行われる金融政策は、一般に金融【】和政策と呼ばれる。

1 官 2 環 3 閑 4 緩 5 間

問(二) 次の文章中の空欄 a～j に最もよくあてはまる語を、それぞれ後の1～15の中から一つずつ選び、番号をマークせ

よ。(同じ番号を重複して用いないこと。)

※著作権の関係上、掲載しておりません。

11	6	1
十人十色	定着	類型化
12	7	2
人口	フレイズ	妙
13	8	3
人工	フランス	真
14	9	4
ヴァリエーション	日本	不和
15	10	5
レクリエーション	主語	付和

(石井洋二郎『フランス的思考』による。ただし出題に際して一部表記を変更した箇所がある。)

※著作権の関係上、掲載しておりません。

問(三) 次に挙げることわざ・慣用句・故事成語の説明として最適なもの一つを選び、番号をマークせよ。

I 非を鳴らす

- 1 危険が迫っていると相手に急いで伝える。
- 2 他人の誤りを激しく非難する。
- 3 相手の倫理的な間違いを追及する。
- 4 自分が得をするために他人の欠点をあばく。

II 千慮の一失

- 1 十分に注意していても、思わぬ失敗を犯すことがあるということ。
- 2 色々と考えすぎたあげく、方向性を見失ってしまったということ。
- 3 十分に配慮した結果、今回は中止せざるをえなかったということ。
- 4 熟慮のおかげで一定の成功を取めたが、失ったものも大きかったということ。

III 一再ならず

- 1 一度だけという約束で。
- 2 やり直しは一度だけという決まりなのに。
- 3 再会することができなかったのだ。
- 4 一度や二度のことではなく、何度も。

IV 馬齢を重ねる

- 1 肉体がいよいよ壮健であるということ。
- 2 年をとって見た目にも威厳が出てきたということ。
- 3 無駄に年をとってしまったということ。
- 4 年を重ねるごとに心の成熟を得たということ。

V 身も蓋もない

- 1 中身もないし、うわべを飾る術も知らない。
- 2 最初から最後まで礼儀がなっていない。
- 3 あまりに露骨すぎて、情緒も含みもない。
- 4 元気がすぎて抑えが効かない。



# 一般入試

( 学 科 別 )

英 語

令和 8 (2026) 年度

試験学科

ホスピタリティ・マネジメント学科

データサイエンス学科

現代社会学科

試験時間 (60分)

解答 … 巻末

I. 次の1～10の英文の( )に入る最も適当なものを、①～④から1つずつ選び、マークしなさい。

1. The number of cars around here ( ) increasing.  
① are            ② is            ③ have            ④ were
2. You don't watch TV on weekdays, ( )?  
① do you        ② don't you      ③ were you      ④ aren't you
3. Hurry up, ( ) you'll miss the last train.  
① then          ② however       ③ or            ④ and
4. Why don't we wait for Ken at the restaurant until he ( ).  
① came          ② come          ③ coming       ④ comes
5. Can you lend me the book when you ( ) reading it?  
① finished                      ② have  
③ have finished                ④ will
6. She ( ) while she was playing volleyball.  
① was injured                  ② insured  
③ was injuring                 ④ injures
7. You ( ) be a fast worker to have done so much in such a short time.  
① can't          ② must          ③ were          ④ mustn't

8. My boss suggested that the meeting ( ) canceled.  
① will            ② be            ③ has            ④ were
9. ( ) you asked me what was going on, I would have told you everything.  
① With           ② Because      ③ Had           ④ Have
10. There is no point ( ). Your brother cannot hear you.  
① to shout                      ② shouted  
③ to be shouted                ④ shouting

II. 次の1～10の下線部の意味に最も近いものを、①～④から1つずつ選び、マークしなさい。

1. We need to figure out what went wrong.

- ① count on      ② run      ③ understand      ④ focus up

2. Your tie doesn't go with your shirt. It looks very strange.

- ① wear      ② take off      ③ put over      ④ match

3. Could you hold on a moment? I'm thinking about what to do next.

- ① wait      ② reach      ③ tell      ④ guess

4. I've been putting off going to the dentist for a few months.

- ① canceling      ② trying      ③ complaining      ④ postponing

5. Where did you come across the president last Friday?

- ① go finding      ② run into      ③ go to run      ④ run to meet

6. It really pains me to turn down an invitation from a friend.

- ① reply      ② answer      ③ detest      ④ refuse

7. Our office equipment is not up to date.

- ① slow      ② fast      ③ modern      ④ outdated

8. My little brother doesn't take after our mother at all.

- ① resemble      ② take an account  
③ look after      ④ watch

9. My girlfriend turned up late as usual.

- ① answered      ② came      ③ run      ④ replied

10. Thanks to our boss, we could finish the task on time.

- ① Appreciating for      ② Gaining through  
③ Because of      ④ Instead of

Ⅲ. 次の会話文の ( A ) ~ ( F ) に入るものとして最も適当なものを、  
①~④からそれぞれ1つずつ選び、マークしなさい。

Amy : Oh, hi Dave. Long time, no see!

Dave : Hi Amy. I was in the neighborhood, so ( A ).

Amy : Come on in. Take a seat. Would you like anything to drink? I  
have Sprite or orange juice.

Dave : Sprite would be fine. So, ( B )?

Amy : Oh, not bad. And you?

Dave : Oh, I'm doing okay, but ( C ), and I haven't had time to  
relax.

Amy : Sorry to hear that. ( D ), what's your major?

Dave : Hotel management.

Amy : Well, what do you want to do once you graduate?

Dave : Uh... ( E ), but I think I'd like to work for a hotel or  
travel agency in this area. How about you?

Amy : Well, when I first started college, I wanted to major in literature,  
but I changed majors to computer science. With the right skills,  
landing a job in the computer industry shouldn't be as difficult.

Dave : So, do you have a part-time job to support yourself through school?

Amy : Well, fortunately for me, I received a four-year academic scholarship  
that pays for all of my tuition and books.

Dave : Wow. ( F ).

Amy : Yeah. How about you? Are you working your way through school?

Dave : Yeah. I work three times a week at a restaurant near campus.

Amy : Oh. What do you do there?

Dave : I'm a cook.

Amy : How do you like your job?

Dave : It's okay. The other workers are friendly, and the pay isn't bad.

(A) ① I want to visit you                      ② I thought I'd drop by  
③ I wanted to drop out                      ④ I think I'd visit my mom

(B) ① how much is it                              ② what is your problem  
③ how have you been                          ④ what's your favorite one

(C) ① school has not been busy at all  
② I have plenty of time these days  
③ I have too much time recently  
④ school has been really busy these days

(D) ① By the way                                      ② In addition  
③ On the contrary                                  ④ Moreover

(E) ① I have decided to be like her for long time  
② I haven't decided for sure  
③ I didn't want to be like him in the future  
④ I really want to work at the travel agency

(F) ① That's great                                      ② That's a movie  
③ How coincident                                  ④ How arrogant

IV. 次の一連の英文に関する1～4の質問の答えとして最も適当なものを、①～④からそれぞれ1つずつ選び、マークしなさい。

※著作権の関係上、掲載しておりません。

\*scammers 「詐欺師」    artisanal 「熟練（技）の、職人（技）の」  
heist 「強盗、強奪」

1. According to the passage above, which is true?

- ① A fake buyer, pretending to be an authorized wholesaler, made contact with Neal's Yard Dairy.
- ② Neal's Yard Dairy began producing not only cheese but other beauty products.
- ③ Cheddar cheese is one of the eye-catching products in Neal's Yard Dairy.
- ④ Neal's Yard Dairy has never sold top-quality British and Irish cheeses to top restaurants around the world.

※著作権の関係上、掲載しておりません。

\*lorryload 「トラック一台分の（積載量）」

2. According to the passage above, which is true?

- ① Because of huge financial loss, all suppliers and cheese makers were not paid in full.
- ② Jamie Oliver, a famous chef, encouraged everybody to buy the stolen cheddar cheese.
- ③ In spite of a horrible incident, Neal's Yard Dairy fully paid the suppliers and cheese makers.
- ④ According to Jamie Oliver, the robbers own several fast food restaurants.

※著作権の関係上、掲載しておりません。

※著作権の関係上、掲載しておりません。

\*hoax 「捏造」 perpetrators 「犯人、犯罪者」

3. According to the passage above, which is true?

- ① Neal's Yard Dairy gave up finding the person responsible for this theft without asking the Metropolitan Police.
- ② The Trethowan Brothers have asked people to be watchful for good cheese selling at a low price.
- ③ The Trethowan Brothers are disappointed by Neal's Yard Dairy's behavior.
- ④ The Metropolitan Police say they are going to arrest all of the criminals soon with concrete evidence.

4. 上記の文中にある下線のついた語、“comprehend” に最も近い意味の語を選びなさい。

- ① deceive
- ② understand
- ③ cheat
- ④ repeat

V. 次の英文を読み、設問に答えなさい。

問1. 次の一連の英文に関する1～4の質問の答えとして、最も適切なものを、①～④からそれぞれ1つずつ選び、マークしなさい。

※著作権の関係上、掲載しておりません。

1. According to the passage above, which is true?

- ① Diet Coke Festy Cherry is still among the choices Coca-Cola offers.
- ② Dollar General is the only company that provides more choices of mayonnaise now.
- ③ Many American companies provide fewer choices than before.
- ④ Stew Leonard's used to provide many kinds of anti-bacterial wipes and drinks.

※著作権の関係上、掲載しておりません。

2. According to the passage above, which is true?

- ① Business owners recommend consumers go to the shelf to check the quality of the products.
- ② Some companies think that limiting product choice reduces complexity for customers.
- ③ Todd J. Vasos warns that the customers will notice the difference so it's better not to change.
- ④ General Motors and Ford insist they are increasing choices for customers with different preferences.

※著作権の関係上、掲載しておりません。

3. According to the passage above, which is true?

- ① It is our common understanding that more choices lead to anger in online shopping.
- ② During the pandemic, companies offered fewer choices because they had to deal with supply issues.
- ③ Products such as those for beauty, footwear, technology, and toys are now only available online.
- ④ Companies offered no new products in 2023 according to Market research company Circana.

※著作権の関係上、掲載しておりません。

※著作権の関係上、掲載しておりません。

4. According to the passage above, which is true?

- ① New restaurant offerings have increased since 2000.
- ② Business owners tend to look down on their customers because they don't have enough knowledge of products.
- ③ Online stores offered more options for buyers during the pandemic, because there was nothing else people could do.
- ④ Some research suggests that customers are more likely to buy products when they have fewer choices.



# 一般入試

( 学 科 別 )

## 選択科目

日本史

世界史

政治・経済

数学

令和 8 (2026) 年度

### 試験学科

ホスピタリティ・マネジメント学科

データサイエンス学科

(※データサイエンス学科は数学のみ選択)

現代社会学科

試験時間 (60分)

解答 … 巻末

〈数学解答上の注意〉

- 分数形で解答が求められているときは、既約分数（それ以上約分ができない分数）で答えなさい。
- 根号を含む形で解答する場合は、根号の中に現れる自然数が最小となる形で答えなさい。

# 日本史

第1問 次の文章を読んで、下の問い（問1～11）に答えなさい。

2025年4月時点で、ユネスコに登録されている日本の世界遺産は合計26件あり、そのうち、文化遺産が21件、自然遺産が5件である。これら日本の世界遺産を古代からたどってみよう。

「北海道・北東北の縄文遺跡群」は、北海道・青森県・岩手県・秋田県にまたがる縄文時代の遺跡の総称で、発掘調査された考古遺跡のみで構成され、縄文時代の人々の生活の息吹を伝えるものとなっている。古墳時代のものとしては、<sup>(1)</sup>大阪府堺市・羽曳野市・藤井寺市にある45件49基の古墳からなる「百舌鳥・古市古墳群－古代日本の墳墓群－」が登録されている。<sup>(2)</sup>

奈良県生駒郡斑鳩町に所在し、607年創建と伝えられ、世界最古の木造建築としても有名な A は、法起寺とともに「A 地域の仏教建造物」として、1993年に日本初の世界遺産登録がなされた。下って平安時代後期に権勢を振るった藤原道長の日記である『御堂関白記』は、世界遺産ではないものの、同じくユネスコが主催する事業である「世界の記憶」に登録されており、国宝として京都市の陽明文庫が所蔵している。なお、平安時代中後期に展開された国風文化は、平安時代末期には全国各地に波及しており、広島県廿日市市の<sup>(4)</sup>厳島神社（1996年登録）や岩手県西磐井郡平泉町の「平泉－仏国土（浄土）を表す建築・庭園及び考古学的遺跡群－」<sup>(5)</sup>（2011年登録）がその代表的存在である。

現在の鳥根県大田市やその周辺に広がっていた石見銀山（2007年登録）や新潟県佐渡市にあった佐渡金山（2024年登録）などは、中世から近世にかけて、全国的に鉱山開発が進められ、日本経済に多大な影響を及ぼした。また、近世には城郭を中心とした都市が形成され、たとえば池田輝政によって造営され、「白鷺城」の名でも知られる B（1993年登録）は、その美しさから現在も多くの人々に愛好されている。

明治時代に入り、政府は各方面において積極的な近代化を進めたが、2014年に登録された C 富岡市の富岡製糸場は、1872年から1987年まで操業し続けた。富岡製糸場のような官営工場は、民間企業の勃興や発展にも影響を及ぼし、貿易振興に寄与する一方で、政府は富国強兵の観点から重工業の育成にも注力した。2015年に登録された「明治日本の産業革命遺産 製鉄・製鋼、造船、石炭産業」は、山口・福岡・佐賀・長崎・熊本・鹿児島・岩手・静岡の8県に点在する膨大な遺産群であり、明治期における日本の産業革命を支えた存在であるが、これらのなかには現在も稼働中のものも含まれている。<sup>(7)</sup>

世界遺産とは、さまざまな文化の存在や発展の証左として登録されているものばかりではない。1996年に登録された広島市の原爆ドームは、かつて広島県産業奨励館と呼ばれ、<sup>(8)</sup>原子爆弾投下とその惨状を伝える「負の世界遺産」の一つとされる。

問1 下線部(1)に関して、縄文時代の人々の生活について述べた文として誤っているものを、次の①～④のうちから一つ選びなさい。 1

- ① クリやヤマノイモなどを食料としたと考えられる。
- ② 明確な身分の差はなかったと考えられる。
- ③ 男性は石器の、女性は土器の作成に従事した。
- ④ 青銅器を用いた儀礼がおこなわれていた。

問2 下線部(2)に関して、百舌鳥・古市古墳群に属する古墳として正しいものを、次の①～④のうちから一つ選びなさい。 2

- ① 誉田御廟山古墳
- ② 造山古墳
- ③ 稲荷山古墳
- ④ 江田船山古墳

問3 空欄 A に入る寺院名として正しいものを、次の①～④のうちから一つ選びなさい。 3

- ① 飛鳥寺
- ② 四天王寺
- ③ 法隆寺
- ④ 薬師寺

問4 下線部(3)に関して、藤原道長について述べた文として正しいものを、次の①～④のうちから一つ選びなさい。 4

- ① 一条天皇の中宮であった定子の父である。
- ② 後一条・後朱雀・後冷泉天皇の外祖父である。
- ③ 京都に法勝寺を建立した。
- ④ 約50年もの間、摂政・関白をつとめた。



第2問 次の文章を読んで、下の問い（問1～7）に答えなさい。

646年の改新の詔で打ち出された公地公民制は、701年に制定された大宝律令において確立された。しかし、律令税制の負担は多くの農民にとって過重なものであり、農民らはさまざまな方法で負担を回避しようとした。こうしたなか、朝廷は743年に<sup>(1)</sup>墾田永年私財法を制定し、<sup>(2)</sup>墾田永年私財法を制定し、<sup>(3)</sup>税収の確保をはかった。この結果、公地制の原則は崩れ、各地に私有地が形成された。特にこの時期に形成された私有地を初期荘園と呼ぶ。

9世紀に入ると、初期荘園は衰退を見せ、政府財政は悪化した。この打開策として、政府は<sup>(4)</sup>直営田の設置を進めたが、効果は上がらなかった。10世紀にも新たな土地政策が打ち出され、この時期までに政府は国司に地方政治を一任し、<sup>(5)</sup>徴税と中央への納税をおこなわせることとなった。国司は諸国での税収を確保するため、有力農民である **A** に名（名田）を請け負わせ、徴税する方式を採った。国司の中には任期を終えた後も任国に土着する者も現れ、一定の領域の開発に従事する開発領主となった。彼らは自身が所有する土地を貴族や大寺社などの有力者に寄進した。このような経緯で形成された私有地を寄進地系荘園<sup>(5)</sup>という。さらに中世には、寄進地系荘園のなかには耕地周辺の山野や川・海をもとりこんだ荘園が見られるようになった。これを特に **B** 荘園という。

問1 下線部(1)に関して、律令制下において、農民が税負担を回避するためとった行動として誤っているものを、次の①～④のうちから一つ選びなさい。 **12**

- ① 偽籍                      ② 強訴                      ③ 浮浪                      ④ 逃亡

問2 下線部(2)に関して、墾田永年私財法について述べた文として正しいものを、次の①～④のうちから一つ選びなさい。 **13**

- ① 左大臣長屋王のもとで出された。  
② 国分寺建立の詔と同年に出された。  
③ 位階ごとに所有できる墾田の上限が設定された。  
④ この法令の後に三世一身法が出された。

問3 下線部(3)に関して、政府が設置した直営田のうち、大宰府の財源となったものとして正しいものを、次の①～④のうちから一つ選びなさい。 **14**

- ① 公営田                      ② 諸司田                      ③ 勅旨田                      ④ 官田

問4 下線部(4)に関して、10世紀の土地政策について述べた文として誤っているものを、次の①～④のうちから一つ選びなさい。 **15**

- ① 最後の班田が実施された。  
② 延喜の荘園整理令が出された。  
③ 三善清行が意見封事十二箇条を提言した。  
④ 知行国制度が広く慣例化した。

問5 空欄 **A** に入る語句として正しいものを、次の①～④のうちから一つ選びなさい。 **16**

- ① 部曲                      ② 作人                      ③ 田堵                      ④ 名代

問6 下線部(5)に関して、寄進地系荘園について述べた文として誤っているものを、次の①～④のうちから一つ選びなさい。 **17**

- ① 寄進した開発領主は、その後、荘官となった。  
② 「尾張国郡司百姓等解」は、国司による寄進地系荘園への不当な圧力を訴えたものであった。  
③ 開発領主から直接寄進を受けた荘園領主を領家と呼んだ。  
④ 肥後国鹿子木荘は、寄進地系荘園の実例の一つである。

問7 空欄 **B** に入る語句として正しいものを、次の①～④のうちから一つ選びなさい。 **18**

- ① 領域型                      ② 入会地                      ③ 既墾地系                      ④ 代官見立

第3問 次の文章を読んで、下の問い（問1～7）に答えなさい。

1615年に豊臣氏が滅亡すると、同年、江戸幕府は大名統制法令として武家諸法度<sup>(1)</sup>を出すなど、武家への統制を重視した。翌1616年に大御所の徳川家康が亡くなると、子の2代將軍秀忠が実権を掌握し、1619年には居城の修築を無断でおこなったとされた広島藩主の **A** が武家諸法度違反を理由に改易されるなど、大名に対する厳しい姿勢が堅持された。

大名は大きく親藩・譜代・外様に大別され、このうち、親藩は三家<sup>(2)</sup>をはじめとする徳川氏一門の大名が該当した。譜代は古くからの徳川氏の家臣にあたる大名らを指し、江戸周辺をはじめとする要所に配置され、幕府の要職<sup>(3)</sup>に就くことができた。外様は関ヶ原の戦い前後に徳川氏に臣従した大名のことであり、特に有力な外様大名は遠隔地に配される傾向があった。彼ら大名は **B** を基準に一定の軍事力を保持することが將軍から求められ、戦時の際の軍役や、平時における普請役（江戸城の修築や河川の整備などの土木事業）も **B** に応じて負担した。

江戸幕府の政治体制を盤石なものとするためには、武家のみならず、天皇をはじめとする朝廷や寺社などへの統制も不可欠と幕府は考えた。朝廷統制のための法令も1615年に定められたが、本来、幕府より上位の立場である朝廷との関係<sup>(4)</sup>は、江戸時代を通じて緊張と融和が繰り返された。また、寺社に対する統制策もさまざまなものが打ち出され、幕府は寺院を通じた民衆統制<sup>(5)</sup>をも強化していった。

問1 下線部(1)に関して、武家諸法度について述べた文として誤っているものを、次の①～④のうちから一つ選びなさい。 **19**

- ① 武家諸法度は、建武式目や分国法などを参考に作成された。
- ② 武家諸法度は、將軍の代替わりごとに発せられた。
- ③ 武家諸法度（寛永令）では、参勤交代が制度化された。
- ④ 武家諸法度（天和令）では、「文武弓馬ノ道、専ラ相嗜ムベキ事。」とされた。

問2 空欄 **A** に入る人物名として正しいものを、次の①～④のうちから一つ選びなさい。 **20**

- ① 伊達政宗
- ② 福島正則
- ③ 加藤忠広
- ④ 島津家久

問3 下線部(2)に関して、三家に該当する藩として誤っているものを、次の①～④のうちから一つ選びなさい。 **21**

- ① 水戸藩
- ② 加賀藩
- ③ 尾張藩
- ④ 紀伊藩

問4 下線部(3)に関して、江戸幕府の主な役職について述べた文として正しいものを、次の①～④のうちから一つ選びなさい。 **22**

- ① 將軍のもとで政務を統括する老中は、複数名任命された。
- ② （江戸）町奉行・勘定奉行・遠国奉行をまとめて三奉行と呼んだ。
- ③ 西国大名の監視のため、京都守護が置かれた。
- ④ 江戸幕府の役職には、原則として親藩大名や譜代大名が就任した。

問5 空欄 **B** に入る語句として正しいものを、次の①～④のうちから一つ選びなさい。 **23**

- ① 石盛
- ② 貫高
- ③ 石高
- ④ 村高

問6 下線部(4)に関して、朝廷と幕府の関係について述べた文として誤っているものを、次の①～④のうちから一つ選びなさい。 **24**

- ① 禁中並公家諸法度では、「天子諸芸能の事、第一御学問也。」とされた。
- ② 幕府は、議奏公卿を通じて、朝廷に指示を出した。
- ③ 僧侶に対する紫衣をめぐり、幕府は後水尾天皇と対立した。
- ④ 新井白石は、閑院宮家の創設を進め、朝廷と幕府の関係改善をはかった。

問7 下線部(5)に関して、キリスト教禁止を徹底するため、人々にいずれかの寺院の檀家（信者）として登録させる制度として正しいものを、次の①～④のうちから一つ選びなさい。 **25**

- ① 五人組
- ② 本末制度
- ③ 村請制
- ④ 寺請制度

第4問 次の文章を読んで、下の問い（問1～7）に答えなさい。

16世紀半ばに日明貿易が途絶えて以来、日中間に国交は無かった。明治政府は1871年に清との国交を樹立したが、次第に対立を深めていった。日清両国の軍事衝突の危機が高まるなか、1885年に **A** を調印し、表面上は和睦した。しかし、1890年代に入り、日清間に再び緊張が走り、1894年には日清戦争に突入した。この戦争は日本の大勝に終わり、日本は清から莫大な賠償金などを獲得した。これを受けて欧米列強は清への圧力を強めながら中国大陸へ進出し、日本もこの動きに同調した。

1911年に辛亥革命が起り清国政府は崩壊し、孫文らによって中華民国が成立した。日本は中華民国政府の内情不安に乗じて二十一カ条の要求を突きつけ、中国大陸へのさらなる影響力拡大をはかった。しかし、この日本の対応は欧米列強から強い反感・不信感を招いた。そのため、第一次世界大戦を契機にアメリカが国際社会で主導権を確立すると、日本は対米協調外交政策を採るようになり、対中方針も強硬策から不干渉方針へ転換させた。

1920年代に入り、日本経済は第一次世界大戦中の好況からの反動もあり、恐慌が連続する状態に陥った。この状況を打開する方策として、軍部や一部の政治家らは中国侵略を肯定する声を高めていった。そして1927年から翌年にかけて山東出兵がおこなわれ、1931年には満洲事変が勃発し、1933年に停戦するも、1937年には日中戦争へ突入していった。

日中戦争およびアジア・太平洋戦争の敗戦後、日本は対米関係を重視しつつ、経済復興を進め高度経済成長を実現した。こうしたなか、中華人民共和国との関係改善の動きが加速し、1972年、日中共同声明が発表されるに至った。

問1 下線部(1)に関して、日清対立に関わる出来事について述べた文として誤っているものを、次の①～④のうちから一つ選びなさい。 **26**

- ① 琉球王国を琉球藩とした。
- ② 琉球漁民殺害事件をうけて、日本は台湾へ出兵した。
- ③ 壬午軍乱を機に、日本は朝鮮を開国させた。
- ④ 甲申事変の際、日本は金玉均らを支援した。

問2 空欄 **A** に入る語句として正しいものを、次の①～④のうちから一つ選びなさい。 **27**

- ① 日清修好条規
- ② 天津条約
- ③ 済物浦条約
- ④ 下関条約

問3 下線部(2)に関して、日清戦争後の1890年代後半に日本が清に対し第三国への不割譲を求めた中国大陸の地域として正しいものを、次の①～④のうちから一つ選びなさい。 **28**

- ① 福建省
- ② 威海衛
- ③ 山東省
- ④ 広州湾

問4 下線部(3)に関して、二十一カ条の要求について述べた文として正しいものを、次の①～④のうちから一つ選びなさい。 **29**

- ① 当時の日本の外務大臣は小村寿太郎であった。
- ② 当時の中華民国の大総統は段祺瑞であった。
- ③ 南満洲鉄道の租借期限を99年間延長させる内容が含まれていた。
- ④ 中華民国政府はすべての要求を受け入れた。

問5 下線部(4)に関して、対中不干渉方針を採った日本の外務大臣として正しいものを、次の①～④のうちから一つ選びなさい。 **30**

- ① 田中義一
- ② 内田康哉
- ③ 松岡洋右
- ④ 幣原喜重郎

問6 下線部(5)に関して、山東出兵・満洲事変・日中戦争について述べた文として正しいものを、次の①～④のうちから一つ選びなさい。 **31**

- ① 蒋介石らの北伐に対抗するため、山東出兵をおこなった。
- ② 奉天郊外で起こった張作霖爆殺事件を機に満洲事変が起こった。
- ③ 北京郊外で起こった柳条湖事件を機に日中戦争へ突入した。
- ④ 日中戦争突入後、近衛文麿内閣は重要産業統制法を制定した。

問7 下線部(6)に関して、次に示した日中共同声明の史料（一部抜粋）を読み、史料の内容について述べた文として誤っているものを、下の①～④のうちから一つ選びなさい。

32

- 一、日本国と中華人民共和国との間のこれまでの不正常な状態は、この共同声明が発出される日に終了する。
- 二、日本国政府は、中華人民共和国政府が中国の唯一の合法政府であることを承認する。
- 三、中華人民共和国政府は、台湾が中華人民共和国の領土の不可分の一部であることを重ねて表明する。日本国政府は、この中華人民共和国政府の立場を十分理解し、尊重し、ポツダム宣言第八項に基づく立場を堅持する。
- 五、中華人民共和国政府は、中日両国民の友好のために、日本国に対する戦争賠償の請求を放棄することを宣言する。
- 七、日中両国間の国交正常化は、第三国に対するものではない。両国のいずれも、アジア・太平洋地域において覇権を求めべきではなく、このような覇権を確立しようとする他のいかなる国あるいは国の集団による試みにも反対する。

- ① 日中共同声明が発出されるまで、中華人民共和国とは国交がなかった。
- ② 台湾は中国の一部であることが確認された。
- ③ 日中共同声明が発出されるまで、中華人民共和国政府は対日賠償請求権がなかった。
- ④ 日中両国は、アジア・太平洋地域におけるいかなる覇権にも反対することが確認された。

第1問 次の文章を読み、下の問い（問1～10）に答えなさい。

旧人に分類される（1）に埋葬の習慣があったと考えられているように、人類は古くから宗教的観念を育んできた。当初自然の脅威や祖先を崇敬する素朴なものであった宗教は、やがて人口が増加し、国家が形成されるようになると、古代エジプトのファラオ（王）が太陽神ラーの子を称したように、君主がその権威を借りて統治をおこなうために利用するものにもなった。

その一方で社会が複雑化すると、そのなかで個人のあり方を模索する者が多く登場するようになった。ヴァルナ制の身分社会が形成されたインドでは、前5世紀頃にガウタマ＝シッダータがこれを否定して仏教を生み出した。ユダヤ人社会から登場したイエスは、ユダヤ教の選民思想を批判して隣人愛を説き、キリスト教が生まれた。さらに貧富の差が拡大した7世紀のアラビア半島の都市メッカでは、ムハンマドがイスラーム教を創始した。こうして生まれた仏教・キリスト教・イスラーム教はその後世界各地に信者を増やし、世界の三大宗教と呼ばれるまでになった。

個人の信仰に端を発したこれらの宗教も、勢力の拡大とともに国家の保護も受けるようになり、教団組織も整備された。教団の拡大と安定にともなって、そのなかからそれまでとは異なる考えを持つ者も現れ、様々な分派が生まれた。近世のキリスト教では、ルターやカルヴァンによってローマ＝カトリック教会を批判する宗教改革がおり、プロテスタントが誕生した。勢力の回復をはかるカトリックは非ヨーロッパ地域に重点的に宣教師を派遣し、ラテンアメリカにはカトリックが広まることになった。

宗教は支配に対する抵抗の核となることもあった。たとえばアフガーニーは反帝国主義の立場からパン＝イスラーム主義をとらえた。しかし、宗教による結束は他の宗教を信奉する集団との摩擦を生む場合もある。イギリスが植民地支配にこれを利用したインドでは、今もなおヒンドゥー教徒とイスラーム教徒の対立が残り、ユダヤ教徒が故郷の地として帰還運動を起こしたパレスチナでも、イスラーム教徒との対立が今なお続いている。

問1 空欄（1）に入れる語句として正しいものを、次の①～④のうちから一つ選びなさい。 1

- ① アウストラロピテクス
- ② サヘラントロプス
- ③ クロマニヨン人
- ④ ネアンデルタール人

問2 下線部(2)について述べた文として正しいものを、次の①～④のうちから一つ選びなさい。 2

- ① 古王国は、テル＝エル＝アマルナを都とした。
- ② 中王国のアメンヘテプ4世は、太陽神ラーへの信仰を強制した。
- ③ 新王国は、シリアに進出してヒッタイトと戦った。
- ④ エジプトで使用された神聖文字（ヒエログリフ）は、シュリーマンが解読した。

問3 下線部(3)に関連して、ジャワ島に仏教寺院のボロブドゥールを造営した王朝の名として正しいものを、次の①～④のうちから一つ選びなさい。 3

- ① マタラム朝
- ② シャイレンドラ朝
- ③ バガン朝
- ④ スコータイ朝

問4 下線部(4)に関連して、イスラーム勢力を拡大するためにおこなわれた戦争として正しいものを、次の①～④のうちから一つ選びなさい。 4

- ① シャリーア
- ② ウンマ
- ③ ジハード
- ④ ヒジュラ

問5 下線部(5)に関連して、キリスト教とローマ帝国の関係について述べた文として正しいものを、次の①～④のうちから一つ選びなさい。 5

- ① イエスは、属州ユダヤの総督によって処刑された。
- ② デイオクレティアヌス帝によって、キリスト教が公認された。
- ③ コンスタンティヌス帝が、ミラノ勅令によってキリスト教を国教化した。
- ④ テオドシウス帝が、ニケーア公会議でアタナシウス派を正統とした。

問6 下線部(6)に関連して、宗教戦争・宗教改革とその影響について述べた文として正しいものを、次の①～④のうちから一つ選びなさい。 6

- ① ルターは、「九十五カ条の論題」で贖宥状の販売を擁護した。
- ② カルヴァンは、予定説をとらえて禁欲的な労働を否定した。
- ③ ユグノー戦争で、ブルボン朝が断絶してヴァロワ朝が成立した。
- ④ カルヴァン派の多いオランダが、カトリック国のスペインから独立した。

問7 下線部(7)の歴史について述べた文として誤っているものを、次の①～④のうちから一つ選びなさい。 7

- ① インカ帝国は、ピサロに滅ぼされた。
- ② トゥサン＝ルヴェルチュールは、ブラジルの独立を指導した。
- ③ キューバ革命で、カストロらが親米政権を打倒した。
- ④ アルゼンチンとイギリスが、フォークランド戦争を起こした。

問8 下線部(8)に関連して、アフガーニーの思想の影響を受けて、19世紀末のイランで起こった運動として正しいものを、次の①～④のうちから一つ選びなさい。 8

- ① タバコ＝ボイコット運動
- ② ウラービー（オラービー）運動
- ③ 五・三〇運動
- ④ ドンズー（東遊）運動

問9 下線部(9)に関連して、ヒンドゥー教徒中心のインドとイスラーム教徒中心のパキスタンがそれぞれ独立したことによって、帰属をめぐる争っている地域の名として正しいものを、次の①～④のうちから一つ選びなさい。 9

- ① ベンガル
- ② カシミール
- ③ パンジャーブ
- ④ ビハール

問10 下線部(10)に関連して、中東戦争について述べた文として正しいものを、次の①～④のうちから一つ選びなさい。 10

- ① 国際連合のパレスチナ分割案に基づいてイスラエルが建国されたことを機に、第1次中東戦争が起こった。
- ② エジプトのサダト大統領がスエズ運河国有化を宣言したことを機に、第2次中東戦争が起こった。
- ③ 第3次中東戦争に際して、アラブ石油輸出国機構（OAPEC）が石油輸出を制限した。
- ④ 第4次中東戦争後、イスラエルはエジプトにシナイ半島やガザ地区を返還した。

第2問 次の文章を読み、下の問い（問1～10）に答えなさい。

古代の地中海世界では、<sup>(1)</sup>フェニキア人やギリシア人が海上貿易で活躍していた。1世紀から2世紀にインド洋で季節風貿易がおこなわれるようになると、地中海の海上貿易圏はインド洋とも結びつくようになり、ローマ帝国領内の商人たちが香辛料などを求めてインドを訪れ、さらにローマの金貨は東南アジアにも運ばれた。エジプト在住のギリシア人<sup>(2)</sup>が著した『エリュトゥラー海案内記』は、この時期の貿易の様子を記録している。インド洋貿易圏では、7世紀以降ムスリム商人がダウ船を駆使して活動し、10世紀には、宋代<sup>(3)</sup>の経済的発展を背景にジャンク船を操る中国商人が東南アジアに姿を見せるようになった。一方で地中海では、<sup>(4)</sup>11世紀以降西ヨーロッパで都市と商業が発展し、イタリア商人が東方との貿易の中心を担った。

15世紀末にポルトガルのヴァスコ＝ダ＝ガマがインド西南岸の（ 5 ）に到達してインド航路を開拓し、またスペインが支援したコロンブスがアメリカ大陸に到達して以来、ヨーロッパ諸国の海上活動が活発化し、それまで独自のまとまりを持っていた各地の海上貿易圏が結びつけられ、世界の一体化が進んだ。<sup>(6)</sup>18世紀以降、世界経済の主導権を握ったのはイギリスであった。産業革命を進展させたイギリスは、原料供給や製品市場を求めて自由貿易を世界に求め、自らも推進した。<sup>(7)</sup>中国や日本もその例外ではなく、19世紀には否応なく自由貿易体制に組み込まれることになった。

イギリスの自由貿易政策は、1929年に始まる<sup>(9)</sup>世界恐慌によって転換を余儀なくされた。イギリス連邦内を特惠関税によって保護し、連邦外には高関税を課して閉鎖的経済圏を形成するブロック経済政策をおこなった。これによっていわゆる「持たざる国」との対立が激化し、第二次世界大戦に至ったことへの反省から、大戦末期の1944年に開かれた会議に基づく（ 10 ）によって、米ドルを基軸通貨とする為替と世界経済の安定がはかられた。1947年には「関税と貿易に関する一般協定（GATT）」が結ばれ、国際的な自由貿易の維持・拡大が進められた。

問1 下線部(1)に関連して、フェニキア人の建設した都市として正しいものを、次の①～④のうちから一つ選びなさい。 11

- ① ダマスクス
- ② イェルサレム
- ③ シドン
- ④ マッサリア

問2 下線部(2)に関連して、前1～後3世紀にインドのデカン高原を中心に、季節風貿易で栄えた王朝の名として正しいものを、次の①～④のうちから一つ選びなさい。

12

- ① グプタ朝
- ② サータヴァーハナ朝
- ③ クシャーナ朝
- ④ ヴァルダナ朝

問3 下線部(3)に関連して、宋代の社会・経済について述べた文として正しいものを、次の①～④のうちから一つ選びなさい。

13

- ① 山西商人や徽州商人が政府から特権を得て全国的に活動した。
- ② 佃戸と呼ばれる新興地主が台頭した。
- ③ 手工業者の同業組合である行が結成された。
- ④ 長江下流域が穀物生産の中心になった。

問4 下線部(4)に関連して、中世ヨーロッパの都市と商業について述べた文として正しいものを、次の①～④のうちから一つ選びなさい。

14

- ① 北ドイツの諸都市は、アウクスブルクを盟主としてハンザ同盟を結成した。
- ② ジェノヴァは、第4回十字軍を主導してコンスタンティノープルを占領させた。
- ③ ガン（ヘント）などのフランドル地方の都市で、毛織物工業が盛んとなった。
- ④ バルト海沿岸に位置するシャンパーニュ地方で、大定期市が開かれた。

問5 空欄（ 5 ）に入れる都市の名として正しいものを、次の①～④のうちから一つ選びなさい。

15

- ① カリカット（コジコーデ）
- ② ボンベイ（ムンバイ）
- ③ マドラス（チェンナイ）
- ④ カルカッタ（コルカタ）

問6 下線部(6)に関連して、イギリスの勝利に終わった英仏植民地戦争について述べた文として誤っているものを、次の①～④のうちから一つ選びなさい。

16

- ① スペイン継承戦争と並行して、フレンチ＝インディアン戦争が起こった。
- ② ユトレヒト条約で、イギリスはニューファンドランドを獲得した。
- ③ 七年戦争と並行して、プラッシーの戦いが起こった。
- ④ パリ条約で、イギリスはカナダやミシシッピー川以東のルイジアナを獲得した。

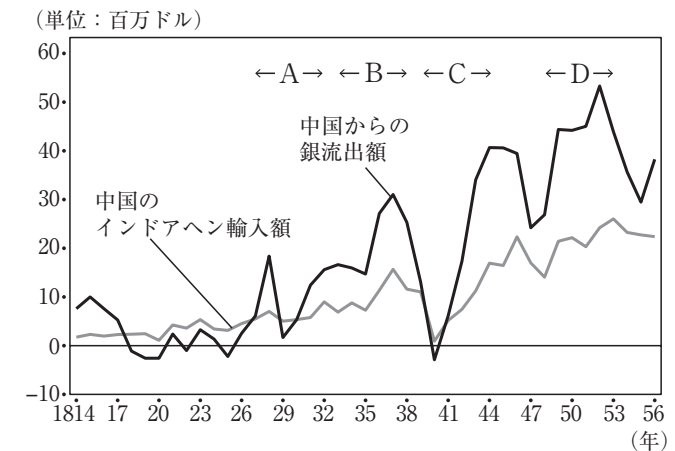
問7 下線部(7)に関連して、自由貿易の推進を主張し、穀物法廃止運動を指導した人物の名として正しいものを、次の①～④のうちから一つ選びなさい。

17

- ① オコンネル（オコネル）
- ② コブデン
- ③ オーウェン
- ④ ディズレーリ

問8 下線部(8)に関連して、次のグラフは、19世紀前半から中頃にかけての中国のアヘン貿易と銀の流出額の推移を示したものである。グラフ中のA～Dのうち、イギリスと中国との間でアヘン戦争が起こった時期として正しいものを、下の①～④のうちから一つ選びなさい。

18



- ① A
- ② B
- ③ C
- ④ D

問9 下線部(9)に関連して、各国の恐慌対策について述べた文として正しいものを、次の

①～④のうちから一つ選びなさい。 19

- ① アメリカ合衆国では、農業調整法（AAA）で農産物の増産をはかった。
- ② イギリスでは、労働党政権が失業保険の拡大を進めた。
- ③ ソ連では、新経済政策（ネップ）が実施された。
- ④ ドイツでは、公共事業として自動車専用道路（アウトバーン）が建設された。

問10 空欄（ 10 ）に入れる語句として正しいものを、次の①～④のうちから一つ選びなさい。 20

- ① ブレトン＝ウッズ体制
- ② ブラザ合意
- ③ パリ協定
- ④ ワシントン体制

第3問 次の文章を読み、下の問い（問1～10）に答えなさい。

ユーラシア大陸の中央部には、北部に広大な草原地帯が広がり、南部には砂漠のなかにオアシス地帯が点在する。草原地帯には、羊や馬・牛などが放牧され、草や水を求めて移動を繰り返す遊牧民が生活を営んだ。やがて彼らのなかに馬具や武器を使用する騎馬遊牧民が登場し、機動性に富む軍事力を駆使して強大な遊牧国家を形成することもあった。文献上で最初に知られる遊牧国家は、前7世紀から前3世紀に黒海北岸を支配した（ 1 ）であり、動物文様を施した金製の工芸品など、独自の文化を生み出した。東方のモンゴル高原でも、前3世紀末から匈奴が強大化し、しばしば南の中国王朝を脅かした。

一方南部のオアシス地帯には、オアシスを利用した農業を営むとともに、ラクダを利用してオアシス都市を結ぶルート<sup>(2)</sup>を往来する隊商貿易に従事する者もいた。ソグディアナ地方を拠点とし、唐代の中国にもやって来たイラン系のソグド人<sup>(3)</sup>はその典型であった。ウイグルなどの北方遊牧国家は、貿易にソグド人を利用し、ソグド人も貿易ルートを遊牧国家に保護してもらう共生関係にあった。

9世紀にトルコ系のウイグル国家が崩壊すると、トルコ人たちはオアシス地帯に移動、定着するようになり、この地域はトルコ人の地を意味するトルキスタンと呼ばれるようになった。さらにこの地域には西方からイスラーム教が浸透し、10世紀に成立したトルコ系イスラーム王朝の（ 4 ）は、この地域のイスラーム化を促した。

13世紀には、モンゴル高原から台頭したモンゴルが、ユーラシア大陸を広く支配する大帝国<sup>(5)</sup>を形成した。その崩壊後も、中央ユーラシアにはモンゴルの系譜をひく諸勢力が活躍した。東部にはオイラトやタタールなどの諸部族が活動し、西部にはティムール<sup>(6)</sup>が大帝国を築いた。16世紀初めにティムール朝は（ 7 ）人の侵入によって滅亡し、以後は（ 7 ）人による3つのハン国が成立することになったが、19世紀には、いずれも南下するロシア帝国の支配下に入った。一方東部では、17世紀にオイラト系のジュンガルが勢力を増し、中国を支配していた清と抗争を繰り返した。18世紀にジュンガルは清の乾隆帝<sup>(8)</sup>によって滅ぼされ、その支配地は東トルキスタンのムスリムの居住地とともに（ 9 ）と呼ばれた。

中央ユーラシアの西部は、大部分がロシア帝国の支配から革命<sup>(10)</sup>を経てソヴィエト連邦（ソ連）を構成する共和国となり、ソ連の崩壊とともにいくつもの独立国となっている。東部はモンゴル人民共和国が独立し、現在はモンゴル国となっているほか、多くは中華人民共和国の自治区となっている。

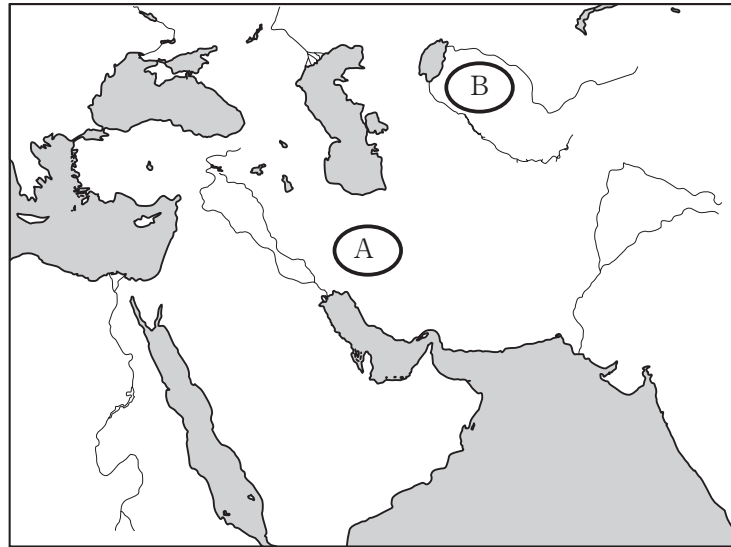
問1 空欄（ 1 ）に入れる遊牧民の名として正しいものを、次の①～④のうちから一つ選びなさい。 21

- ① エフタル      ② スキタイ      ③ キルギス      ④ ヒクソス

問2 下線部(2)に関連して、匈奴と中国王朝の関係について述べた文として誤っているものを、次の①～④のうちから一つ選びなさい。 22

- ① 秦の始皇帝は、匈奴対策のために戦国時代以来の長城を修築した。  
② 前漢の武帝は、遠征軍を派遣して匈奴の冒頓単于と戦った。  
③ 西晋は、その支配から独立した匈奴によって滅ぼされた。  
④ 五胡十六国時代には、匈奴を含む五胡が華北で相次いで建国した。

問3 下線部(3)に関連して、次の地図中でソグド人の根拠地を示すA・Bと、ソグド人について述べた文X・Yとの組み合わせとして正しいものを、下の①～④のうちから一つ選びなさい。 23



- X 漢字を基にソグド文字を作成した。  
Y ゾロアスター教などを東方に伝えた。

- ① A—X      ② A—Y      ③ B—X      ④ B—Y

問4 空欄（ 4 ）に入れる王朝の名として正しいものを、次の①～④のうちから一つ選びなさい。 24

- ① カラハン朝      ② サーマーン朝  
③ ブワイフ朝      ④ セルジューク朝

問5 下線部(5)に関連して、モンゴルの征服活動について述べた文として正しいものを、次の①～④のうちから一つ選びなさい。 25

- ① チンギス=カン（ハン）は、金を滅ぼして華北を支配した。  
② バトゥは、南ロシアを征服してチャガタイ=ハン国を建てた。  
③ フレグ（フラグ）は、アッバース朝を滅ぼしてイル=ハン国を建てた。  
④ オゴデイ（オゴタイ）は、南宋を滅ぼして中国全土を支配した。

問6 下線部(6)に関連して、ティムールがアナトリアに侵入してオスマン帝国を破った戦いの名として正しいものを、次の①～④のうちから一つ選びなさい。 26

- ① トゥール・ボワティエ間の戦い      ② ニハーヴァンドの戦い  
③ ワールシュタットの戦い      ④ アンカラの戦い

問7 空欄（ 7 ）に入れる民族の名として正しいものを、次の①～④のうちから一つ選びなさい。 27

- ① ウズベク      ② ベルベル      ③ マジャール      ④ アヴァール

問8 下線部(8)の皇帝の時代に起こった出来事について述べた文として正しいものを、次の①～④のうちから一つ選びなさい。 28

- ① 三藩の乱が鎮圧された。  
② 八旗が創設された。  
③ 『四庫全書』が編纂された。  
④ ロシアとの間でキャフタ条約が結ばれた。

問9 空欄（ 9 ）に入れる語句として正しいものを、次の①～④のうちから一つ選びなさい。 29

- ① 青海                      ② 新疆                      ③ 吐蕃                      ④ 雲南

問10 下線部(10)に関連して、ロシア革命について述べた文として正しいものを、次の①～④のうちから一つ選びなさい。 30

- ① 血の日曜日事件を機に、二月革命（三月革命）が起こった。  
② 二月革命（三月革命）で、ロマノフ朝のアレクサンドル2世が退位した。  
③ メンシェヴィキの指導者レーニンが、四月テーゼを発表した。  
④ 十月革命（十一月革命）で、臨時政府のケレンスキー内閣が打倒された。

第4問 次の文章を読み、下の問い（問1～10）に答えなさい。

1814年から1815年にかけて、フランス革命とナポレオン戦争によって大きく変動したヨーロッパの秩序を再建するために、オーストリアのメッテルニヒの主導のもとでウィーン会議が開かれた。その結果成立した保守反動的な国際秩序を、ウィーン体制<sup>(1)</sup>と呼ぶ。ウィーン体制は、1830年のフランス七月革命やギリシアの独立で動揺し、1848年のフランス二月革命の影響でウィーンでも三月革命が起こった結果、メッテルニヒが亡命して崩壊した。ウィーン体制を維持したロシアとオーストリアの協力関係も、1853年からのクリミア戦争によって崩れた。このような国際関係の変化は、イタリアやドイツの統一<sup>(2)</sup>に有利に働いた。

フランスとの戦争に勝利して1871年に統一を達成したドイツの宰相ビスマルクは、フランスの報復を防ぐとともにヨーロッパの秩序を安定させるため<sup>(3)</sup>、フランスの孤立と他の諸国との同盟関係などによる、ビスマルク体制とも呼ばれる国際関係を構築した。しかし、1890年にビスマルクが引退してヴィルヘルム2世が親政をおこない、積極的な対外政策を開始したことで、この体制は崩壊した。フランスは孤立を脱し、イギリスもそれまでの「光栄ある孤立」の方針を転換し<sup>(4)</sup>、ヨーロッパ列強はイギリス・フランス・ロシアの三国協商諸国と、ドイツ・オーストリア・イタリアの三国同盟諸国の二大陣営に分かれて対立が深まるなか、1914年の第一次世界大戦の勃発に至った。

第一次世界大戦後<sup>(5)</sup>、国際連盟が設立され、1928年には（ 6 ）が結ばれるなど、国際協調の機運が高まったが、1929年のアメリカ合衆国に始まる世界恐慌で状況は大きく変わった。ファシズム諸国が台頭して対外侵略を活発化させ、国際連盟もこれらの諸国の脱退によって形骸化し、2度目の世界大戦の勃発を防ぐことはできなかった。

第二次世界大戦後、国際平和機構は国際連合として再建されたが<sup>(7)</sup>、まもなくアメリカ合衆国を中心とする西側陣営と、ソ連を中心とする東側陣営が激しく対立する「冷戦」と呼ばれる状況になった<sup>(8)</sup>。国際連合で紛争解決に重要な役割を果たすのが安全保障理事会であるが、その常任理事国となっている米ソ両国が持つ拒否権で、安全保障理事会はしばしば機能不全に陥った。

1991年のソ連の崩壊をもって東西の冷戦体制は名実ともに終わりを告げた。ヨーロッパ<sup>(9)</sup>が統合に向かう一方で、それまで表面には出ていなかった民族・宗教などをめぐる対立<sup>(10)</sup>が顕在化し、今なお解決すべき問題として残されている。



## 政治・経済

問7 下線部(7)に関連して、1945年に国際連合憲章を採択した会議の名として正しいものを、次の①～④のうちから一つ選びなさい。 37

- ① ジュネーブ会議
- ② ダンバートン＝オクス会議
- ③ サンフランシスコ会議
- ④ ロンドン会議

問8 下線部(8)に関連して、冷戦体制について述べた文として正しいものを、次の①～④のうちから一つ選びなさい。 38

- ① イギリスのサッチャーが、ソ連への警戒を訴える「鉄のカーテン」演説をおこなった。
- ② ワルシャワ条約機構に対抗して、北大西洋条約機構が結成された。
- ③ 西ドイツのブランドが、東側との関係改善をはかる東方外交をおこなった。
- ④ アメリカ合衆国のレーガンとソ連のゴルバチョフの会談で、冷戦の終結を宣言した。

問9 下線部(9)に関連して、1992年に調印され、ヨーロッパ連合（EU）の設立を決定した条約の名として正しいものを、次の①～④のうちから一つ選びなさい。 39

- ① プレスト＝リトフスク条約
- ② マーストリヒト条約
- ③ ベルリン条約
- ④ リスボン条約

問10 下線部(10)に関連して、1990年代にツチ人とフツ人の対立から内戦が続いた地域の名として正しいものを、次の①～④のうちから一つ選びなさい。 40

- ① ルワンダ
- ② ユーゴスラヴィア
- ③ チェチェン
- ④ コンゴ

第1問 次の文章を読み、下の問い（問1～問10）に答えなさい。

2025年は被爆80年であった。2009年、アメリカ大統領オバマは、での演説において「核なき世界」を追求する決意を表明した。オバマ大統領は、この演説で、他国との協調による核兵器の保有量削減や核実験の禁止などを目標として掲げ、後にノーベル平和賞を受賞した。また、2016年には現職のアメリカ大統領として初めて広島を訪問し、演説した。この二つの演説は平和の実現に向けたメッセージとして大きな意味を持つものであり、核の脅威以外にも、あらゆる戦争・紛争の火種を払拭するために、国際協調による取り組みを求めている。

しかし、国際協調は容易なものではない。これまでもしばしば頓挫してきた。1945年に終結した第二次世界大戦は、連合国の全面的な勝利となったが、その後、国際社会は新たな危機に直面することとなった。1947年、アメリカはトルーマン・ドクトリンを発表して社会主義勢力の封じ込めを図り、その後マーシャル・プランを通じて自由主義国への経済援助を開始した。これらの政策は米ソ間の鋭い対立を招いて冷戦を激化させる一因となり、1962年のキューバ危機で米ソの緊張状態は頂点に達した。

このキューバ危機を契機として、米ソは偶発的な核戦争を防止するために協調行動をとるようになり、1960年代以降、米ソを中心に核兵器の軍備管理・軍縮・拡散防止を進めるための一連の条約が締結された。しかし、1979年にソ連がに侵攻すると、米ソ間の緊張が再び高まり、新冷戦と呼ばれる時代を迎えることになった。その後、ソ連では1985年に共産党書記長に就任して実権を握ったゴルバチョフが、硬直化かつ停滞していたソ連の政治や経済の改革に乗り出し、新しい政策を次々に打ち出した。こうしたソ連における大胆な改革をきっかけに欧州諸国では体制の変換が加速し、東欧諸国の民主化が実現し、1989年12月に米ソ首脳によって冷戦の終結が宣言された。

日本でも冷戦の終結を受けてさまざまな安全保障政策の転換が模索された。なかでも日米安全保障体制をめぐって、たとえば、1996年には日米首脳会談で日米安保共同宣言が発表され、安保体制の再定義がおこなわれた。また、1997年には従来の日米防衛協力のための指針（ガイドライン）の見直しがおこなわれ、これを受けてガイドライン関連法が整備されていく。その後日本の有事の際の法律も整備されていく一方で、自衛隊の活動範囲が拡大することに伴う懸念も示されている。また、在日米軍専用施設が沖縄に集中しており、基地の整理・縮小などを求める運動が続けられている。

日本は唯一の被爆国として、世界の恒久平和の実現のために特段の努力をおこなうことはもちろん、さまざまな民族紛争や地球環境問題、エネルギー問題など国家単位では解決の難しい課題に対して真摯に向き合い、それらの課題解決のために国際協調を推進していくことが必要である。

問1 文中の、に入る語句の組み合わせとして最も適当なものを、次の①～④のうちから一つ選びなさい。

- ① A プラハ B チェチェン
- ② A プラハ B アフガニスタン
- ③ A ジュネーブ B チェチェン
- ④ A ジュネーブ B アフガニスタン

問2 下線部①の平和の実現に関する記述として最も適当なものを、次の①～④のうちから一つ選びなさい。

- ① 1950年、世界平和委員会はラッセル・アインシュタイン宣言を受け、核兵器禁止を訴えた。
- ② 1955年、ストックホルム・アピールが決議され、パグウォッシュ会議が開催された。
- ③ 1955年のバンドン会議（第1回アジア・アフリカ会議）において、平和20原則が発表された。
- ④ 1975年の全欧安全保障協力会議（CSCE）において、ヘルシンキ宣言が採択された。

問3 下線部②の第二次世界大戦の原因に関する記述として最も適当なものを、次の①～④のうちから一つ選びなさい。

- ① ファシズム国家となったドイツ、イタリアが対外侵略をおこなったこと。
- ② イギリスが国際連盟を脱退し、他国に干渉しない孤立主義をとったこと。
- ③ イギリスとフランスがアフリカの植民地をめぐって争ったこと。
- ④ ロシア革命によって、ヨーロッパ列強が連携を強めたこと。



第2問 次の文章を読み、下の問い（問1～問9）に答えなさい。

「フロー」はある一定期間内に流れた経済量であり、「ストック」はある一定時点に存在する経済量である。経済指標で特に重要なGDPもフローである。なぜなら、GDPは一定期間内に当該国内で生産された付加価値の合計だからである。日本のGDPは世界経済において上位にあり、経済大国といわれている。

戦後の日本経済は、1950年代から1970年代前半にかけて「高度経済成長期」を迎えた。日本をはじめ、各国は経済成長を経済政策の大きな目標としてきたが、経済成長を実現するためには産業資本・社会資本の供給や質の良い労働力の供給などが必要とされる。また、技術革新（イノベーション）は投資需要・消費需要の増加、生産性の上昇や資本の蓄積をもたらし、経済発展の重要な要因であると考えられている。

この時期には、世界市場での輸出拡大や重化学工業化の推進により、実質GDPが年率10%前後で伸びた。その後、1980年代後半の「バブル経済期」には、A合意後の急激な円高を背景に日本銀行が金融緩和を実施し、低金利のもとで資金が不動産・株式市場に流入した。

しかし、これがバブル崩壊後の経済の長期停滞の遠因ともなった。国民経済計算によると、日本の名目GDPは、2024年度に600兆円を超えたが、1992年に500兆円を突破してから実に32年、安倍政権が2015年に600兆円を目標に掲げてから9年かけての達成となった。しかし、円安が進んだことでドル換算の名目GDPは約4兆ドルとなり、前年に日本を抜いて世界3位となったB（約4.7兆ドル）を下回っている。アメリカや中国が毎年ほぼ数字を増やしているのに比べて、日本はあまり増えておらず、経済成長が停滞気味であることがわかる。

停滞の理由の一つとして挙げられるのが、日本が人口減少社会に突入したことである。日本では2010年代に恒常的に死亡者数が出生者数を上回るようになった。特に少子高齢化が進行し、働き手の不足や社会保障の負担が深刻化している。この少子高齢化は今後、数十年にわたって進展していくことが予想されている。そのため、社会保障制度改革は未だ道半ばであり、新たな問題も山積していることから、更なる制度の改善が求められている。

問1 文中の A , B に入る語句の組み合わせとして最も適当なものを、次の①～④のうちから一つ選びなさい。 11

- ① A ルーブル B フランス ② A ルーブル B ドイツ  
③ A プラザ B フランス ④ A プラザ B ドイツ

問2 下線部①のフローの例として最も適当なものを、次の①～④のうちから一つ選びなさい。 12

- ① ある家計の貯金残高 ② 家計の年収  
③ 企業の資産総額 ④ 日本の人口総数

問3 下線部②のストックの例として最も適当なものを、次の①～④のうちから一つ選びなさい。 13

- ① 2024年の住宅建設数 ② 2024年の日本政府の債務残高  
③ 2024年の国債発行額 ④ 2024年の国の歳入

問4 下線部③のGDP（国内総生産）に関する記述として最も適当なものを、次の①～④のうちから一つ選びなさい。 14

- ① GDPから海外からの純所得を差し引いたものは、GNPに一致する。  
② 環境破壊をもたらす開発は、経済損失になるので、GDPに含まれない。  
③ 国内において外国人によって生産された財・サービスの価値は、GDPに含まれる。  
④ 主婦・主夫による家事労働は社会にとって有益であるから、GDPに含まれる。

問5 下線部④の付加価値に関する記述として最も適当なものを、次の①～④のうちから一つ選びなさい。 15

- ① 新たに生産したものの総生産額から、中間生産物の額を差し引いたものである。  
② 新たに生産したものの総生産額から、固定資本減耗分を差し引いたものである。  
③ 新たに生産したものの総生産額から、輸出や輸入を差し引いたものである。  
④ 新たに生産したものの総生産額から、間接税や補助金を差し引いたものである。

問6 下線部㉔の高度経済成長期に生じた好景気に関する記述として最も適切なものを、次の①～④のうちから一つ選びなさい。 16

- ① 神武景気は設備投資を中心に、当時においては最大の経済規模の拡大が生じたことから有史以来の好景気といわれた。
- ② 岩戸景気は、高度経済成長の前半にあたり、輸出主導、財政主導型の高度成長となった。
- ③ オリンピック景気は、新幹線、高速道路、競技施設の建設などの過剰生産により、オリンピック終了後も続く長期的な好景気となった。
- ④ いざなぎ景気はなべ底不況に対する金融緩和の結果、設備投資が大きく盛り上がり、岩戸景気以上の大型景気といわれた。

問7 下線部㉕の技術革新に関連して、企業家によるイノベーションが経済発展の原動力であると主張した経済学者として最も適切なものを、次の①～④のうちから一つ選びなさい。 17

- ① シュンペーター
- ② ピケティ
- ③ マーシャル
- ④ フリードマン

問8 下線部㉖のバブル経済に関する記述として最も適切なものを、次の①～④のうちから一つ選びなさい。 18

- ① バブル経済をきっかけに企業の資金調達方法が、それまでの直接金融方式中心から間接金融方式中心へと大きく転換した。
- ② 地価や株価が高騰し、資産を持つ者と持たない者との間で、資産格差が拡大した。
- ③ 民間設備投資が活発におこなわれたので、当時の『経済白書』はそうした状況を「投資が投資を呼ぶ」と表現した。
- ④ 家計所得の上昇によって、商品の需要が全般的に増大したため、年率10%を超えるインフレーションが発生した。

問9 下線部㉗の人口減少社会に関連して、高齢化や少子化に関する記述として最も適切なものを、次の①～④のうちから一つ選びなさい。 19

- ① 全人口に占める65歳以上の高齢者人口の割合が7%を超えると高齢化社会とよばれ、日本は高度経済成長期の前半に高齢化社会となった。
- ② 待機児童問題を受けて、少子化対策として幼保二元化が推進されることになった。
- ③ 全人口に占める65歳以上の高齢者人口の割合が14%を超えると高齢社会とよばれ、日本は1994年に14%を超えた。
- ④ 少子化対策として、日本政府は2003年に少子化対策基本法を制定し、ゴールドプランを実施した。

第3問 次の文章を読み、下の問い（問1～問9）に答えなさい。

国の行政機構の一つに総務省がある。総務省は、行政運営の改善、地方行財政、選挙、消防防災、情報通信、郵政行政などを所管し、その業務は多岐にわたっている。

日本における地方自治制度は、住民の意見や利益を地域の政治に反映させる仕組みであり、民主主義が実現されているといえる。イギリスの学者である A は「地方自治は民主主義の学校である」と、地方自治が民主主義の実現に貢献するという考えを主張した。日本国憲法には「地方自治」という章が設けられており、その第92条において「地方公共団体の組織及び運営に関する事項は、地方自治の本旨に基づいて、法律でこれを定める」と規定されている。

日本の地方公共団体は、国から完全に独立した存在ではないが、 B の下に、条例を制定したり予算を編成したりするなどの権限を持つ。地方公共団体の首長は、住民による直接選挙によって選出されるため、住民の意思を直接に反映しやすい制度となっている。また、地方議会の議員も、住民の直接選挙によって選ばれる。議会と首長の関係は、 C により、相互にけん制と均衡を図る仕組みが取られている。

また、住民自治の実現をはかるために、国政と違い、重要事項について住民が直接意思を反映させる権利として直接請求権も認められている。住民が地方自治に直接参加する権利ともいえる。地方公共団体では、地域特有の問題について、創意工夫によって、住民の生活を改善していくことが重要であり、そのためには住民の意思を積極的に反映させていくことが必要となるからである。住民による直接参加は民主主義を自ら実践しつつ、その活用について深く学ぶことができる。

問1 下線部aの行政機構に関連して、行政機関や官僚についての記述として最も適切なものを、次の①～④のうちから一つ選びなさい。 20

- ① 各省の幹部人事を内閣主導で決定する人事院が2014年に新設された。
- ② 国の行政委員会の一つに教育委員会がある。
- ③ 日本道路公団は独立行政法人へ移行したが、現在では民営化されている。
- ④ 官僚が関係業者から贈与・接待を受けた場合の報告義務を定めた国家公務員倫理法が定められている。

問2 下線部bに関連して、2001年に行われた中央省庁再編より後に庁から省に格上げになったものとして最も適切なものを、次の①～④のうちから一つ選びなさい。

- 21
- ① 農林水産省
  - ② 外務省
  - ③ 法務省
  - ④ 防衛省

問3 文中の A に入れる語句として最も適切なものを、次の①～④のうちから一つ選びなさい。 22

- ① ブライス
- ② ラスキ
- ③ ボダン
- ④ ダイシー

問4 下線部cの地方公共団体に関連して、市町村に関する記述として最も適切なものを、次の①～④のうちから一つ選びなさい。 23

- ① 人口1万人未満の市町村は、法律で合併することが義務づけられている。
- ② 市町村は、条例によって簡易裁判所を置くことができる。
- ③ 市町村が条例を制定するときには、法律で住民投票が義務づけられている。
- ④ 市町村は、条例に違反する行為に対して、罰則を定めることができる。

問5 文中の B , C に入る語句の組み合わせとして最も適切なものを、次の①～④のうちから一つ選びなさい。 24

- ① B 官僚主導 C 分離独立
- ② B 地方分権 C 二元代表制
- ③ B 国の指示 C 補完性
- ④ B 首長の命令 C 一元的体制

問6 下線部dの地方公共団体の首長に関する記述として最も適切なものを、次の①～④のうちから一つ選びなさい。 25

- ① 首長の任期は6年で、再任は認められていない。
- ② 首長は選挙管理委員会の委員を選任する権限を持っている。
- ③ 首長は地方議会の議決が必要な事案を地方議会に提出することができる。
- ④ 首長は学校その他の教育機関を管理し、教科書の選定などをおこなう。

問7 下線部㉔の地方議会の議員選挙に関する記述として最も適当なものを、次の①～④のうちから一つ選びなさい。 26

- ① 選挙費用の節約のため、全国で同じ日に選挙をおこなうことが義務づけられている。
- ② 議員定数は全国一律に定められている。
- ③ 都道府県議会議員選挙では小選挙区比例代表並立制が採用されている。
- ④ 市町村議会議員選挙では大選挙区制が採用されている。

問8 下線部㉕に関連して、日本における住民、首長および議会の関係についての記述として最も適当なものを、次の①～④のうちから一つ選びなさい。 27

- ① 議会が議決した条例に対して、首長は再議を要求できる。
- ② 首長に対する不信任決議を待たずに、首長は議会を解散できる。
- ③ 直接請求制度に基づいて提案された条例案を議会は否決できない。
- ④ 有権者の一定数以上の署名をもって、住民は首長に対して議会の解散を請求することができる。

問9 下線部㉖に関連して、有権者30万人の地方公共団体においておこなわれる直接請求についての記述として最も適当なものを、次の①～④のうちから一つ選びなさい。

- 28
- ① 地方公共団体の長の解職請求があったとき、議会は住民投票に付さなければならない。
  - ② 条例の制定または改廃の請求があったとき、地方公共団体の長は住民投票に付さなければならない。
  - ③ 有権者は、6000人以上の連署をもって、地方公共団体の長に対して条例の制定または改廃の請求をおこなうことができる。
  - ④ 有権者は、5万人以上の連署をもって、選挙管理委員会に対して地方公共団体の議会の議員の解職請求をおこなうことができる。

第4問 次の文章を読み、下の問い（問1～問9）に答えなさい。

第二次世界大戦後、世界各国は<sup>㉑</sup>GATTの下で、<sup>㉒</sup>貿易自由化に取り組んできた。しかし、かつては国内産業の発展や雇用の安定を図るために<sup>㉓</sup>保護貿易が主張されることもあった。保護貿易には自国の産業が競争に負けて衰退しないように保護し、自国の雇用も守ることができるメリットがある。一方、自由貿易のメリットは、国際取引の拡大により、各国の生産効率が向上し、世界全体の経済成長を促進することが挙げられる。また関税や輸入制限が緩和されることで消費者はより多くの商品やサービスにアクセスできる。

GATTは創設以来、数多くの多角的貿易交渉（ラウンド）をおこなってきた。1964年から始まったケネディ・ラウンドでは鉄工業製品の関税を平均35%引き下げ、1973年から始まった東京ラウンドでも平均35%の関税引き下げと非関税障壁の軽減を実施している。さらにウルグアイ・ラウンドではサービスや農業の貿易の枠組みについての取り決めや、知的財産権の保護などが導入された。そして1995年にGATTを引き継ぐ常設の国際機関として<sup>㉔</sup>WTOが設立された。

WTOを中心とする多角的貿易体制が確立する一方で、地域統合や、FTA、EPAなどの貿易協定が盛んにおこなわれている。地域統合ではEUが代表的だが、北アメリカでは、アメリカとカナダの米加自由貿易協定に A が加わって1994年に B が発足した。その後、自動車・同部品の原産地規制の厳格化などの見直しがおこなわれ、2020年に C が発効した。また南アメリカでは、域内関税の原則撤廃などを目的に、1995年にアルゼンチン、ブラジル、ウルグアイ、 D の4か国でMERCOSURが発足した。

日本およびアメリカを含む12か国は、環太平洋地域の国々による経済の自由化を目的とした多角的なEPAとして<sup>㉕</sup>TPPの交渉をおこない、2016年2月に署名がおこなわれた。その後アメリカが脱退したため、2018年3月、アメリカを除いた11か国によりTPP11協定が締結された。

一方アメリカは多数国間の協定から2国間（あるいは少数国間）協定にシフトするなか、日本との2国間協定を結ぶための日米貿易交渉をおこなうことになった。かつては日本とアメリカとの間で<sup>㉖</sup>日米貿易摩擦もあったが、2018年4月の日米首脳会談において、「自由で公正かつ相互的な貿易取引のための協議」を開始することが合意された。そして<sup>㉗</sup>日米貿易協定が締結され、2020年1月に発効した。

問1 文中の **A** , **D** に入る国名の組み合わせとして最も適当なものを、次の①～④のうちから一つ選びなさい。 **29**

- ① A キューバ D パラグアイ ② A キューバ D エクアドル  
③ A メキシコ D パラグアイ ④ A メキシコ D エクアドル

問2 文中の **B** , **C** に入る語句の組み合わせとして最も適当なものを、次の①～④のうちから一つ選びなさい。 **30**

- ① B NAFTA C USMCA  
② B NAFTA C APEC  
③ B AFTA C USMCA  
④ B AFTA C APEC

問3 下線部③の GATT に関する記述として最も適当なものを、次の①～④のうちから一つ選びなさい。 **31**

- ① GATT は、第二次世界大戦が終結した1945年に発足した。  
② 日本は、サンフランシスコ平和条約締結後の1951年に加盟した。  
③ 関税や通商の取り決めにおいて、特定の国に有利な条件を与えた場合、他の国にもその条件を適用することを最恵国待遇という。  
④ 発展途上国からの輸入品に対して、関税の免除や特別に低い関税率を適用することを内国民待遇という。

問4 下線部⑥の貿易自由化に関する記述として最も適当なものを、次の①～④のうちから一つ選びなさい。 **32**

- ① イギリスの経済学者リカードは、『経済学および課税の原理』で国際貿易の意義を説明した。  
② 貿易の自由化は、各国の為替相場を上昇させ、貿易黒字の拡大につながる。  
③ 発展途上国の鉱産物などの一次産品と、先進国の工業製品を貿易することを水平的分業という。  
④ 比較生産費説によると、他国よりも安い費用で生産できる商品がない場合は、自給自足経済が有利になる。

問5 下線部④の保護貿易に関連して、国際競争力のない幼稚産業については保護貿易が必要であると主張した経済学者として最も適当なものを、次の①～④のうちから一つ選びなさい。 **33**

- ① マルサス ② リスト ③ トマス=マン ④ ケネー

問6 下線部④の WTO に関する記述として最も適当なものを、次の①～④のうちから一つ選びなさい。 **34**

- ① 2001年にロシア、2012年に中国が、正式に WTO に加盟した。  
② WTO の下部機関として DAC があり、違反国を監視している。  
③ WTO は、紛争解決手続きにおいて、違反国の措置の決定にネガティブ・コンセンサス方式を取り入れている。  
④ 日本は、2001年に生シイタケ、イ草、ネギを対象にインドに対してセーフガードを発動した。

問7 下線部⑥の TPP に関する記述として最も適当なものを、次の①～④のうちから一つ選びなさい。 **35**

- ① TPP は、太平洋周辺地域において、人やモノ、サービス、資本の移動を自由化していくという国際協定である。  
② 日本、中国、ニュージーランドなどが TPP の交渉に参加しているものの、オーストラリアは参加していない。  
③ TPP は、シンガポール、チリ、カナダ、ベトナムの4か国による自由貿易協定がきっかけで交渉がはじまった。  
④ TPP は、2018年に発効し、域内人口約20億人、GDP20兆ドル以上の巨大経済圏が誕生した。

# 数学

問8 下線部①の日米貿易摩擦に関する記述として最も適当なものを、次の①～④のうちから一つ選びなさい。

- ① 1985年に対日貿易に対処するため、アメリカは包括通商・競争力強化法（スーパー301条）を制定した。
- ② 1986年の「前川レポート」では内需拡大や規制緩和、対外市場開放が提言された。
- ③ 1993年からの日米構造協議では、日本市場参入の成果の数値目標を求めたアメリカに対して、日本は管理貿易につながるとして激しく対立した。
- ④ 2022年にバイデン大統領は、政府補助金などを理由に、日本からの輸入に対して制裁的な関税を導入した。

問9 下線部②の日米貿易協定に関して、日本側が関税の撤廃・削減をおこなわなかった品目として最も適当なものを、次の①～④のうちから一つ選びなさい。

- ① 肉類                      ② 米                      ③ 小麦                      ④ チーズ

1

計算用紙

(1)  $x = \frac{1}{1 + \sqrt{2} + \sqrt{3}}$ ,  $y = \frac{1}{1 - \sqrt{2} + \sqrt{3}}$  のとき,

$$x + y = \boxed{1}, \quad \frac{x}{y} + \frac{y}{x} = \boxed{2} \sqrt{\boxed{3}}$$

である。

(2)  $a$  を実数の定数とする。2つの2次方程式  $x^2 - 5x + a = 0$ ,

$x^2 - 3x + 2a - 6 = 0$  が共通の解  $k$  をもつとき,  $a$  の値と解  $k$  の組は

$$(a, k) = (\boxed{4}, \boxed{5}), (\boxed{6}, \boxed{7}), (\boxed{8}, \boxed{8})$$

である。

(3)  $0^\circ < \theta < 90^\circ$  とする。  $\tan \theta = 2\sqrt{2}$  のとき,

$$\cos \theta = \frac{\boxed{9}}{\boxed{10}}, \quad \sin^2 \theta - \sin(90^\circ - \theta) = \frac{\boxed{11}}{\boxed{12}}$$

である。

(4) 三角形 ABC において,  $AB = 6$ ,  $AC = 4$ ,  $\angle BAC = 60^\circ$  とすると,

$$BC = \boxed{13} \sqrt{\boxed{14}}, \quad \text{三角形 ABC の面積 } S = \boxed{15} \sqrt{\boxed{16}}$$

である。

2 二次関数

計算用紙

$$f(x) = -x^2 + (2a - 3)x - 1 \quad (a \text{ は実数の定数})$$

に対して、 $y = f(x)$  のグラフを  $C$  とする。

(1)  $C$  が  $x$  軸と共有点をもつ  $a$  の値の範囲は

$$a \leq \frac{17}{18}, \frac{19}{20} \leq a$$

である。また、 $C$  が直線  $y = a^2 - 7$  から切り取る線分の長さが  $\sqrt{3}$  のとき、

$$a = \frac{21}{22}$$

である。

(2)  $C$  を原点に関して対称移動し、 $x$  軸方向に  $a$ 、 $y$  軸方向に  $b$  ( $b$  は実数の定数)

だけ平行移動して得られるグラフを  $C'$  とする。 $C'$  が原点を通るとき、

$$b = a^2 - 23, a - 24$$

であり、 $C'$  と  $x$  軸との交点の  $x$  座標は

$$x = 0 \text{ および } x = 25$$

である。

(3)  $0 \leq x \leq 3$  における  $f(x)$  の最小値が  $-1$  のとき、 $a$  の値の範囲は

$$a \geq 26$$

である。さらに、最大値が  $3$  のとき、 $a$  の値は

$$a = \frac{27}{28}$$

である。

3 2枚の硬貨を同時に1回投げるとき、表が2枚出る事象をA、表が1枚出る事象をB、表が1枚も出ない事象をCとする。この操作を4回行い、出た表の枚数の合計をPとする。

計算用紙

(1) Bが4回起こる確率は  $\frac{\boxed{29}}{\boxed{30} \mid \boxed{31}}$  である。

(2) Aが1回、Bが2回、Cが1回起こる確率は  $\frac{\boxed{32}}{\boxed{33} \mid \boxed{34}}$  である。

(3)  $P = 4$  となる確率は  $\frac{\boxed{35} \mid \boxed{36}}{\boxed{37} \mid \boxed{38} \mid \boxed{39}}$  である。また、 $P = 4$  のとき、事象

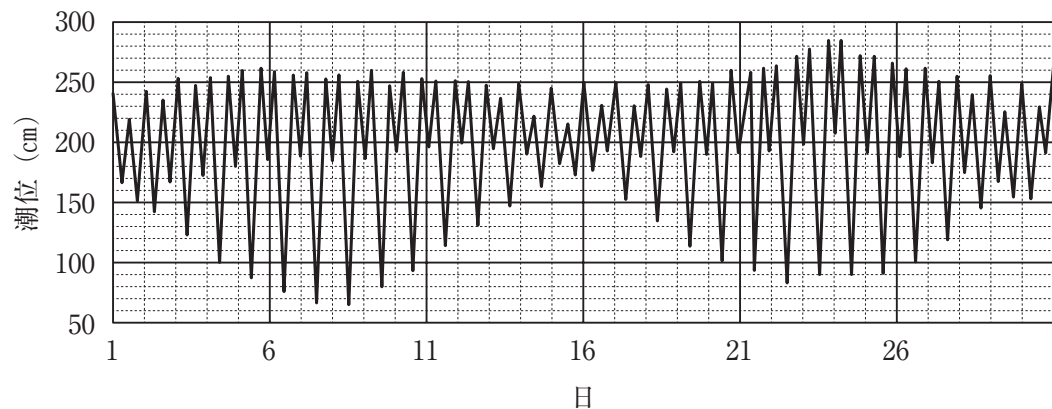
Aが少なくとも1回起こっている条件付き確率は  $\frac{\boxed{40} \mid \boxed{41}}{\boxed{42} \mid \boxed{43}}$  である。

(4) A, B, Cのそれぞれが、少なくとも1回ずつ起こる確率は  $\frac{\boxed{44}}{\boxed{45}}$  である。

(5) Pの期待値は  $\boxed{46}$  である。

4 次の図1は、太平洋岸のある地点での2024年6月の干潮時と満潮時の潮位（基準面からの海水面の高さ）を折れ線グラフで示したものである。（日付の数字はその日の午前0時を表す。）

図1 干潮・満潮時の潮位（2024年6月）



潮位は、主に月と太陽の引力に起因する起潮力によって周期変化を示す。図1では、次のA、B、Cの3種類の周期変化が見られる。

- A 約半日ごとに、干潮を繰り返す。
- B 約一日ごとに、満潮・深い干潮・満潮・浅い干潮のパターンを繰り返す。
- C A、Bより長い周期で、潮差（隣り合う干潮と満潮の潮位の差）が周期的に変化する。

(1) 図1に現れる潮位の最大値は   0 cm, 最小値は  0 cm, 潮差の最大値は   0 cmである。ただし、一の位を切り捨てて答えなさい。

(2) 図1に干潮は58回現れるので、周期変化Aの周期は約   時間である。

(3) 周期変化Cの周期を見やすくするために、図1のデータを次の3通りの方法で処理した。

- I 満潮時の潮位だけを取り出す。
- II 周期変化Bの1周期（2回の満潮と2回の干潮）ごとに潮位の最大値と最小値の差を取る。
- III IIの値を、その回と前後それぞれ2回の値の平均値に置き換える。

次の図2、図3、図4はI、II、IIIの処理で得られた値を折れ線グラフで表したものである。（I、II、IIIがそれぞれどの図に対応するかは示されていない。）

図2

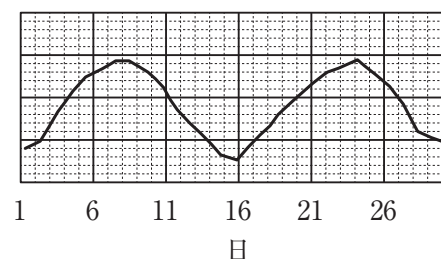


図3

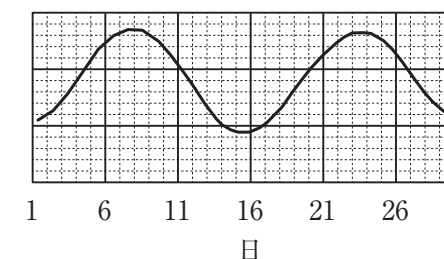
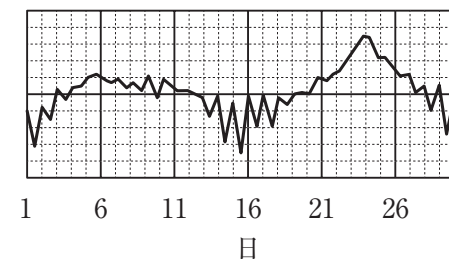


図4



これらの図のうち、周期変化が一番見やすいのは図3である。図3はI、II、IIIの処理のうちの  を用いて得られたものである。  には、次の①～③のうちから適切なもの一つを選びなさい。

- ① I
- ② II
- ③ III

周期を求めるにはもっと長い期間での変化を見る必要がある。2024年1月から6月までのデータを用いて図3を拡張したものが次の図5である。図の横軸目盛は、1月1日を1日として通算した日数である。

図5

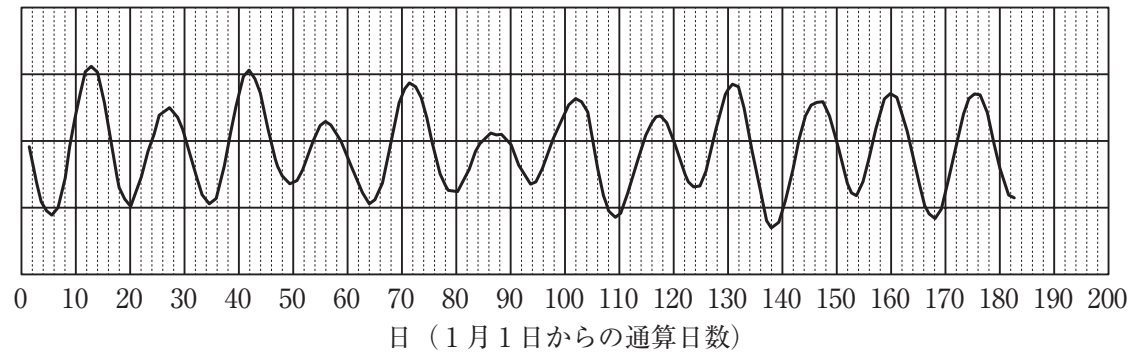
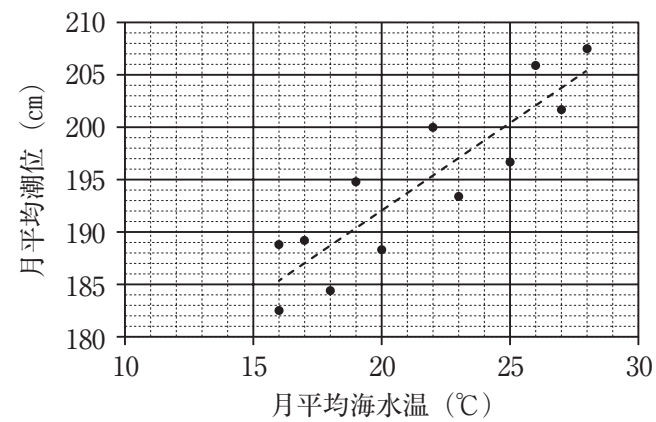


図5を用いてCの周期を求めると、約   日となる。

(4) 潮位は海水温の変動による変化も受ける。海水温が潮位に与える影響を調べるため、2024年1月から12月までの各月ごとに月平均海水温と月平均潮位を求めて散布図にしたものが次の図6である。図には海水温と潮位の関係を1次式で近似した直線も示されている。

図6



地球温暖化の影響で海水温が3℃上昇するときの海水面の上昇を、気圧などの影響はないものとしてこのデータから推測すると、約  cmである。

令和8（2026）年度

一般入試（学科別）2月3日実施

ホスピタリティ・マネジメント学科、現代社会学科

日本史

		解答番号	正解			解答番号	正解	
第1問	4点	問1	1	④	4点	問7	7	③
	3点	問2	2	①	3点	問8	8	②
	3点	問3	3	③	3点	問9	9	③
	4点	問4	4	②	4点	問10	10	②
	3点	問5	5	③	3点	問11	11	①
	3点	問6	6	②				
第2問	各3点	問1	12	②				
		問2	13	③				
		問3	14	①				
		問4	15	④				
		問5	16	③				
		問6	17	②				
		問7	18	①				
第3問	各3点	問1	19	④				
		問2	20	②				
		問3	21	②				
		問4	22	①				
		問5	23	③				
		問6	24	②				
		問7	25	④				
第4問	各3点	問1	26	③				
		問2	27	②				
		問3	28	①				
		問4	29	③				
		問5	30	④				
		問6	31	①				
		問7	32	③				
[100点満点]								

令和8（2026）年度

一般入試（学科別）2月3日実施

ホスピタリティ・マネジメント学科、現代社会学科

世界史

		解答番号	正解			解答番号	正解
第1問	各2点	問1	1	④	問6	6	④
		問2	2	③	問7	7	②
		問3	3	②	問8	8	①
		問4	4	③	問9	9	②
		問5	5	①	問10	10	①
第2問	各3点	問1	11	③	問6	16	①
		問2	12	②	問7	17	②
		問3	13	④	問8	18	③
		問4	14	③	問9	19	④
		問5	15	①	問10	20	①
第3問	各2点	問1	21	②	問6	26	④
		問2	22	②	問7	27	①
		問3	23	④	問8	28	③
		問4	24	①	問9	29	②
		問5	25	③	問10	30	④
第4問	各3点	問1	31	②	問6	36	④
		問2	32	④	問7	37	③
		問3	33	④	問8	38	③
		問4	34	②	問9	39	②
		問5	35	①	問10	40	①
[100点満点]							

		解答番号	正解			解答番号	正解	
第1問	2点	問1	1	②	2点	問6	6	①
	3点	問2	2	④	2点	問7	7	③
	3点	問3	3	①	3点	問8	8	④
	3点	問4	4	⑥	3点	問9	9	③
	2点	問5	5	②	3点	問10	10	②
第2問	3点	問1	11	④	3点	問6	16	①
	2点	問2	12	②	2点	問7	17	①
	2点	問3	13	②	3点	問8	18	②
	3点	問4	14	③	3点	問9	19	③
	3点	問5	15	①				
第3問	2点	問1	20	④	3点	問6	25	③
	2点	問2	21	④	3点	問7	26	④
	3点	問3	22	①	3点	問8	27	①
	3点	問4	23	④	3点	問9	28	③
	3点	問5	24	②				
第4問	3点	問1	29	③	3点	問6	34	③
	3点	問2	30	①	3点	問7	35	①
	3点	問3	31	③	3点	問8	36	②
	3点	問4	32	①	2点	問9	37	②
	2点	問5	33	②				

[100点満点]

1	(1)	4点 1	3点 2 3	解答番号 正解	
	(2)	3点 4 5	3点 6 7 8	解答番号 正解	
	(3)	3点 9 10	3点 11 12	解答番号 正解	
	(4)	3点 13 14	3点 15 16	解答番号 正解	
2	(1)	5点 17 18 19 20	4点 21 22	解答番号 正解	
	(2)	4点 23 24	4点 25	解答番号 正解	
	(3)	4点 26	4点 27 28	解答番号 正解	
3	(1)	4点 29 30 31	解答番号 正解		
	(2)	4点 32 33 34	解答番号 正解		
	(3)	5点 35 36 37 38 39	解答番号 正解		
	(4)	4点 40 41 42 43	解答番号 正解		
4	(1)	4点 44 45	解答番号 正解		
	(5)	4点 46	解答番号 正解		
4	(1)	2点 47 48	2点 49	2点 50 51	解答番号 正解
	(2)	5点 52 53	解答番号 正解		

(3)

$$\frac{54}{3}$$

$$\frac{57}{5}$$

$$\frac{55}{1} \quad \frac{56}{5}$$

解答番号  
正解

解答番号  
正解

[100点満点]