

一般入試

(学 科 別)

国 語

令和 8 (2026) 年度

試験学科
経営学科
法律学科
国際関係学科

試験時間 (60分)

解答 … 巻末

※著作権の関係上、掲載しておりません。

※著作権の関係上、掲載しておりません。

※著作権の関係上、掲載していません。

※著作権の関係上、掲載していません。

※著作権の関係上、掲載しておりません。

※著作権の関係上、掲載しておりません。

※著作権の関係上、掲載しておりません。

※著作権の関係上、掲載しておりません。

※著作権の関係上、
掲載しておりません。

(中村達^{なかむらたつひさる}『私が諸島である カリブ海思想入門』による。ただし出題に際して一部表記・表現を改め、省略した箇所がある。)

※ ユング⇨カール・グスタフ・ユング(一八七五―一九六二)。スイスの心理学者・精神医学者。「集合的無意識」や「元型」の存在を主張した。

※ 1492という出来事

⇨1492年8月、スペインを中航しインドを目指したクリストファー・コロンブスは、同年10月にカリブ海の群島に行き着いた。「コロンブスによる新世界の発見」として知られるこの出来事の後、カリブ海の先住民であるアラワク族・タイノ族は、植民地主義者たちによる虐殺や、西洋から持ち込まれた天然痘・マラリアなど

の感染症によって、ほぼ絶滅へと陥った。

※ ニーチェ⇨フリードリヒ・ヴィルヘルム・ニーチェ(一八四四―一九〇〇)。ドイツの哲学者。実存哲学の先駆者とされる。

※ バルバドス⇨カリブ海東部、小アンティル諸島中のウインドワード諸島の東端にある島国。

※ ジャン⇨リュック・ナンシー

⇨一九四〇―二〇二二。フランスの哲学者。「無為」や「分有」という概念を用いて共同体を論じた哲学者として知られる。

※ ハイデガー⇨マルティン・ハイデガー(一八八九―一九七六)。ドイツの哲学者。主著『存在と時間』などを通して独自の存在論・実存哲学を形成した。

※ グリッサン⇨エドワール・グリッサン(一九二八―二〇一一)。カリブ海フランス領マルティニーク出身の詩人・作家。元の大地に根付くことの重要性を説いた「アンティル性」や、民族・言語・文化の混交による新たなアイデンティティ形成を説いた「クレオール化」をスローガンとして打ち出した人物として知られる。

※ シェイクスピアの『テンベスト』の支配者プロスペローと奴隷キャリバン

⇨シェイクスピアの戯曲『テンベスト』(一六三三)において、孤島に流された公爵プロスペローは魔法の力によって島の支配者となるが、その過程で島に住む「怪物」のキャリバンを隷従させていった。

問(一) 空欄ア～カに当てはまる語として最も適切なものを次の選択肢1～4のうちからそれぞれ一つずつ選び、番号をマークせよ。

ア	1	修辞学	2	倫理学	3	形而上学	4	文化人類学
イ	1	一様な	2	空虚な	3	薄明の	4	極地の
ウ	1	追放	2	占領	3	分割	4	忘却
エ	1	浅ましい	2	痛ましい	3	疎ましい	4	慎ましい
オ	1	再現	2	融和	3	補完	4	喚起
カ	1	トボス	2	コスモポリタン	3	ユートピア	4	コロニアリズム

問(二) 空欄Ⅰ～Ⅳに当てはまる最も適切な表現を次の選択肢1～4のうちからそれぞれ一つずつ選び、番号をマークせよ。

- Ⅰ
- 1 この世界は神話の時代に誕生したからだ
 - 2 一切が神話の出来事を基礎とするからだ
 - 3 人間は常に新たな神話を創出してきたからだ
 - 4 世界のいたるところで創世神話は共有されているからだ
- Ⅱ
- 1 創世神話を語り継ぐ存在を根絶やしにされたカリブ海は
 - 2 征服によって新たな神話を押し付けられたカリブの人々は
 - 3 原住民が語り、植民者が存在の規範としたカリブ海の「創世」は
 - 4 1492以降もひそかに伝承されてきたカリブ海独自の神話は
- Ⅲ
- 1 「発見者」の野蛮は、留まることを知らないのだ
 - 2 「発見」において優位なのは、常に「発見者」なのだ
 - 3 「発見される人々」は、そのような形で「主体」になるのだ
 - 4 その結果、カリブ海の創世神話はますます失われていくのだ
- Ⅳ
- 1 鬼とされる存在の口から語られることは何もない
 - 2 成敗された鬼が改心することで物語に平和が訪れる
 - 3 鬼は事後的に討伐されるべき悪として認識される
 - 4 鬼がどれほど正義を主張しても誰も聞く耳を持たない

問(三) 傍線部A「他者」について、本文における「他者」に関する説明として最も適切なものを、次の選択肢1～4のうちから一つ選び、番号をマークせよ。

- 1 文明化された西洋とは異なる未開の地に住む野蛮な人々であり、それゆえに自分たちの存在の規範としては神話という物語以外を持つことができない、と軽視される人々。
- 2 自らを常に理性的・経済的な主体とする西洋人にとって非理性的・非経済的・非人間的な客体であり続け、神話という起源の物語さえ持っていない、とみなされる人々。
- 3 植民地化する西洋の「発見」の神話においては常に教育される存在として捉えられる一方で、そうした神話を解体する力を持っているために、西洋から敬われることもある人々。
- 4 西洋から「発見」の神話を押し付けられながらも「健全な想像力」を保ち続けた存在であり、だからこそ西洋の人々に植民地主義とは別の「出会い」の可能性をもたらす人々。

問(四) 傍線部B「共通的存在」と「共同での存在」の区別について、その「区別」の説明として最も適切なものを次の

選択肢1～4のうちから一つ選び、番号をマークせよ。

- 1 「共通的存在」は一つの意識や一つの民族といった共通する自己同一性を本質として成立する実体である一方で、「共同での存在」は人間の実存という現実的な概念を本質的なものとみなすものである。
- 2 「共通的存在」とは神話的な力と定義によって成立する実体であり、全体主義思想やナショナリズムを生み出す存在であるが、「共同での存在」はそうした神話の外に共同体の起源を見出そうとする存在である。
- 3 「共通的存在」の中心的特徴は神話であり、神話的な力によって共同体的な合一が果たされた実体とみなされる一方で、「共同での存在」はそうした「神」の存在を必要とせず、ただ「人間」の力だけで人々を融合する。
- 4 「共通的存在」は神話という起源の物語を通して形づくられ、民族などの概念によって一つにまとめられた実体であるが、「共同での存在」はそうした本質的なものによって成り立つことも営まれることもない存在である。

問(五)

傍線部C「ここで重要なのは、グリッサンのカリブ海には創世という概念は必要ないという力強い主張である」について、グリッサンの主張の説明として最も適切なものを次の選択肢1～4のうちから一つ選び、番号をマークせよ。

1 カリブ海の神話は世界の創世や血縁といった概念を提示する起源の物語としてあるのではなく、複数の民族や文化の接触と交わりという記憶によって作られたものだ、ということ。

2 創世という概念は西洋がカリブ海に押し付けたものに過ぎず、そうした西洋の「発見」の神話にカリブ海が抵抗するためには、別の側面から自らの文化の純粋性を主張するべきだ、ということ。

3 カリブ海は異なる民族が接することで作られた複合的文化を持つ共同体であり、そうした異種混交の記憶を消し去るために創世神話を作り上げた西洋とは対照的である、ということ。

4 世界の創世や起源の概念に基づく西洋の共同体から「発見」の神話を負わされているカリブ海にも、西洋の神話とは異なる形での、共同体の正当性を唱える神話が存在することは確かである、ということ。

問(六)

波線部i～iiについて、カタカナの部分と同じ漢字が使われている語を次の選択肢1～4のうちからそれぞれ一つずつ選び、番号をマークせよ。

i 血トウ

1 トウ記

2 トウ錯

3 トウ計

4 トウ破

ii ショウ華

1 ショウ灯

2 ショウ敗

3 ショウ徴

4 ショウ降

問(七) 傍線部D「ラミンクの言う「悲しくも希望に満ちた叙事詩」について、ラミンクによる物語「部族少年たちと略奪王たち」のどのようなところが「悲しくも希望に満ちた叙事詩」と言えるのか。その説明として最も適切なものを次の選択肢1～4のうちから一つ選び、番号をマークせよ。

1 コロンブスによるカリブ海の「発見」を再現した「部族少年たちと略奪王たち」は「発見者」である西洋の視点ではなく「発見される人々」であるカリブ海の人々の視点で語られ、さらにその語りは人間としての尊厳を示したものであるため、「発見者」と「発見される人々」の平等な出会いの可能性を示しているところ。

2 「部族少年たちと略奪王たち」の三人の語り手がそれぞれアフリカ系、インド系、中国系である点からグローバルな西洋文化を象徴するものであるとともに、「略奪王たち」に屈服するのではなく自らの意志で死んでいった三人の姿から、「発見される人々」も「発見者」と同様に尊敬すべき人間であることが語られているところ。

3 コロンブスと同様に海を越えてやってきた侵略者である「略奪王たち」に対し、「部族少年たち」は一切の命乞いをせずに崖から身を投げることで人間としての行動を示し、その行動を目の当たりにした「略奪王たち」が「部族少年たち」もまた自分たちと同じ人間であったと気づき、「発見される人々」である彼らに敬意を抱くところ。

4 サン・クリストバル島の所有権を主張する「略奪王たち」に対して「部族少年たち」は抵抗闘争ではなく人間としての意志を持った死を選ぶが、「発見される人々」である「部族少年たち」のそうした非暴力的な抵抗を「略奪王たち」は「発見者」よりもはるかに人間らしいものと認め、自分たちの非道な侵略行為への責任感を持つところ。

問(八) 本文中の枠で囲まれたa～eは本来の文章の順序ではない。正しく並べ替えるとすれば、次の中のどれが最も適切か。選択肢1～4のうちから一つ選び、番号をマークせよ。

1 c | d | b | a | e

2 c | e | a | d | b

3 e | a | d | b | c

4 e | c | a | b | d

問(九)

本文の内容に最もよく合致するものを次の選択肢1～4のうちから一つ選び、番号をマークせよ。

1 神話は世界の起源を伝える物語であり、その土地に住む人々に行方や存在の規範を教えるものであるが、1492という出来事を経て原住民がほぼ絶滅し、起源の神話が失われてしまったカリブ海の人々は、西洋の植民者たちによる「発見」の神話を新たな物語として受け入れざるを得なかった。

2 西洋中心的な認識に基づく限り、カリブ海は食人種たちが住む未開の地であり、「健全な想像力を失った世界」であるが、カリブ海の視点から見つめ直してみるならば、そこには西洋とは別の創世や起源の神話が今も残されており、その神話では人間の実存と共同体の純粋な合一が語られているのである。

3 「文化的接触の記憶」を語るカリブ海の神話は唯一の起源や民族の全体性に基づくものではなく、異なる文化を持った人々の平等な出会いを描くものであり、「発見される人々」が「発見者」の絶対的な価値観を揺さぶる存在として尊敬される様子を描くその神話は、私たちに異質な「他者」との出会いの大切さを教えてくれる。

4 コロンブスによる「発見」以降、世界の創世を語り継ぐ存在が消えたカリブ海は、植民地支配の歴史などを経て「発見者」と「発見される人々」の文化的遭遇や異種混交の神話を生み出したのであり、その神話を自身の小説の中で具体化したラミングは、西洋と非西洋の「出会い」をさらに押し進めることの重要性を語っている。

二、問(一)～問(三)の設問に答えよ。

問(一)

次の空欄に当てはまる最も適切な語を、下の1～5の中からそれぞれ一つずつ選び、番号をマークせよ。

a 彼は機嫌を【 】ねて、最後まで無愛想な顔をしていた。

- 1 重
- 2 兼
- 3 訪
- 4 束
- 5 損

b 甘みと香りが【 】縮された、濃厚なオレンジジュース。

- 1 擬
- 2 凝
- 3 戯
- 4 疑
- 5 仰

c あの恋愛小説の奥底には、じつは反戦の【 】意があった。

- 1 厚
- 2 含
- 3 故
- 4 悪
- 5 敬

d 亀の甲より年の【 】は年長者に任せなさい。

- 1 功
- 2 効
- 3 孝
- 4 公
- 5 高

e 彼の反論は、反対派の気【 】を削ぐのに十分だった。

- 1 性
- 2 精
- 3 声
- 4 勢
- 5 盛

f 万策尽きて、もう打つ手がない。万事【 】すだ。

- 1 急
- 2 求
- 3 久
- 4 窮
- 5 休

g 起業した当初は、まさに【 貧洗うがごときだった。

1 黒 2 青 3 赤 4 白 5 黄

h 社の上層部は『組織改革のため』という大義【 分を振りかざして、多くの従業員を解雇した。

1 名 2 明 3 命 4 迷 5 銘

i その海岸は、地元住民にとって手頃な散【 地として親しまれている。

1 作 2 策 3 索 4 柵 5 朔

j 椅子に深く座ってくつろいだ途【 に、電話が鳴った。

1 丹 2 短 3 単 4 端 5 炭

問(二) 次の文章中の空欄 a～j に最もよく当てはまる語を、それぞれ後の 1～15 の中から一つ選び、番号をマークせよ。

(なお、同じ番号を重複して用いないこと。)

※著作権の関係上、掲載しておりません。

11	学習意欲	12	論理的	13	しがらみ	14	なんだか	15	大差
6	伝統的	7	当惑	8	存亡	9	楽観的	10	抽象的
1	応答	2	語学力	3	痕跡	4	自明	5	未知

※ ジョン・ケージやアレン・ギンズバーグ
 〓両者とも米国の芸術家。前者ケージは音楽家、詩人、思想家(1924-1992)、後者ギンズバーグは詩人、活
 動家(1926-1997)。

(四方田犬彦よもた いぬひこ『旅の王様』による。ただし出題に際して一部表記を変更し、省略した箇所がある。)

※著作権の関係上、掲載しておりません。

問(三) 次に上げる故事成語、ことわざの空欄に当てはまる最適の語(植物名)をそれぞれ後の1～15から一つずつ選び、番号をマークせよ。(なお、同じ番号を重複して用いないこと。)

- ・実るほど頭しんがしらを垂れる【イ】穂かな。
- ・木に【ロ】を継ぐ。
- ・【ハ】に雪折れなし。
- ・快刀乱【ニ】を断つ。
- ・門【ホ】は冥土めいどの旅の一里塚。
- ・【ヘ】の磔つがひ。
- ・出【ト】の誉ほまれ。
- ・青【チ】に塩。
- ・【リ】に鶯うぐいす、竹たけに虎。
- ・【ヌ】下に冠かんむりを正さず。

11	6	1
菜	梨	桜
12	7	2
柳	柿	藍
13	8	3
竹	梅	松
14	9	4
麻	稻	桃
15	10	5
麦	菊	李

一般入試

(学 科 別)

英 語

令和 8 (2026) 年度

試験学科
経営学科
法律学科
国際関係学科

試験時間 (60分)

解答 … 巻末

I. 次の1～12の下線部の内容に最も近いものを、①～④からそれぞれ1つずつ選び、マークしなさい。

1. Don't give up! You should keep trying!

- ① ship ② sharp ③ quit ④ quite

2. After school, I am going to do my homework.

- ① plan ② am trying ③ do not ④ will

3. I don't recall his name. Do you?

- ① call over ② confuse ③ tell ④ remember

4. Karen works out every day. That is why she is in such good shape.

- ① exercises ② reviews
③ experiences ④ returns

5. Patty was pretty tired after work, so she decided not to go out with her friends.

- ① nevertheless ② hardy
③ quite ④ comfortably

6. This test is really tough. Even people who are very intelligent have trouble passing.

- ① coarse ② brain ③ interactive ④ smart

7. Could you hold on for a second? I have to go back and lock the door.

- ① consider ② start ③ wait ④ uphold

8. I can't wait to see Terry next week. It's been so long since I've seen her.

- ① am very excited ② do not want
③ will be unable ④ should turn around

9. Rents have climbed by 47% this year.

- ① increased by ② run around
③ turned down ④ run through

10. He has been talking for a long time. I wish he would wrap up his presentation.

- ① figure ② film ③ forget ④ finish

11. Tina almost never wakes up before 6:00.

- ① rarely ② every ③ smelly ④ helpless

12. I doubt that she can actually speak Spanish.

- ① never feel ② do declare
③ don't believe ④ need to say

II. 次の1～12の英文の()内に入るものとして、最も適当なものを①～④からそれぞれ1つ選び、マークしなさい。

1. I can () finish my homework or get some sleep, but I don't have time to do both.

- ① their ② either ③ neither ④ whether

2. Would you () go to the beach or stay at home?

- ① whether ② though ③ farther ④ rather

3. () how to get to the train station?

- ① Could you tell me ② Would you ever
③ There isn't the way ④ Whatever you need

4. That was () difficult test I have ever taken.

- ① the more ② the best ③ the most ④ more than

5. The concert was sold out, so he () buy a ticket.

- ① wasn't able to ② couldn't to
③ had not to ④ didn't allow to

6. The train is more comfortable, but the bus is ().

- ① more afford ② better cost
③ overall ④ cheaper

7. I won't have to take a taxi because my mother will () at the airport.

- ① pick me up ② pull me over
③ pour me on ④ put me above

8. The stove is really hot so () not to touch it.

- ① should ② stay aware ③ be sure ④ avoid

9. Their heights are similar, but I think Dwayne is () taller than Sara.

- ① a little bit ② more
③ a giant degree ④ moreover

10. Her performance at the recital was excellent () she didn't practice very much.

- ① due to ② even though
③ in any event ④ simply

11. () does it take you to get to work?

- ① How long ② How many time
③ How time ④ How minutes

12. () any good restaurants around here?

- ① Can recommend ② Do you know
③ Have you ever ④ Are you aware

Ⅲ. 次の会話文の (A) ~ (E) に入るものとして最も適当なものを、
①~④からそれぞれ1つずつ選び、マークしなさい。

Ray and Abby are having a chat after class.

Ray : (A) you think of today's lecture?

Abby : It was okay, but I don't really like history, so it was a little boring.
How about you? Did you find it interesting?

Ray : Yeah, I thought it was pretty good. Professor Smith is passionate
about history, so I usually enjoy her classes. Hey, have you eaten
lunch yet?

Abby : No, I haven't. Have you?

Ray : No. Actually, I (B) to the cafeteria right now. Would
you like to join me?

Abby : Well, I was thinking about having lunch off campus. The cafeteria
is always so crowded at this time of day.

Ray : Yeah, that's true. Going off campus is a good idea. (C)?

Abby : I've been wanting to try that new sandwich shop near the station.
Have you ever been there?

Ray : No, I haven't, but it looks really good.

Abby : Yeah, my friend Brenden went there yesterday, and he said it was
delicious. The only (D) is that it's a little expensive.

Ray : Really? How expensive?

Abby : I think it's about 2000 yen for a sandwich and a small drink.

Ray : Oh, that's pretty pricey. I only have 1000 yen on me. Do you think
I could borrow some money?

Abby : Sure, no problem. Actually, (E) I buy lunch today,

and you can treat me tomorrow?

Ray : It's a deal!

- (A) ① How are
② Where would
③ When do
④ What did
- (B) ① am heading
② will eat
③ had direct
④ moving now
- (C) ① How are you do
② Isn't that the reasonable
③ Where is the nearest station
④ What did you have in mind
- (D) ① slide down
② downside
③ upward
④ rise up
- (E) ① therefore
② treat
③ how about
④ I can

IV. 次の一連の英文に関する、1～5の質問の答として最も適当なものを①～④からそれぞれ1つずつ選び、マークしなさい。

※著作権の関係上、掲載しておりません。

1. According to the passage above:

- ① ChatGPT is more popular than Google among industry experts.
- ② Fake reviews are a new problem on popular websites like Amazon and Google.
- ③ AI programs have made it easier to create reviews.
- ④ AI tools that have been popularized by OpenAI are not used to produce reviews.

※著作権の関係上、掲載しておりません。

※著作権の関係上、掲載しておりません。

2. According to the passage above:

- ① Since the middle of 2023, the use of AI to produce reviews has grown rapidly.
- ② Prior to the middle of 2023, the use of AI to produce reviews declined rapidly.
- ③ The number of reviews that have been produced by AI has not changed since the middle of 2023.
- ④ In the middle of 2023, technology companies agreed to stop using AI to produce fake reviews.

3. According to the passage above:

- ① The Transparency Company provides a range of services, including home repairs and medical care.
- ② About 14 percent of workers at The Transparency Company have written fake reviews.
- ③ The Transparency Company uses technological tools to produce fake reviews.
- ④ The Transparency Company conducted a study that identified millions of potentially fake reviews.

※著作権の関係上、掲載しておりません。

4. According to the passage above:

- ① Amazon does not allow its customers to use AI when writing product reviews.
- ② All major technology companies encourage customers to use AI when writing product reviews.
- ③ Google's rules prohibit customers from using AI when writing product reviews.
- ④ Neither Amazon nor Google has a policy regarding the use of AI when writing product reviews.

※著作権の関係上、掲載しておりません。

5. According to the passage above:

- ① Kay Dean is satisfied with tech companies' efforts to eliminate fake reviews.
- ② Kay Dean currently works as a federal criminal investigator.
- ③ Amazon and Google sued Kay Dean for his role in writing fake reviews.
- ④ Kay Dean thinks tech companies need to do more to limit false reviews on their websites.

V. 次の一連の英文を読み、設問に答えなさい。

問1. 次の一連の英文に関する1～5の質問の答えとして最も適当なものを、

①～④からそれぞれ1つずつ選び、マークしなさい。

※著作権の関係上、掲載しておりません。

1. According to the passage above:

- ① Bukchon Hanok Village is a popular destination for Korean travelers, but few foreigners visit the area.
- ② Tourism in Seoul has declined because it is the capital city of South Korea.
- ③ Some residents of Bukchon Hanok Village are upset by the behavior of tourists who come to the village.
- ④ Locals often create conflict by borrowing tourists' cameras and taking pictures without permission.

2. According to the passage above:

- ① The population of Bukchon Hanok Village is much larger than the number of tourists who visited the village last year.
- ② The population of Bukchon Hanok Village is much smaller than the number of tourists who visited the village last year.
- ③ The population of Bukchon Hanok Village is about the same as the number of tourists who visited the village last year.
- ④ There are no residents who live in Bukchon Hanok Village, but many tourists visited the village last year.

※著作権の関係上、掲載していません。

※著作権の関係上、掲載していません。

3. According to the passage above:

- ① Chung Moon-hun is not concerned with the rights of people who live in the village.
- ② Although soccer is popular, Chung Moon-hun thinks people should not be allowed to play soccer in the village.
- ③ Visitors who do not follow the curfew rules may have to pay fines of over \$50.
- ④ In November, Chung Moon-hun will be on trial for violating the new curfew.

※著作権の関係上、掲載していません。

※著作権の関係上、掲載しておりません。

4. According to the passage above:

- ① Kwon Young-doo is worried that the curfew will cause visitors to have negative feelings about the Bukchon area.
- ② Kim Eun-mee owns a business that clears trash from popular tourist sites in the Bukchon area.
- ③ Traditional hanok houses are usually owned by tourists who like to keep normal routines and avoid interacting with locals.
- ④ Officials in the Bukchon area hope to ban tourists from using suitcases and from waking up early.

※著作権の関係上、掲載しておりません。

5. According to the passage above:

- ① Visitors feel that there is no need to consider locals' quality of life.
- ② Owners of hanok houses feel it is easy to take care of them.
- ③ Foreigners will not be allowed to leave the country if they break the curfew.
- ④ Lee Dong-woo runs a website that rents hanoks.

問2. (A) ~ (D) に入るものとして最も適当なものを、①~④からそれぞれ1つずつ選び、マークしなさい。

- (A) ① about ② ahead ③ down ④ to
- (B) ① arrive ② be ③ start ④ then
- (C) ① because ② due to ③ result of ④ thanks on
- (D) ① what ② when ③ who ④ why

令和8（2026）年度

一般入試（学科別）2月4日実施

経営学科、法律学科、国際関係学科

英語

- | | | | | | | | | |
|----------|------|-------|-------|-------|------|------|------|------|
| I. 各2点 | 1. ③ | 2. ④ | 3. ④ | 4. ① | 5. ③ | 6. ④ | 7. ③ | 8. ① |
| | 9. ① | 10. ④ | 11. ① | 12. ③ | | | | |
| II. 各2点 | 1. ② | 2. ④ | 3. ① | 4. ③ | 5. ① | 6. ④ | 7. ① | 8. ③ |
| | 9. ① | 10. ② | 11. ① | 12. ② | | | | |
| III. 各2点 | (A)④ | (B)① | (C)④ | (D)② | (E)③ | | | |
| IV. 各3点 | 1. ③ | 2. ① | 3. ④ | 4. ③ | 5. ④ | | | |
| V. 各3点 | 問1 | 1. ③ | 2. ② | 3. ③ | 4. ① | 5. ④ | | |
| | 問2 | (A)① | (B)② | (C)② | (D)③ | | | |

[100点満点]

一般入試

(学 科 別)

選択科目

日本史

世界史

政治・経済

数学

令和 8 (2026) 年度

試験学科

経営学科

法律学科

国際関係学科

試験時間 (60分)

解答 … 巻末

〈数学解答上の注意〉

- 分数形で解答が求められているときは、既約分数（それ以上約分ができない分数）で答えなさい。
- 根号を含む形で解答する場合は、根号の中に現れる自然数が最小となる形で答えなさい。

日本史

第1問 次の文章を読んで、下の問い（問1～11）に答えなさい。

社会の維持・発展に不可欠なものとされる税は、時代とともにその内容も変化してきた。646年に改新の詔が発せられて以来、日本では律令制度の整備が進められ、701年に制定された大宝律令によってその完成を見た。租税に関しては **A** が管轄し、租調庸などの負担が民衆に課されることとなった。しかし、民衆にとって当時の税負担は決して軽いものとは言えず、調庸の未納なども見られるようになったため、9世紀に入り政府は大宰府管内に **B** を設けるなど、直営田からの財源確保を図った。他方で皇族や貴族らによる私的な土地占有も進み、11世紀には各地で寄進地系荘園が形成された。

武家政権が確立する中世においても各地には多数の荘園が存在し、荘園の内部に住む農民らは荘官に対し税の納入や労役の負担をおこなっていた。1333年に鎌倉幕府が滅亡し、後醍醐天皇による建武の新政を経て、1338年に足利尊氏によって京都を拠点とする新たな幕府が樹立された。この足利幕府は直轄地からの収益のほか、守護大名から民衆に至る各階層からさまざまな名目で金銭を負担させていたが、將軍家や守護大名間の内紛が多く、幕府は次第に衰退し、日本全国に群雄が割拠する状況に陥った。

17世紀初めに徳川將軍を頂点とする江戸幕府が成立し、従来よりも細やかな階層・身分差からなる社会が構築された。人口の大部分を占める農民に対し、幕府はさまざまな負担を課し統制を強めた。各地には多数の城下町や港町などが生まれた。幕領（幕府直轄領）の町に住む商人や手工業者などの町人に対しても幕府は諸負担を課していた。また、17世紀中頃より幕府はキリスト教禁止の徹底や貿易の利益独占を図るため、いわゆる鎖国政策を外交・貿易の基本方針としていたが、19世紀中頃にアメリカやロシアから開国を迫られると方針を転換し、欧米諸国との貿易を本格化させることとなった。1858年に調印された日米修好通商条約は日本に不利な協定関税制をしいていたが、条文中にはその「関税」にあたる語句が **C** として登場する。

明治新政府は安定した税収の確保のため、1873年に地租改正条例を公布し、従来の税制を大きく転換させた。しかし、同時期に進められていた経済・貨幣政策の影響で物価の高騰が進んだため、1881年に大蔵卿に就いた松方正義は、**D** などを進めることにより、物価の抑制と税収の増加を図った。その後、日本は多くの対外戦争を経験することとなるが、その際には戦費調達のための増税が繰り返された。こうした中、1940年には源泉徴収制度が勤労所得などにも適用され、現在まで続いている。また、太平洋戦争の敗戦

後、1949年にアメリカ人財政学者の **E** らが来日し、彼らの勧告を基に、政府は直接税中心主義や累進所得税制導入などの税制改革をおこなった。

問1 空欄 **A** に入る語句として正しいものを、次の①～④のうちから一つ選びなさい。 **1**

① 中務省 ② 式部省 ③ 治部省 ④ 民部省

問2 下線部(1)に関して、租調庸などの負担について述べた文として誤っているものを、次の①～④のうちから一つ選びなさい。 **2**

① 租は口分田の面積に応じて課された。
② 調は郷土の産物などを納めるものであった。
③ 庸は次丁には課されなかった。
④ 雑徭は地方での労役を意味した。

問3 空欄 **B** に入る語句として正しいものを、次の①～④のうちから一つ選びなさい。 **3**

① 公営田 ② 勅旨田 ③ 乗田 ④ 官田

問4 下線部(2)に関して、中世の荘園で課された税負担として誤っているものを、次の①～④のうちから一つ選びなさい。 **4**

① 公事 ② 仕丁 ③ 夫役 ④ 年貢

問5 下線部(3)に関して、足利幕府が課していた税などの負担について述べた文として誤っているものを、次の①～④のうちから一つ選びなさい。 **5**

① 幕府は、直轄地として蔵入地を保有していた。
② 幕府は、守護を通じて段銭を徴収した。
③ 幕府は、高利貸業者から土倉役を徴収した。
④ 幕府は、通行税として関銭を徴収した。

問6 下線部(4)に関して、江戸幕府が農民に課した税や負担のうち、農業以外の副業に対して課したものと正しいものを、次の①～④のうちから一つ選びなさい。

6

- ① 国役 ② 高掛物 ③ 小物成 ④ 本途物成

問7 下線部(5)に関して、江戸幕府が町人に課した税や負担について述べた文として正しいものを、次の①～④のうちから一つ選びなさい。

7

- ① 幕府は、江戸城などの修築の際、町人に普請役を課した。
② 幕府は、町人から分一銭を徴収した。
③ 幕府は、町人に対し伝馬役を課すことはなかった。
④ 幕府は、防災や治安維持などのため、町人に町人足役を課した。

問8 空欄 C に入る語句として正しいものを、次の①～④のうちから一つ選びなさい。

8

- ① 御用金 ② 運上 ③ 津料 ④ 冥加

問9 下線部(6)に関して、次の史料は地租改正条例（一部抜粋）であるが、この史料を参考に、地租改正条例について述べた文として誤っているものを、下の①～④のうちから一つ選びなさい。なお、史料は一部手を加えたり書き改めたりしたところがあります。

9

今般^{こんぱん}地租改正^{ちそくせいせい}ニ付、旧^{きゅう}来田畑^{きやうけん}貢納^{きゆうなう}ノ法^{ほう}ハ悉^{しつ}皆^{かい}相廢^{さうはい}シ、更^{さら}ニ地券^{ちけん}調査^{ちさう}相濟^{さうせい}次第^{たい}第^{だい}、土地^{とち}ノ代価^{だいか}ニ随^{したが}ヒ百分^{ひゃくぶん}ノ三^{さん}ヲ以^{もつ}テ地租^{ちそく}ト相定^{さうてい}ムヘキ旨^{むね}仰^{おほ}セ出^でサレ候^{こう}条^{じょう}、改正^{せいせい}ノ旨^{むね}趣^{しゆ}別紙^{べつし}条例^{ていれい}ノ通^{とお}相心^{さうしん}得^えヘシ。……

（別紙）地租改正条例

第二章 地租改正施行^{ちそくせいせいしん}相成^{さうせい}候^{こう}上^{うへ}ハ、土地^{とち}ノ原価^{げんか}に随^{したが}ヒ賦税^{ふぜい}致^{せい}シ候^{こう}ニ付、以後^{いご}假令^{かりあひ}豊熟^{ほうじやく}ノ年^{とし}ト雖^{いなと}モ申^{まを}シ付^づケサルハ勿^{もちろん}論^{いさく}、違^{ちが}作^{しやう}ノ年^{とし}柄^{がら}之^の有^あリ候^{こう}トモ減租^{げんそ}ノ儀^ぎ一切^{いっさい}相成^{さうせい}ラズ候^{こう}事^{こと}

第六章 ……物品^{おひん}税^{ぜい}追^お々^お発行^{はいしやう}相成^{さうせい}、歳入^{さいにゅう}相増^{さうぞう}、其^{その}収入^{しゅうにゅう}ノ額^{がく}ニ百万^{ひゃくまん}円^{えん}以上^{いじやう}ニ至^{いた}リ候^{こう}節^{せつ}ハ、地租^{ちそく}改正^{せいせい}相成^{さうせい}候^{こう}土地^{とち}ニ限^{かぎ}リ、其^{その}地租^{ちそく}ニ右^{みぎ}新税^{しんぜい}ノ増額^{ぞうがく}ヲ割^{わり}合^あヒ、地租^{ちそく}ハ終^{つひ}ニ百分^{ひゃくぶん}ノ一^{いち}ニ相成^{さうせい}候^{こう}迄^{まで}漸次^{ぜんじ}減少^{げんじゆ}致^{せい}スヘキ事^{こと}（法令^{ほうれい}全書^{ぜんしゆ}）

- ① 「旧来田畑貢納ノ法」とは、米納を原則とした年貢納入法のことである。
② 「地券」には、その土地の所有者の氏名が記載されていた。
③ 地租改正の実施により、作物の豊凶に関わらず、地租の税率は一定となった。
④ 地租改正の実施後、政府の税収が増加しても地租の税率は一定とされた。

問10 空欄 D に入る事柄として正しいものを、次の①～④のうちから一つ選びなさい。

10

- ① 官営事業の拡大 ② 国立銀行の設置
③ 政府財政の緊縮 ④ 金兌換紙幣の発行

問11 空欄 E に入る人物名として正しいものを、次の①～④のうちから一つ選びなさい。

11

- ① ドッジ ② シャウブ ③ ダレス ④ マッカーサー

第2問 次の文章を読んで、下の問い（問1～7）に答えなさい。

古代より現代に至るまで、日本国内においてもさまざまな思想や宗教が形成され、あまたの美術品、文学作品、建築物、庭園などが生み出されてきた。その多くは、当時の社会情勢を背景に誕生したものであり、たとえば「〇〇文化」という表現は、社会情勢と連動する文化面の動きをとらえたものと見えよう。

たとえば仏教に注目すると、日本列島への伝来は6世紀ごろとされるが、国家全体で仏教を奨励する気風は7世紀後半ごろからであり、特に8世紀の聖武朝期を中心とする時期に高まった鎮護国家思想は、同時期に作られた彫刻にも影響を及ぼしている。

平安時代のおよそ400年間は、文化の面においては当初は唐風であったものが徐々に国風化されていく傾向が見られ、その影響を受ける人々も天皇・皇族・貴族らがもっぱらであったのが、時代の推移とともに武士や庶民へと広がりを見せる時期でもあった。平安時代の文学作品を紐解いていくと、こうした動きを読み取ることができる。建築分野においても国風化が見受けられ、撰閤家の邸宅の復元模型で知られる A は寝殿造の代表的建造物であり、従来の唐風建築との違いが随所に現れている。

鎌倉時代に入ると、文化面における武士や庶民への広がりは一層顕著なものとなり、特に仏教界における変化はその典型であり、室町時代にもその傾向が続いている。また、室町時代初期は南北朝の動乱期でもあり、南朝の立場からその正統性を説いた北畠親房による B など、この時期には歴史書や軍記物が多く登場した。このような鎌倉・室町時代において、支配者層から支持を得たのが臨済宗であり、特に室町時代には、禅の精神を表現した作庭が盛んになり、「虎の子渡しの庭」の別称を持つ、京都の龍安寺石庭などがその代表作である。

問1 下線部(1)に関して、飛鳥文化～弘仁・貞観文化の特徴について述べた文として誤っているものを、次の①～④のうちから一つ選びなさい。 12

- ① 飛鳥文化の特徴として、中国の南北朝文化の影響が見られる。
- ② 白鳳文化の特徴として、隋の文化の影響が見られる。
- ③ 天平文化の特徴として、唐の文化の影響が見られる。
- ④ 弘仁・貞観文化の特徴として、文章経国の思想の影響が見られる。

問2 下線部(2)に関して、天平文化期に作られた塑像の彫刻として正しいものを、次の①～④のうちから一つ選びなさい。 13

- ① 東大寺法華堂不空罽索観音像
- ② 興福寺阿修羅像
- ③ 東大寺法華堂執金剛神像
- ④ 唐招提寺鑑真和上像

問3 下線部(3)に関して、平安時代の文学作品について述べた文として正しいものを、次の①～④のうちから一つ選びなさい。 14

- ① 初の勅撰漢詩文集である『性霊集』が編纂された。
- ② 中宮彰子に仕えた紫式部によって『源氏物語』が著された。
- ③ インド・中国・日本などの説話を集めた『宇治拾遺物語』が著された。
- ④ 鳥羽上皇によって民間の流行歌謡集である『梁塵秘抄』が編纂された。

問4 空欄 A に入る語句として正しいものを、次の①～④のうちから一つ選びなさい。 15

- ① 六波羅殿
- ② 大極殿
- ③ 東三条殿
- ④ 三条殿

問5 下線部(4)に関して、鎌倉～室町時代の仏教について述べた文として誤っているものを、次の①～④のうちから一つ選びなさい。 16

- ① 法然は、悪人正機を説き、死後は平等に極楽へ往生できると主張した。
- ② 日蓮は、題目唱和による救済を説き、他宗を厳しく批判した。
- ③ 室町時代、浄土真宗の信者によって一向一揆が結ばれた。
- ④ 室町時代、日蓮宗の信者によって法華一揆が結ばれた。

問6 空欄 B に入る語句として正しいものを、次の①～④のうちから一つ選びなさい。 17

- ① 『梅松論』
- ② 『太平記』
- ③ 『神皇正統記』
- ④ 『建武年間記』

問7 下線部(5)に関して、京都の龍安寺石庭として正しいものを、次の①～④のうちから一つ選びなさい。 18

①

※著作権の関係上、
掲載していません。

②

※著作権の関係上、
掲載していません。

③

※著作権の関係上、
掲載していません。

④

※著作権の関係上、
掲載していません。

第3問 次の文章を読んで、下の問い（問1～7）に答えなさい。

江戸時代に幕府が発した法令の特徴とその変遷について考察してみよう。

江戸幕府は強大な武力を備えた政権ではあったが、戦乱の時代が終わると、大名をはじめ朝廷、寺社、そして農民にいたるまで、武力を用いず法令による統制に重きを置いた。

大坂の陣ののち、江戸幕府は2代将軍徳川秀忠のもとで諸大名に対し初の武家諸法度（元和令）を制定した。その中で秀忠は1619年、福島正則を武家諸法度違反で改易に処し、功績のあった大藩の外様大名をも処分できる力量を見せつけた。⁽¹⁾

武家諸法度は以後も原則として将軍の代替わりごとに発令された。3代将軍徳川家光は寛永令と呼ばれる武家諸法度を制定したが、そこでは諸大名が原則在府・在国を1年交代で繰り返す参勤交代が制度化された。また、対外的には諸外国との交渉を規制する法令を次々と発し、いわゆる鎖国体制を築いていった。一方、幕藩体制は農民が納める年貢を財政基盤としていたから、小農経営の維持・安定をはかる法令も、家光の時代に定められた。⁽²⁾ その多くは、明治時代に近代化をすすめるために解禁されるまで、近世を通じ効力を持ち続けるものが多かった。⁽³⁾

4代将軍徳川家綱は慶安の変ののち A し、武家諸法度（寛文令）の発令とあわせて殉死の禁止を命じ、5代将軍徳川綱吉は天和令を発して第1条の文言を改めた。⁽⁴⁾

江戸幕府の鎖国政策はその後19世紀半ばになって解除され、幕府は欧米列強と通商条約を締結し開国した。開国後、幕府は江戸における生活物資の価格高騰に対処するため B を発令して価格統制を試みたが、効果は上がらなかった。

問1 下線部(1)の違反理由について説明した文として正しいものを、次の①～④のうちから一つ選びなさい。 19

- ① お家騒動をおこし幕府の介入をまねいた。
- ② 法令違反した逃亡者を藩内でかくまった。
- ③ 近親者の婚姻を無届けでおこなった。
- ④ 城の修理を無断でおこなった。

問2 下線部(2)の参勤交代による江戸在府期間が短縮されることになった政策・法令として、正しいものを、次の①～④のうちから一つ選びなさい。 20

- ① 上げ米 ② 上知令 ③ 棄捐令 ④ 旧里帰農令

問3 下線部(3)の体制を確立させた、1630年代に発せられたいわゆる鎖国令の内容として誤っているものを、次の①～④のうちから一つ選びなさい。 21

- ① 奉書船以外の海外渡航を禁止した。
② 日本人の海外渡航と帰国を全面的に禁止した。
③ ポルトガル船の来航を禁止した。
④ 朝鮮・琉球・アイヌとの交渉を禁止した。

問4 下線部(4)に関連する法令として正しいものを、次の①～④のうちから一つ選びなさい。 22

- ① 分地制限令 ② 田畑永代売買禁止令
③ 田畑勝手作りの解禁 ④ 旧里帰農令

問5 空欄 A に入る政策内容として正しいものを、次の①～④のうちから一つ選びなさい。 23

- ① 末期養子を奨励 ② 末期養子を禁止
③ 末期養子の禁を緩和 ④ 末期養子数を制限

問6 下線部(5)の第1条は改められ、「文武（ ）を^{はげま}励し、礼儀を正すべきの事」となった。（ ）に入る語句として正しいものを、次の①～④のうちから一つ選びなさい。 24

- ① 弓馬 ② 忠孝 ③ 孝悌 ④ 忠信

問7 空欄 B に入る語句として正しいものを、次の①～④のうちから一つ選びなさい。 25

- ① 五品江戸廻送令 ② 天保の薪水給与令
③ 異国船打払令 ④ 株仲間解散令

第4問 次の文章を読んで、下の問い（問1～7）に答えなさい。

明治から昭和にかけて政府が戦費をどう調達し、またその結果としてどのような影響がもたらされたかについて考えてみよう。

明治政府は⁽¹⁾1868年に初めての紙幣を発行し、1871年には新貨条例を発令して近代的な貨幣制度を導入し、その後も機会に応じ政府紙幣を増発した。しかし不換紙幣の増発は激しいインフレーションをもたらし、財政収入を実質目減りさせたため、⁽²⁾1880年代に入って財政改革が断行された。その結果、貨幣価値は安定に向かった。

立憲体制が整い、衆議院では民党が政府の軍事予算の採決をめぐってしばしば政府および史党と対立したが、1894年に日清戦争が勃発すると政党は政府批判を中止し、議会では1億5千万円の戦争関係予算案が全会一致で可決された。その結果、日本は戦いを優位にすすめ、戦争に勝利した。

戦後、日本は A による屈辱的な外交を経験した。臥薪嘗胆の世論が高まり、清にかわる敵国ロシアとの戦いに備えて政府は軍拡をすすめた。日露戦争が始まると、政府は戦争資金の調達のため増税を重ねるとともに、当時は日本銀行副総裁であり、のちに首相や蔵相として活躍する B をロンドンやニューヨークに派遣し、外債の発行による戦争資金の調達に全力を注いだ。 B の活躍が功を奏し、英米の協力を得て、日本は計7億円にのぼる外債募集に成功した。

第一次世界大戦では欧州が主戦場となったが、日本は中国山東省の青島をめぐりドイツ軍の攻略に成功し、青島と山東省權益などを接收した。また経済的には大戦景気で潤った。

大戦後は国際協調主義のもとで日本は軍縮につとめたが、1930年代になると対外膨張に転じ、際限のない軍拡の時代に突入した。

日中戦争が始まると、日本は軍需産業に資金や資材を集中的に割り当てた。軍事費は急増し、膨大な歳出を賄うために多額の公債が発行され、紙幣増発によるインフレーションが進行した。政府はさらに⁽³⁾国家総動員法によって経済統制を強め、戦争遂行に必要な資源と労働力を動員できるようになった。このため不要不急とされた民需品の生産や輸入は制限され、生活物資の不足が深刻化し、配給制・切符制による物資供給が実施された。やがて本土空襲が本格化し、国民生活も破綻して、日本は敗戦を迎えた。

第二次世界大戦後、数百万人に及ぶ復員や引き揚げで列島の人口は膨れあがったが、その分失業者が急増し、食糧難も深刻化した。終戦処理のための通貨が増発されて史上最悪

のインフレーションが発生した。幣原喜重郎内閣はその対策をおこなったが、効果は一時的であった。1948年にはGHQによる経済安定九原則が指令され、来日したドッジの立案による緊縮政策が実施されてようやくインフレーションは収束した。

問1 下線部(1)の紙幣は当時政府が関与した戦争の戦費調達のために使用されたとされる。

その戦争として正しいものを、次の①～④のうちから一つ選びなさい。 26

- ① アヘン戦争 ② 薩英戦争 ③ 戊辰戦争 ④ 西南戦争

問2 下線部(2)の財政方針の時期、極東情勢の緊迫化により、軍事費が拡大に向かった。

緊迫化をもたらした1882年の事件として正しいものを、次の①～④のうちから一つ選びなさい。 27

- ① 甲午農民戦争 ② 壬辰・丁酉の倭乱
③ 甲申事変 ④ 壬午事変

問3 空欄 A に入る語句として正しいものを、次の①～④のうちから一つ選びなさい。 28

- ① 日露協約 ② 三国干渉 ③ 日露協商 ④ シベリア出兵

問4 空欄 B には、昭和戦前期に蔵相として積極財政を推進し、世界恐慌からの脱却をはかった人物名が入る。その人物名として正しいものを、次の①～④のうちから一つ選びなさい。 29

- ① 小村寿太郎 ② 松岡洋右 ③ 井上準之助 ④ 高橋是清

問5 下線部(3)の国家総動員法について述べた文として誤っているものを、次の①～④のうちから一つ選びなさい。 30

- ① 日中戦争勃発後の第1次近衛文麿内閣時に制定された。
② 戦争遂行のために政府が物資と労働力を統制運用できるとした法令である。
③ 政府は議会の承認を経ず国民生活を全面的に統制下に置くことができた。
④ 挙国一致・堅忍持久などのスローガンをたて、国民を運動に動員した。

問6 下線部(4)の対策として正しいものを、次の①～④のうちから一つ選びなさい。

31

- ① 金融緊急措置令 ② 金輸出再禁止
③ 金・ドル交換停止 ④ 支払猶予令

問7 下線部(5)に関して、GHQが実行を指令した九原則に入る項目として誤っているものを、次の①～④のうちから一つ選びなさい。 32

- ① 予算を均衡させる ② 徴税を強化する
③ 資金の貸し出しを促進する ④ 物価統制を強化する

世界史

第1問 次の文章を読み、下の問い（問1～10）に答えなさい。

歴史上、人類は様々な理由で長距離を移動し、そのために様々な手段がとられた。

古代では、アレクサンドロス大王の東方遠征に代表される大規模な軍事遠征がおこなわれた。また、⁽¹⁾アッシリア、⁽²⁾ペルシア、ローマも征服活動によって広大な帝国を築き、領域内を軍隊が迅速に移動できるように道路網を整備した。

ユーラシア大陸を東西に移動する交通路としては、草原の道（ステップ＝ロード）、絹の道（シルク＝ロード）、海の道があり、交易や文化交流に大きな役割を果たした。草原の道は、⁽³⁾スキタイ・匈奴などの遊牧騎馬民族が活躍した舞台である。絹の道はドイツの地理学者（4）の命名によるが、この道を利用した玄奘と⁽⁵⁾マルコ＝ポーロは、旅行記を残してそれぞれの時代のこの道の状況を伝えている。

やがて陸路よりは海路の方が大量の物資を運ぶには便利であるので、海路が繁栄することになる。15世紀には⁽⁶⁾大航海時代が始まり、スペインやポルトガルの探検活動は、商業革命をもたらした。それまでは地中海を中心とする⁽⁷⁾イタリア商人の東方貿易やムスリム商人の活躍が目立ったが、大西洋がより重視される時代が到来した。

大西洋三角貿易で利益をあげたイギリスでは、産業革命がおこり、⁽⁸⁾蒸気機関車や蒸気船が登場し、従来を大きく上回る大量の人と物が短時間で移動できるようになった。アメリカ合衆国の大陸横断鉄道、ロシアの⁽⁹⁾シベリア横断鉄道など、極めて長大な鉄道が敷かれて、長距離移動が可能になった。また、⁽¹⁰⁾1903年にライト兄弟が初飛行に成功し、飛行機の実用化への道が開かれて、世界各地への移動に要する時間はさらに短縮された。

問1 下線部(1)について述べた文として正しいものを、次の①～④のうちから一つ選びなさい。

- ① ギリシアの諸ポリスはデロス同盟を結成して遠征に参加した。
- ② イッソスの戦いでアケメネス朝ペルシアのダレイオス3世を破った。
- ③ 遠征軍は、ガンジス川流域まで達した。
- ④ アレクサンドロス大王は、遠征から母国マケドニアへ戻った直後に急死した。

問2 下線部(2)について述べた文として正しいものを、次の①～④のうちから一つ選びなさい。

- ① アッシリアは、インド＝ヨーロッパ語系の民族が建てた帝国である。
- ② アケメネス朝ペルシアは、ダレイオス1世により建国された帝国である。
- ③ ローマ帝国の軍用道路にアッピア街道がある。
- ④ ローマ帝国はササン朝ペルシアのシャープール1世を破って捕虜にした。

問3 下線部(3)について述べた文として誤っているものを、次の①～④のうちから一つ選びなさい。

- ① スキタイ文化の特徴の一つに、黄金の使用がある。
- ② スキタイについて、ヘロドトスが『歴史』の中で言及している。
- ③ 匈奴の冒頓単于は、秦の始皇帝を破った。
- ④ 匈奴は、五胡の一つに数えられている。

問4 空欄（4）に入れる人物名として正しいものを、次の①～④のうちから一つ選びなさい。

- ① リヴィングストン
- ② スタンリー
- ③ アムンゼン
- ④ リヒトホーフエン

問5 次の史料は、下線部(5)が残した旅行記からの引用である。史料中に記されている海港都市として正しいものを、下の①～④のうちから一つ選びなさい。(一部、表記や表現を改めている。) 5

史料

※著作権の関係上、掲載しておりません。

- ① 成都 ② 開封 ③ 天津 ④ 泉州

問6 下線部(6)について述べた文として正しいものを、次の①～④のうちから一つ選びなさい。 6

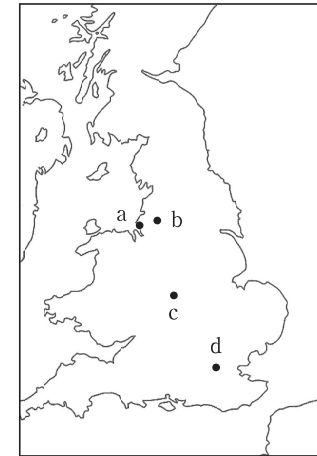
- ① ポルトガルのエンリケ（航海王子）は、ジョアン2世の王子である。
 ② ポルトガルのバルトロメウ＝ディアスは、アフリカ東岸のマリンディに至った。
 ③ コロンブスは、スペインの援助を得て、西まわり航路で「インド」を目指した。
 ④ スペインのフェリペ2世の支援を得たマゼランは、世界周航の航海に出た。

問7 下線部(7)について述べた次の文A・Bの正誤の組み合わせとして正しいものを、下の①～④のうちから一つ選びなさい。 7

- A イタリア諸都市は、東方貿易で香辛料などの奢侈品を購入した。
 B マムルーク朝などの保護下で交易をおこなったムスリム商人は、カーリーマー商人と呼ばれている。

- ① A—正 B—正 ② A—正 B—誤
 ③ A—誤 B—正 ④ A—誤 B—誤

問8 下線部(8)に関連して、次の地図中に示した都市を結ぶ路線のうち、世界初の旅客鉄道が営業を開始した路線として正しいものを、下の①～④のうちから一つ選びなさい。 8



- ① a—b ② b—c ③ c—d ④ d—a

問9 下線部(9)の建設に資金を拠出し、1890年代前半にロシアと同盟した国として正しいものを、次の①～④のうちから一つ選びなさい。 9

- ① イギリス ② フランス
 ③ ドイツ ④ アメリカ合衆国

問10 下線部(10)に最も年代が近い出来事として正しいものを、次の①～④のうちから一つ選びなさい。 10

- ① 清で政治改革を進める戊戌の変法がおこった。
 ② ロシアのバルチック艦隊を日本海軍が破った。
 ③ アメリカ合衆国でラジオ放送が始まった。
 ④ ドイツ帝国のビスマルク首相が皇帝に解任された。

第2問 次のⅠ～Ⅳの文章を読み、下の問い（問1～10）に答えなさい。

Ⅰ 日本では5世紀には中国の漢字が本格的に使用されており、9世紀以降には漢字からカタカナ、ひらがながつくられた。朝鮮王朝でも長く漢字、漢文が使用されたが、15世紀に訓民正音が制定され、20世紀には「偉大な文字」を意味するハングルと呼ばれるようになった。

Ⅱ 中国の北方にいた人々の文字については、(3) 文字が北方遊牧民最古の文字とみられている。(3) を減ぼしたウイグルで使用されたウイグル文字はソグド文字に由来し、そのソグド文字は(4) 文字が起源である。13世紀以降、ウイグル文字に基づいてモンゴル文字が作成され、これが一般に使用された。また、モンゴル帝国第5代クビライ(フビライ)＝ハンはチベット仏教僧(5) に新たな文字をつくらせたが、公文書に使用されたものの一般には普及しなかった。16世紀末のヌルハチの時には、満洲語を記すためにモンゴル文字をもとに満洲文字がつけられた。

これらの(4) 文字の系統と考えられる諸文字に対し、遼の建国者(7-A)がつくったとされている契丹文字、金の建国者(7-B)の命令でつくられた女真文字、西夏の建国者(7-C)がつくらせたとされる西夏文字は、漢字の影響を強く受けていた。

Ⅲ ベトナムは、五代・宋初の混乱期に中国からの独立を達成し、李朝の下で強力な民族国家である大越(ダイベト)を建国した。13世紀におこった陳朝は国力が盛んで民族意識が高まり、独自の文字であるチュノムがつけられた。これは漢字をもとに体系化されて使用された文字であるが、19世紀にフランスが進出して以降は衰退した。

Ⅳ 文字を印刷する技術は、中国で木版印刷が発達したことに始まり、奈良時代には日本にも伝来した。朝鮮は高い技術を持ち、木版による高麗版大藏経が2度つくられた。最初につくられた版木は、13世紀にモンゴル軍が侵入した際に兵火で焼失した。その後、モンゴル軍の退散を祈って2度目につくられた版木は海印寺に現存しており、ユネスコの世界文化遺産に登録されている。活版印刷術も中国起源であるが、高麗で世界最初の金属活字が使用されている。

問1 下線部(1)に関連して、漢字のもとである甲骨文字をつくった殷について述べた文として正しいものを、次の①～④のうちから一つ選びなさい。 11

- ① 禹が開いた王朝である。
- ② 都を鎬京に置いていた。
- ③ 占いを重視した政治を実施していた。
- ④ 青銅貨幣や鉄製農具を使用していた。

問2 下線部(2)について述べた文として正しいものを、次の①～④のうちから一つ選びなさい。 12

- ① 都を慶州に置いていた。
- ② 訓民正音を制定したのは世宗である。
- ③ 兩班制を廃止して、骨品制に変更した。
- ④ 初の外国との平等条約として日朝修好条規を結んだ。

問3 空欄(3)に入れる語句として正しいものを、次の①～④のうちから一つ選びなさい。 13

- ① 柔然
- ② 鮮卑
- ③ 大夏
- ④ 突厥

問4 空欄(4)に入れる語句として正しいものを、次の①～④のうちから一つ選びなさい。 14

- ① アラム
- ② エトルリア
- ③ キリル
- ④ マヤ

問5 空欄(5)に入れる人名として正しいものを、次の①～④のうちから一つ選びなさい。 15

- ① ソンツェン＝ガンボ
- ② グライ＝ラマ
- ③ ツォンカバ
- ④ パクパ(パスパ)

問6 下線部(6)に関連して、後金・清の君主について述べた文として正しいものを、次の

①～④のうちから一つ選びなさい。 16

- ① スルハチは、内モンゴルのチャハル部を制圧した。
- ② ホンタイジは、北京に入城した後、李自成の乱を鎮圧した。
- ③ 康熙帝は、儒学の注釈書『五経正義』の編纂を命じた。
- ④ 乾隆帝は、『四庫全書』の編纂を命じた。

問7 空欄（7-A）（7-B）（7-C）に入れる人物名の組み合わせとして正しいもの

を、次の①～④のうちから一つ選びなさい。 17

- ① A—耶律阿保機 B—李元昊 C—完顔阿骨打
- ② A—耶律阿保機 B—完顔阿骨打 C—李元昊
- ③ A—李元昊 B—耶律阿保機 C—完顔阿骨打
- ④ A—李元昊 B—完顔阿骨打 C—耶律阿保機

問8 下線部(8)以後のベトナム王朝について述べた文として正しいものを、次の①～④の

うちから一つ選びなさい。 18

- ① 李朝は、アンコール=ワットを造営した。
- ② 陳朝は、モンゴル帝国の侵攻を撃退した。
- ③ 黎朝は、明の永楽帝によって滅ぼされた。
- ④ 阮朝は、イギリスの援助を受けて建国された。

問9 下線部(9)について述べた文として正しいものを、次の①～④のうちから一つ選びな

さい。 19

- ① ナポレオン3世は、メキシコ出兵の失敗を挽回するためにインドシナ出兵に踏み切った。
- ② 清仏戦争の講和条約は北京条約であり、清はフランスによるベトナム支配を認めた。
- ③ フランス領インドシナ連邦とは、ベトナム・タイの2国からなる。
- ④ ディエンビエンフーの戦いでインドシナ戦争におけるフランスの敗北が決定的になった。

問10 下線部(10)に関連して、ヨーロッパで活版印刷を実用化したグーテンベルクが生きた

時代のドイツについて述べた文として正しいものを、次の①～④のうちから一つ選びなさい。 20

- ① 神聖ローマ帝国皇帝が実質的にいない大空位時代であった。
- ② カール4世が金印勅書を発布した。
- ③ ハプスブルク家による神聖ローマ帝国皇帝位の世襲が始まった。
- ④ ルターが宗教改革を始めた。

第3問 次の文章を読み、下の問い（問1～10）に答えなさい。

北京郊外の周口店で発掘された北京原人は火を使用していたことが確認されている。火の使用により、人類は生(1)のものを火にかけて炊いたり焼いたりすることによって、食用可能なものを増やした(2)。それだけでなく、火は照明にも利用されて人類の行動時間は増加し、また、火の使用により土器や青銅器・鉄器を制作することも可能になった。このように火の使用は、人類の文明の発展につながっており、世界各地の神話に火の神や火にまつわる挿話が登場している。例えば、火を神聖視するペルシア（イラン）のゾロアスター教は拝火教とも呼ばれ、ギリシア神話にはプロメテウスが天上の火を盗んで最高神ゼウスの怒り(3)をかった話が収録されている。

火を得るための燃料としては古くから木材が使用されてきたが、18世紀後半にイギリスで第1次産業革命が始まると、エネルギー源が薪や木炭から石炭へと転換したので、木炭(4)を得るための森林伐採が減り、環境破壊に一時的に歯止めがかかった。これを第1次エネルギー革命と呼ぶ。さらに1960年頃には石炭から石油へとエネルギー源が転換していった(5)。

第1次産業革命に続いて19世紀後半にはドイツ帝国とアメリカ合衆国がリードする第2次産業革命の時代を迎えた(6)。軽工業を中心に、蒸気力・石炭を動力源とした第1次産業革命に対して、重化学工業を中心として、電力・石油を新たな動力源とする技術革新の時代である。この時代にイギリスは「世界の工場」の地位から去ることになった(7)。

大量の電力を供給するために、19世紀後半から火力発電、水力発電がおこなわれてきたが、1950年代からは原子力発電が開発されてきた。ただ原子力発電所は、アメリカ合衆国における1979年のスリーマイル島原発事故、ソ連における1986年のチェルノブイリ(8)原発事故、日本における2011年の福島原発事故に見られるように、甚大な被害をもたらす事故が起きる可能性を否定しきれていない。

原子力発電は、核分裂のエネルギーを発電に利用するものであったが、この巨大なエネルギーは、まず兵器に応用された。第二次世界大戦中、相対性理論で知られるアインシュタインは、アメリカ合衆国に先んじてドイツが原子爆弾を開発することを恐れ、フランクリン＝ローズヴェルト大統領に原爆の開発を進言した。原爆が広島・長崎で実際に使用されたことに衝撃を受けたアインシュタインは核兵器廃絶運動に取り組み、その提言を受けた科学者たちは、1957年に（ 10 ）で核兵器廃絶を訴える会議を開催した。

問1 下線部(1)の歴史について述べた文として正しいものを、次の①～④のうちから一つ選びなさい。 21

- ① 北魏の孝文帝が平城から北京に遷都した。
- ② 明の永楽帝が南京から北京に遷都した。
- ③ 北京郊外で日中両軍が衝突した柳条湖事件がおこった。
- ④ 北京で起こった天安門事件で劉少奇が失脚した。

問2 下線部(2)に関連して、南アメリカの先住民の神話では「生のもの」から「火にかけたもの」への移行が、自然から文化への推移を象徴していると論じたフランスの文化人類学者として正しいものを、次の①～④のうちから一つ選びなさい。 22

- ① カミュ
- ② サルトル
- ③ フロイト
- ④ レヴィ＝ストロース

問3 下線部(3)のペルシアはイランと改名したが、ペルシア・イランについて述べた文として正しいものを、次の①～④のうちから一つ選びなさい。 23

- ① サファヴィー朝の都テヘランは、「世界の半分」と称された。
- ② ガージャール朝はロシアとトルコマンチャーイ条約を締結し、アルメニアを獲得した。
- ③ レザー＝ハーンはクーデタを起こして、パフレヴィー朝を倒した。
- ④ イランのモサッデグ（モサデグ）首相は、石油国有化を断行したが失脚した。

問4 下線部(4)について述べた文として正しいものを、次の①～④のうちから一つ選びなさい。 24

- ① 18世紀半ばに、毛織物工業の分野から始まった。
- ② 第1次囲い込みによって農地から追い出された人々が、工場労働者となった。
- ③ ジョン＝ケイの発明した機械に多軸紡績機がある。
- ④ 失業した熟練労働者らがラダイト運動という機械破壊運動をおこした。

問5 下線部(5)に関連して、1992年に「環境と開発に関する国連会議」(地球サミット)が開催された国として正しいものを、次の①～④のうちから一つ選びなさい。

25

- ① アルゼンチン ② ウルグアイ ③ コロンビア ④ ブラジル

問6 下線部(6)に関連して、次の石油価格のグラフの説明として正しいものを、下の①～④のうちから一つ選びなさい。

26

※著作権の関係上、掲載しておりません。

原油価格の推移(「BP世界エネルギー統計 2019」より作成)

- ① aの時期に価格が上昇するのは、第4次中東戦争、イラン革命の影響である。
② bの時期に価格が下降するのは、OPEC(石油輸出国機構)が解散したからである。
③ cの時期に価格が上昇するのは、「アラブの春」の影響である。
④ dの時期に価格が上昇するのは、リーマン＝ショックの影響である。

問7 下線部(7)について述べた文として正しいものを、次の①～④のうちから一つ選びなさい。

27

- ① 第2次産業革命をリードするためにドイツ帝国は、アウトバーンを建設した。
② ドイツ帝国は軍艦の建造を強化し、イギリスとの建艦競争を引き起こした。
③ アメリカ合衆国では南北戦争後にインディアン強制移住法が成立し、居住地を追われた先住民の地に工場が建設された。
④ アメリカ合衆国では、独占資本を規制するための反トラスト法は、共和党の反対で制定されなかった。

問8 下線部(8)について述べた次の文A・Bの正誤の組み合わせとして正しいものを、下の①～④のうちから一つ選びなさい。

28

- A アメリカ合衆国のスリーマイル島原発事故は民主党のジョンソン政権の時代におきた。
B チョルノービリ(チェルノブイリ)原発事故はソ連がグラスノスチ(情報公開)を進めるきっかけとなった。

- ① A—正 B—正 ② A—正 B—誤
③ A—誤 B—正 ④ A—誤 B—誤

問9 下線部(9)はノーベル賞を受賞したが、ノーベルが発明したものとして正しいものを、次の①～④のうちから一つ選びなさい。

29

- ① ダイナマイト ② 電灯(白熱電球)
③ ディーゼル＝エンジン ④ レントゲン

問10 空欄(10)に入れる都市名として正しいものを、次の①～④のうちから一つ選びなさい。

30

- ① ジュネーヴ ② バンドン
③ ヤルタ ④ パグウォッシュ

第4問 次の文章を読み、下の問い（問1～10）に答えなさい。

ドイツの哲学者・経済学者⁽¹⁾マルクスとその友人のエンゲルスは、自らの社会主義を理論化して科学的社会主義と称し、イギリスのロバート＝オーウェン⁽²⁾、フランスのサン＝シモン⁽³⁾、フーリエらの社会主義を空想的社会主義と呼んだ。社会主義思想は広がっていき、1864年にはロンドンで第1インターナショナル（国際労働者協会）が結成されたが、マルクス派とバクニン派の対立が生じ、1876年には解散した。1889年にパリで第2インターナショナルが結成され、ドイツ社会民主党が指導的立場に立った。資本主義が帝国主義の段階に達した時代であり、反戦平和を志向する第2インターナショナルは大きな影響力を持ったが、1914年に第一次世界大戦が始まると、各国の社会主義政党は自国の戦争を支持したため、第2インターナショナルは挫折し、1920年には消滅した。

第一次世界大戦中に⁽⁴⁾ロシア革命が発生し、ロシアは史上初の社会主義国家となった。1922年にはロシアを中心⁽⁵⁾にソヴィエト社会主義共和国連邦（ソ連）が樹立されたが、その最高指導者のレーニンは1924年に没し、トロツキーらとの権力闘争を勝ち抜いたスターリンが1953年に没するまでその独裁は続いた。

第二次世界大戦において戦勝国となったソ連は、東欧諸国を衛星国として支配していった。これに対して資本主義国家のリーダーであるアメリカ合衆国は、トルーマン＝ドクトリンにおいてソ連への封じ込め政策を打ち出した。アメリカ合衆国側の軍事同盟が北大西洋条約機構（NATO）、ソ連側の軍事同盟がワルシャワ条約機構であり、米ソ間の直接の戦争はなかったものの、⁽⁶⁾代理戦争が各地で発生した。

1960年代、⁽⁷⁾チェコスロヴァキアで「プラハの春」と呼ばれる、政治的・経済的自由化を進める運動が起こったことにくわえ、ソ連と中華人民共和国との対立が激化するなど、東側陣営は必ずしも一枚岩ではなくなってきた。中ソの対立を背景に米中・米ソの緊張関係は緩和され、⁽⁹⁾デタントが実現したが、1979年にソ連が（10）に侵攻したため、デタントは崩れた。軍事費の増大はソ連の経済を圧迫し、ソ連の最高指導者にゴルバチョフが就任すると、従来の社会主義体制に行きづまりを感じたゴルバチョフは、ペレストロイカと呼ばれる政治・経済の改革を進めた。その結果、1989年に東西冷戦の終結が宣言され、1991年にソ連は崩壊した。

問1 下線部(1)について述べた文として誤っているものを、次の①～④のうちから一つ選びなさい。 31

- ① マルクスは、唯物史観に基づいて歴史を考えた。
- ② マルクスの著作に『諸国民の富（国富論）』がある。
- ③ マルクスは、ドイツ三月革命に参加してイギリスに亡命した。
- ④ エンゲルスは、マルクスとともに『共産党宣言』を著した。

問2 下線部(2)が存命中の1771～1858年の出来事として正しいものを、次の①～④のうちから一つ選びなさい。 32

- ① ウォルポールが政界をリードしていた。
- ② 七年戦争でイギリスが大勝した。
- ③ 第1回選挙法改正が実現した。
- ④ 労働組合法が成立した。

問3 下線部(3)について述べた次の文A・Bの正誤の組み合わせとして正しいものを、下の①～④のうちから一つ選びなさい。 33

- A サン＝シモンは、「最大多数の最大幸福」の実現をモットーとした社会主義を唱えた。
- B フーリエは、二月革命後に樹立された臨時政府に参画し、国立作業場の設置を提案した。

- ① A—正 B—正
- ② A—正 B—誤
- ③ A—誤 B—正
- ④ A—誤 B—誤

問4 下線部(4)に関連して、次のポスターにおいてレーニンに一扫されている階層として誤っているものを、下の①～④のうちから一つ選びなさい。 34



- ① 資本家 ② 労働者 ③ 聖職者 ④ 貴族

問5 下線部(5)について述べた文として正しいものを、次の①～④のうちから一つ選びなさい。 35

- ① ヒトラーに対抗するために、フランスやハンガリーと相互援助条約を締結した。
② 独ソ戦が膠着したので、停戦して独ソ不可侵条約を成立させた。
③ 日ソ中立条約を一方的に破棄して、対日宣戦した。
④ 米ソ間の中距離核戦力に関する条約の調印を拒否した。

問6 下線部(6)及びそれに類する戦争・紛争として正しいものを、次の①～④のうちから一つ選びなさい。 36

- ① 朝鮮戦争において、韓国をアメリカが支援し、朝鮮民主主義人民共和国を中国が支援した。
② インド・パキスタン戦争で、インドをアメリカが支援し、パキスタンをソ連が支援した。
③ 第2次中東戦争で、エジプトをアメリカが支援し、イスラエルをソ連が支援した。
④ ベトナム戦争において、北ベトナムをアメリカが支援し、南ベトナムをソ連が支援した。

問7 下線部(7)を指導したチェコスロヴァキアの政治家として正しいものを、次の①～④のうちから一つ選びなさい。 37

- ① チャウシェク ② ドブチェク
③ ワレサ ④ ホネカー

問8 下線部(8)について述べた文として正しいものを、次の①～④のうちから一つ選びなさい。 38

- ① 1949年に人民政治協商会議が開催され中華人民共和国の成立を決定した。
② チベットの反中国運動を弾圧し、チベットの最高指導者ダライ＝ラマはイギリスに亡命した。
③ 四人組が「四つの現代化」を打ち出したが、直後に失脚した。
④ イギリスのサッチャー政権が、中華人民共和国とマカオ返還条約を成立させた。

問9 下線部(9)及び1970年代のヨーロッパについて述べた文として正しいものを、次の①～④のうちから一つ選びなさい。 39

- ① 西ドイツのブラント首相が、東方外交と呼ばれる緊張緩和政策を進めた。
② 西ドイツと東ドイツのアデナウアー政権が、東西ドイツの同時国際連合加盟を実現した。
③ ポーランドで反ソ暴動が起こったが、自主解決が実現した。
④ ユーゴスラヴィアのティトー大統領が没し、ユーゴスラヴィア内戦が勃発した。

問10 空欄（ 10 ）に入れる語句として正しいものを、次の①～④のうちから一つ選び

なさい。

① ベラルーシ

② チェチェン

③ エストニア

④ アフガニスタン

政治・経済

第1問 次の文章を読み、下の問い（問1～問9）に答えなさい。

民主主義を支える統治の仕組みと大きく関わる原理として法の支配が挙げられるが、権力分立も挙げることができる。ロックの理論を発展させた18世紀フランスの啓蒙思想家モンテスキューは、主著『法の精神』の中で、国民の政治的自由を確保するために、国家権力を立法権と執行権とに区別・分離し、さらに執行権から裁判の権力を区別・分離した。このような厳格な三権分立の考え方と親和性の高いものとしては、アメリカの大統領制がある。アメリカでは、大統領には法案提出権や議会解散権はないが、議会通过した法律案などに署名を拒否する権限がある。この拒否権に対して、議会は上下両院でそれぞれ3分の2以上の賛成を得れば拒否権を覆すことができる。また、大統領には議会に対して教書を送付する権限がある。

それに対して、イギリスを典型とする議院内閣制は、立法権と行政権とを、その主体において厳格に分離しないものである。イギリスの議会は国民の代表たる庶民院（下院）と貴族院とも呼ばれる上院からなっている。首相は下院の第一党の党首が国王により任命される。内閣は首相と国務大臣から構成され、国務大臣は全員が議会の議員である。下院は内閣不信任決議権があり、また内閣には下院を解散する権限がある。

議院内閣制と大統領制は排他的なものではなく、国によってはこれら二つを折衷した政治制度を採用しているところもある。1では、選挙によって選出される大統領と大統領が任命する首相とが権限を分担しつつ国内外の政治にあたり、このような仕組みは半大統領制と呼ばれる。

以上は民主主義的な政治だが、近年、権威主義を掲げる国家が台頭しつつあるといわれる。権威主義か民主主義かの基準は国民が、政府の最高責任者を選ぶ権利を平等に持っているか、個人やマイノリティの権利が保障されているか、などである。また権威主義国家では政治的な権力が一部の指導者に集中する軍事独裁のほか、大統領や首相などが形式的には選挙で選ばれていても、実態は独裁的な場合もある。中国などがそれにあたる。

中国などの社会主義の政治体制は民主的権力集中制をその特徴としている。事実上は共産主義政党の単一党支配である。中国における最高の権力機関は一院制の全国人民代表大会であり、この下に行政を担当する国務院と、司法を担当する最高人民法院が設けられている。

また、民主主義国家の中でも2の脅威がある。2とは大衆からの人気を

得ることを第一とする政治思想や運動をさす。本来は大衆の利益の側に立つ思想だが、急進的・非現実的な政策を訴えることが多い。特定の人種などの少数者への差別をあおる排外主義と結びつきやすく、対立する勢力に攻撃的になることもある。世界各地で出現し始めている。

問1 文中の1、2に入れる語句として最も適当なものを、各群の①～④のうちからそれぞれ一つずつ選びなさい。

- | | | |
|---|---------|--------------|
| 1 | ① フランス | ② イタリア |
| | ③ ドイツ | ④ カナダ |
| 2 | ① メセナ | ② ポピュリズム |
| | ③ ユビキタス | ④ センセーションリズム |

問2 下線部③の民主主義に関連する記述として最も適当なものを、次の①～④のうちから一つ選びなさい。3

- ① 日本では大正デモクラシーがさかんであった時期に、吉野作造が「民本主義」を唱えた。
- ② 日本国憲法は前文において、「民主主義」という言葉を使用している。
- ③ 現代の国家においては、間接民主主義よりも直接民主主義の方が多く採られている。
- ④ フランス人権宣言は、民主主義の原点ともいえる自然法思想を世界で最初に成文化した。

問3 下線部⑥の法の支配に関連して、17世紀に法の支配を主張した人物として最も適当なものを、次の①～④のうちから一つ選びなさい。4

- ① ブラクトン
- ② クロムウェル
- ③ ホブズ
- ④ コーク（クック）

問4 下線部㉔のロックの国家と社会契約に関する思想についての記述として最も適切なものを、次の①～④のうちから一つ選びなさい。

- ① ロックのいう国家は、道義を貫徹し、人倫を完成させる最高の場とされている。
- ② ロックのいう国家は、一つの人格になぞらえられ、議会がその一機関と理解されている。
- ③ ロックの社会契約説は、グロチウスの王権神授説を批判することを一つの目的としている。
- ④ ロックの社会契約説は、国家に執行権や連合権などを認めている。

問5 下線部㉕のアメリカ大統領や選挙に関する記述として最も適切なものを、次の①～④のうちから一つ選びなさい。

- ① アメリカ大統領の任期は、5年である。
- ② アメリカ大統領は、再選が禁止されている。
- ③ アメリカ大統領は、国民の直接選挙によって選出される。
- ④ アメリカの二大政党は、党の全国大会で大統領の統一候補を指名する。

問6 下線部㉖の教書に関する記述として最も適切なものを、次の①～④のうちから一つ選びなさい。

- ① 教書は、年頭に出される一般教書のみ認められている。
- ② 予算に関する教書は認められていない。
- ③ 教書によって必要な立法措置を勧告することができる。
- ④ 教書の内容が国民に公開されることはない。

問7 下線部㉗に関連して、日本における議院内閣制を形づくるルールとして適当でないものを、次の①～④のうちから一つ選びなさい。

- ① 内閣総理大臣およびその他の国务大臣は、文民でなければならない。
- ② 内閣総理大臣およびその他の国务大臣は、議院に出席することができ、また議院の要求があるときには出席しなければならない。
- ③ 内閣は、行政権の行使について、国会に対し連帯して責任を負う。
- ④ 内閣は、衆議院で不信任決議案が可決されたときは、総辞職するか衆議院を解散するかを決定しなければならない。

問8 下線部㉘の権威主義に関する記述として最も適切なものを、次の①～④のうちから一つ選びなさい。

- ① 権威主義体制は、全体主義よりも独裁的な政権である。
- ② 今日、選挙型権威主義体制の国家として、モンゴルや朝鮮民主主義人民共和国がある。
- ③ 今日、独裁型権威主義体制の国家として、ロシアやベラルーシがある。
- ④ 冷戦下においては、フィリピンやインドネシアは権威主義体制を採用していた。

問9 下線部㉙の民主的権力集中制を採用している国家として最も適切なものを、次の①～④のうちから一つ選びなさい。

- ① ミャンマー ② タイ ③ ベトナム ④ マレーシア

第2問 次の文章を読み、下の問い（問1～問9）に答えなさい。

日本では高度経済成長期、労働力需要の急増に対し、高学歴化などにより労働力率が低下し、労働力不足が社会問題となった。そのため農村から都市へ労働力の移動が起こった。また、1980年代後半のバブル経済下では労働力不足はさらに深刻となった。

総務省統計局によると、日本の労働力人口は、2021年平均で6860万人と前年に比べて8万人の減少となった。男女別にみると、男性は3803万人と20万人の減少、女性は3057万人と13万人の増加となった。このことから今後も女性の労働市場への社会進出が期待される。しかし、少子高齢化が進展し、生産年齢人口が減少することから、全体的には今後も労働力人口の減少が見込まれる。

その一方で、相次ぐ過労死の事件などもあって、長時間労働の抑制が図られている。労働基準法においても法規制はおこなわれており、規定労働時間を超えて働く場合、企業は残業代を支払う必要がある。また年次有給休暇についても規定があり、一定の条件を満たした労働者には10日以内の年次有給休暇を確保しなければならず、以後勤続年数に応じて加算され、最大20日までと規定されている。ところが、実際の日本での有給休暇取得率は50%弱にとどまっている。

2018年6月、働き方改革関連法が成立した。政府は働き方改革を「多様な働き方を可能とするとともに、中間層の厚みを増やしつつ、格差の固定化を回避し、成長と分配の好循環を実現するため」の改革と位置づけている。労働基準法や労働契約法など、8本の法律で構成される働き方改革関連法の柱は、高度プロフェッショナル制度の創設や勤務終了後に一定時間以上の休息時間を設ける勤務間インターバル制度などである。さらに時間外労働の上限規制や同一労働同一賃金なども導入している。

また労働力不足に対処するため、2021年4月、事業主に対して、個々の労働者の多様な特性やニーズを踏まえることを求める改正高年齢者雇用安定法が施行された。さらに外国人労働者の受け入れ拡大に向けて、2018年12月に出入国管理及び難民認定法が改正され、2019年4月に施行された。深刻な人手不足に対応するため介護や建設などの14業種を想定して新たな在留資格を設け、従来受け入れを認めてこなかった単純労働の事実上の受け入れに門戸を開くことになった。

問1 下線部④の労働力人口に関する記述として最も適当なものを、次の①～④のうちから一つ選びなさい。 11

- ① 労働に適する15歳以上の人口を対象とする。
- ② 75歳以上の後期高齢者は含まない。
- ③ 「就業者」であっても休業者は含まない。
- ④ 「休職中」であった「完全失業者」は含まない。

問2 下線部⑥の長時間労働に関連して、労働災害に関する記述として最も適当なものを、次の①～④のうちから一つ選びなさい。 12

- ① 病気は、事故のような災害の事実から生じたものではないので、労働災害とはならない。
- ② 本人の故意による負傷は、就業期間中であれば労働災害となる。
- ③ パートタイム労働者は、正規の従業員ではないので、就業期間中に事故にあっても、それは労働災害ではない。
- ④ 長時間労働による過労死は、会社の業務命令に従った結果であれば、労働災害である。

問3 下線部⑦の労働基準法で定められている賃金の支払原則に照らして、許容される支払方法として最も適当なものを、次の①～④のうちから一つ選びなさい。 13

- ① 賃金の一部をその企業の自社株で充当すること。
- ② その企業の製造物を現物支給すること。
- ③ 派遣労働者が派遣元の会社から賃金を受けとること。
- ④ 年俸制が採用されている労働者に1年分の給与をまとめて支払うこと。

問4 下線部④の一定の条件を満たした労働者に関する記述として最も適当なものを、次の①～④のうちから一つ選びなさい。 14

- ① 雇い入れの日から起算して6ヶ月間以上継続勤務し、全労働日の6割以上出勤した労働者。
- ② 雇い入れの日から起算して6ヶ月間以上継続勤務し、全労働日の8割以上出勤した労働者。
- ③ 雇い入れの日から起算して1年間以上継続勤務し、全労働日の6割以上出勤した労働者。
- ④ 雇い入れの日から起算して1年間以上継続勤務し、全労働日の8割以上出勤した労働者。

問5 下線部⑥の高度プロフェッショナル制度に関する記述として最も適当なものを、次の①～④のうちから一つ選びなさい。 15

- ① 高度プロフェッショナル制度は、すべての職種が適用対象である。
- ② 高度プロフェッショナル制度は、1500万円以上の年収要件を満たす労働者が対象である。
- ③ 高度プロフェッショナル制度は、外国人労働者には適用されない。
- ④ 高度プロフェッショナル制度では労働時間や休日、深夜の割増賃金などの規定が適用除外となる。

問6 下線部①に関連して、時間外労働の上限規制の原則として最も適当なものを、次の①～④のうちから一つ選びなさい。 16

- ① 月45時間 年360時間
- ② 月90時間 年720時間
- ③ 月90時間 年360時間
- ④ 月45時間 年720時間

問7 下線部⑧に関連して、同一労働同一賃金に関する記述として最も適当なものを、次の①～④のうちから一つ選びなさい。 17

- ① 同一労働同一賃金は、職務内容に関係なく、同一水準の賃金が支払われる。
- ② 同一労働同一賃金は、無期雇用フルタイム労働者は対象にならない。
- ③ 同一労働同一賃金は、パートタイム労働者には適用されるが、アルバイトには適用されない。
- ④ 総務省が、同一労働同一賃金に関するガイドラインを公布・告示している。

問8 下線部⑩の改正高齢者雇用安定法の内容に関する記述として最も適当なものを、次の①～④のうちから一つ選びなさい。 18

- ① 1994年の改正で「65歳定年制」が義務化された。
- ② 2004年の改正で企業は、定年制の廃止、定年の70歳への段階的引き上げ、70歳までの継続雇用制度の導入、のいずれかの導入を義務づけられた。
- ③ 2012年の改正で、「継続雇用制度」の対象者を労使協定で限定できる仕組みが廃止された。
- ④ 2020年の改正で、75歳までの就業機会の確保が企業の努力義務とされた。

問9 下線部①の外国人労働者に関する記述として最も適当なものを、次の①～④のうちから一つ選びなさい。 19

- ① 一般職公務員を日本人に限ることを最高裁判所は合憲にしたが、外国人にも一般職公務員資格を認める自治体もある。
- ② 2019年以前では、わが国は単純労働に従事する外国人労働者は例外なしに受け入れていなかった。
- ③ わが国では外国人労働者は労災保険の適用対象にされず、国民年金などの支給も受けられない。
- ④ 外国人技能実習制度で実務研修という名目で外国人労働者が就業しているが、この就労関係に労働法は適用されない。

第3問 次の文章を読み、下の問い（問1～問9）に答えなさい。

平等権は自由権と並んで、近代憲法において最も基本的な権利である。近代憲法における平等は、まずは封建的な身分制度の廃止をめざしたが、人間の尊厳についても追求することとなる。

日本国憲法は、第13条ですべての国民が個人として尊重されることを宣明したうえで、第14条で法の下での平等の原則を定めている。同条は「人種、信条、性別、社会的身分又は門地」による差別を禁止し、「華族その他の貴族の制度」についても禁止している。また、婚姻は「両性の合意」にのみ基づいて成立するとし、家族生活においても両性の平等を定めている。

しかし、現実の社会では、さまざまな差別や不平等が存在しており、差別を解消するための対策が必要とされ、国家にその政策が求められることとなる。

女性の地位については、1979年に女子差別撤廃条約が採択され、日本は1985年に批准した。そのための国内法整備として、同年、雇用における女性差別を解消するものとして、男女雇用機会均等法が成立した。同法では職場などでのセクシャルハラスメントを防止することを事業主に義務づけている。また、男女の実質的平等の実現に向けて、1999年には男女共同参画社会基本法が制定された。

他に差別問題の人種をめぐるものとして、日本ではアイヌの人々に対する民族的差別や在日外国人に対する差別などがある。その対策としてアイヌ民族支援法が制定されているが、在日外国人に対する差別や憎悪をあおるヘイトスピーチが問題とされている。

また障がいを持った人々に対する差別も見逃ごせない。その対策として障害者差別解消法が制定されている。

さらにジェンダー平等の問題もある。女性やマイノリティの社会的地位の向上のために積極的な優遇措置をとることをアファーマティブアクションといい、このような措置には、例えば、国会議員や各種審議会委員の一定割合以上を同一の性・人種などに独占させない制度がある。日本では国会や地方議会の女性議員を増やすために、公職選挙での候補者が可能な限り男女同数となるよう、政党が男女の候補者数の目標設定に努めるよう定める法律が、2018年に成立した。また障がいを持った人々が健常者と同じように生活することをめざすノーマライゼーションの考えに基づいてバリアフリーの街づくりが進められることもアファーマティブアクションの例である。

現代における平等は、単に一人一人の個人を同等に扱うことを要求するにとどまらず、個人の現実の違いに応じ、弱者に配慮するなどして、全体として平等を達成する実質的平等をめざさなければならないのである。

問1 下線部③に関連して、人間の尊厳を侵す差別とはいえないものを、次の①～④のうちから一つ選びなさい。 20

- ① 公務員の採用試験で、応募者が女性であることを理由に、採用を拒否すること。
- ② 公務員の採用試験で、応募者がある宗教を信仰し、その宗教の信者になっていることを理由に、採用を拒否すること。
- ③ 公務員の採用試験で、応募者が大学の学業成績が低いことを理由に、採用を拒否すること。
- ④ 公務員の採用試験で、応募者が結婚した夫婦の間に生まれた子ではないことを理由に、採用を拒否すること。

問2 下線部⑥の女子差別撤廃条約の批准を契機に改正された日本の法律として最も適当なものを、次の①～④のうちから一つ選びなさい。 21

- ① 刑法 ② 民法 ③ 国籍法 ④ 国家公務員法

問3 下線部⑦の男女雇用機会均等法は1997年に改正され、同時期に労働基準法も改正された。この2つの法律の改正点に関する記述として最も適当なものを、次の①～④のうちから一つ選びなさい。 22

- ① 女性の深夜労働に関する規制を撤廃した。
- ② 女性の時間外労働に関する規制を強化した。
- ③ 募集・採用・昇進・退職に関する男女均等待遇を努力規定とした。
- ④ 差別禁止規定に違反している事業主に対して罰金を課すこととした。

問4 下線部④の男女共同参画社会基本法に関する記述として最も適当なものを、次の①～④のうちから一つ選びなさい。 23

- ① 男女共同参画社会基本法が契機となって、夫婦別姓が採用された。
- ② 男女共同参画社会基本法は、その実現のための施策を国民の義務としている。
- ③ 内閣府に設置された男女共同参画会議が施策に取り組んでいる。
- ④ 男女共同参画社会基本法は、国に対してのみポジティブ＝アクション促進の責務を規定している。

問5 下線部③に関連して、日本における外国人に関する記述として最も適当なものを、次の①～④のうちから一つ選びなさい。 24

- ① 2006年に、テロの未然防止を目的として、来日した16歳以上の外国人に指紋採取や顔写真撮影が義務づけられることになった。
- ② 指紋押捺は在日韓国・朝鮮人ら特別永住者にも義務付けられている。
- ③ 現在では、在日外国人にも地方選挙における選挙権・被選挙権が与えられている。
- ④ 在日外国人は日本国憲法が保障する思想・良心の自由は保障されていない。

問6 下線部①に関連して、アイヌ民族支援法に関する記述として最も適当なものを、次の①～④のうちから一つ選びなさい。 25

- ① アイヌ民族支援法制定の前年に国連総会で「先住民族の権利に関する国際連合宣言」が採択された。
- ② アイヌ民族の自立と人権擁護などのために、アイヌ民族支援法が2008年に成立した。
- ③ アイヌ民族支援法には、アイヌ民族が「先住民族」であるとは明記はしていない。
- ④ アイヌ民族支援法はアイヌ民族の文化伝承や観光振興を支援するための交付金の創設が盛り込まれた。

問7 下線部⑧に関連して、わが国におけるヘイトスピーチに対する法規制に関する記述として最も適当なものを、次の①～④のうちから一つ選びなさい。 26

- ① 一部の地方自治体によってヘイトスピーチを規制する条例が制定されているものの、法律ではまだ制定されていない。
- ② 一部の地方自治体によってヘイトスピーチを規制する条例が制定されるとともに法律でも制定されている。
- ③ 憲法第21条の表現の自由に抵触するおそれがあるため、ヘイトスピーチを規制する法律も条例も制定されていない。
- ④ ヘイトスピーチを規制する法律が制定されたことを受けて、すべての都道府県においてヘイトスピーチを規制する条例が制定されている。

問8 下線部⑩に関連して、日本における障がい者の差別解消に関する記述として最も適当なものを、次の①～④のうちから一つ選びなさい。 27

- ① 障害者権利条約の採択に先立って、2013年に障害者差別解消法が制定された。
- ② すべての障がい者が、国家から経済的支援を受けられるノーマライゼーションが実現している。
- ③ 性別違和（性別不合）の人について、性別の変更を認める性同一性障害者特例法が定められている。
- ④ 事業主に対し、法定雇用率以上の障がい者を雇うことを義務づける法律は制定されていない。

問9 下線部①の国会議員や各種審議会委員の一定割合以上を同一の性・人種などに独占させない制度を表す語句として最も適当なものを、次の①～④のうちから一つ選びなさい。 28

- ① クォータ制
- ② リムバック制
- ③ ショップ制
- ④ ディスクロージャー制

第4問 次の文章を読み、下の問い（問1～問9）に答えなさい。

経済の成長・発展はわれわれに豊かな生活をもたらしたものの、それが進むにつれて環境問題が深刻化した。日本では高度経済成長期に公害問題が表面化し、その対応の必要性が強く意識されていく。この時期、公害訴訟が相次いで提訴され、とりわけ④四大公害訴訟を契機としてその実態が明らかになった。このうち四日市ぜんそく訴訟は、単一企業を被告としたほかの3件とは異なり、6社の共同不法行為責任を追及するものであった。

このような公害反対の世論や住民運動の高まりを受け、公害対策を総合的に促進するために公害対策基本法が1967年に制定され、1970年の改正を経て、1993年制定の⑤環境基本法へと受け継がれた。また、今日では、企業に過失の有無にかかわらず賠償責任を課す無過失責任制や⑥公害の発生者がその防止や費用を負担すべきという原則が確立している。さらに、大量生産・大量消費・④大量廃棄社会を見直し、⑥循環型社会を形成していくためのさまざまな考え方が導入されてきている。

国際社会でも1972年にスイスの民間組織であるローマクラブが『成長の限界』の中で、地球の資源や自浄能力は無限のものではなく、急速な人口増加と経済成長がそのまま続けば破壊的な環境悪化や資源の枯渇がもたらされると警告した。その結果、地球環境の悪化や資源の濫用が、人類の生存すら危うくし、世界が協力して取り組まなければならないという認識が生まれてきた。

そして、同年、国連人間環境会議が開催されたのを皮切りに、1992年の①国連環境開発会議（地球サミット）、1997年の②第三回気候変動枠組条約締約国会議（COP3）など環境保護に焦点を当てた重要な国際会議が開かれていくこととなる。

そして2000年の国連ミレニアム・サミットで国連ミレニアム宣言が採択され、これを基にミレニアム開発目標（MDGs）が設定された。その後2015年には、国連持続可能な開発サミットにおいて、持続可能な開発目標（SDGs）がMDGsの後継として設定された。SDGsは、③17のゴール（目標）と⑦Aのターゲットを⑧B年までに達成すべきものに掲げ、これらは発展途上国だけでなく、先進国も含むすべての国が取り組むべき課題であるとされた。

21世紀前半の国際社会は、20世紀から続く世界平和の模索に加えて、持続可能な開発も目標に据えて進んでいかなくてはならないと言えよう。

問1 文中の⑦A，⑧Bに入る数字の組み合わせとして最も適当なものを、次の①～⑥のうちから一つ選びなさい。⑨29

- ① A 96 B 2030 ② A 96 B 2040
③ A 169 B 2030 ④ A 169 B 2040
⑤ A 169 B 2050 ⑥ A 96 B 2050

問2 下線部⑤の四大公害に関する記述として最も適当なものを、次の①～④のうちから一つ選びなさい。⑩30

- ① 1960年代に提起されたいわゆる四大公害訴訟では、原因企業に対する損害賠償請求が認められた。
② 熊本水俣病は、カドミウムに汚染された魚介類を食べて発病したものであり、多数の死傷者を出した。
③ イタイイタイ病訴訟は、四大公害訴訟の中で最初に提訴された訴訟である。
④ 新潟水俣病では、神通川流域における株式会社チッソの工場排水中の汚染物質が原因であるとされた。

問3 下線部⑥の環境基本法に関する記述として最も適当なものを、次の①～④のうちから一つ選びなさい。⑪31

- ① 環境基本法は、公害を発生させた事業者を罰する規定を設けている。
② 環境基本法は、憲法に定められている環境権を根拠にして制定された。
③ 環境基本法は、国や地方自治体、事業者だけでなく、国民に対しても環境を保全するための責務を課している。
④ 環境基本法は、公害国会において制定された。

問4 下線部③の「公害の発生者がその防止や費用を負担すべき」について、この原則の英語略語3文字として最も適当なもの、次の①～④のうちから一つ選びなさい。

⑫32

- ① WMO ② ISO ③ PPP ④ TPP

問5 下線部④の大量廃棄社会に関連して、リサイクルに関する各種の法律についての記述として最も適当なものを、次の①～④のうちから一つ選びなさい。 33

- ① 自動車リサイクル法は、使用済み自動車から出る部品などを、自動車メーカーが回収費用の半額を負担する形でリサイクルをおこなう制度を採用している。
- ② グリーン購入法は、すべての民間企業に対し、再生産や省エネ商品など環境への負荷が少ない製品の購入およびその実績の報告を義務づけている。
- ③ 1995年に家電リサイクル法が制定され、1998年に容器包装リサイクル法が制定された。
- ④ 2008年に家電リサイクル法が改正され、対象となる家電製品に液晶テレビ、プラズマテレビ、衣類乾燥機が追加されることになった。

問6 下線部⑥の循環型社会を形成していくためのさまざまな考え方や仕組みの記述として、最も適当なものを、次の①～④のうちから一つ選びなさい。 34

- ① 欧米ではデポジット制が採用されているものの、日本ではまだ採用されていない。
- ② 循環型社会形成推進基本法では、廃棄物などの発生抑制、循環資源の循環的な利用、適正な処分という優先順位を定めている。
- ③ 3R運動としてリペア・リユース・リデュースがある。
- ④ ゼロ・エミッションでは家庭内での廃棄物は規制しているが、産業活動による廃棄物は規制していない。

問7 下線部①の地球サミットに関する記述として最も適当なものを、次の①～④のうちから一つ選びなさい。 35

- ① 地球サミットで採択された行動計画の成果の検討ならびに持続可能な社会づくりの具体策が、10年後にヨハネスブルクで採択された。
- ② 地球サミットは、スウェーデンのストックホルムで開催された。
- ③ 地球サミットでは「Only one earth」のスローガンのもとに人間環境宣言が採択された。
- ④ 地球サミットで採択された条約の一つに、バーゼル条約がある。

問8 下線部⑧のCOP3で採択された文書として最も適当なものを、次の①～④のうちから一つ選びなさい。 36

- ① アジェンダ21
- ② パリ協定
- ③ 名古屋議定書
- ④ 京都議定書

問9 下線部⑩のSDGsの17のゴールに含まれないものを、次の①～④のうちから一つ選びなさい。 37

- ① 原子力発電所をゼロに
- ② 人や国の不平等をなくそう
- ③ 貧困をなくそう
- ④ ジェンダー平等を実現しよう

数学

1

計算用紙

(1) 連立不等式 $\begin{cases} 8x - 1 > 3(x + 3) \\ 4x - 7 > 5(2x - 5) \end{cases}$ の解は

$$\boxed{1} < x < \boxed{2}$$

である。

(2) $\tan \theta = \frac{1}{2}$ のとき、

$$\cos^2 \theta - \sin^2 \theta = \frac{\boxed{3}}{\boxed{4}}, \quad \cos \theta \sin \theta = \frac{\boxed{5}}{\boxed{6}}$$

である。

(3) 三角形 ABC において、 $BC = 4$ 、 $CA = 6$ 、 $\angle ABC = 60^\circ$ とする。三角形 ABC の外接円の半径 R と辺 AB の長さは

$$R = \boxed{7} \sqrt{\boxed{8}}, \quad AB = \boxed{9} + \boxed{10} \sqrt{\boxed{11}}$$

である。

(4) 次の $\boxed{12}$ 、 $\boxed{13}$ にあてはまるものを、下の①～④のうちから選べ。ただし、 x 、 y は実数である。

(i) $|x + y| = |x - y|$ であることは、 $xy = 0$ であるための $\boxed{12}$ 。

(ii) $|x + y| > x + y$ であることは、 $xy < 0$ であるための $\boxed{13}$ 。

- ① 必要十分条件である
- ② 必要条件であるが、十分条件ではない
- ③ 十分条件であるが、必要条件ではない
- ④ 必要条件でも十分条件でもない

2 a を実数の定数とする。2 次関数

$$f(x) = x^2 - 2ax - a^2 + 8a - 6$$

について、 $y = f(x)$ のグラフを C とする。

(1) b を $b > 1$ を満たす定数とする。 C が 2 点 $(b, 0)$, $(0, b)$ を通るとき、 a と b の組 (a, b) は、

$$(a, b) = (\boxed{14}, \boxed{15})$$

である。

(2) C が x 軸と異なる 2 点で交わる a の値の範囲は

$$a < \boxed{16}, \boxed{17} < a$$

である。また、 C が x 軸から長さ 8 の線分を切り取るとき、 a の値は

$$a = \boxed{18} \text{ または } a = \boxed{19} \ \boxed{20}$$

である。

(3) $0 \leq x \leq 2$ の範囲で、つねに $f(x) \leq 6$ となる a の値の範囲は

$$a \leq \boxed{21}, \boxed{22} \leq a$$

である。

(4) $0 \leq x \leq 2$ の範囲で、つねに $f(x) \geq 1$ となる a の値の範囲は

$$\frac{\boxed{23} - \sqrt{\boxed{24}}}{\boxed{25}} \leq a \leq \boxed{26}$$

である。

3 袋の中に赤玉 2 個, 白玉 1 個が入っている。

計算用紙

(1) 袋から 1 個の玉を取り出し, その玉の色を確認して袋に戻す。この操作を 4 回行うものとする。

(i) 赤玉を 2 回, 白玉を 2 回取り出す確率は $\frac{\boxed{27}}{\boxed{28} \boxed{29}}$ である。

(ii) 赤玉を, 少なくとも 1 回取り出す確率は $\frac{\boxed{30} \boxed{31}}{\boxed{32} \boxed{33}}$ である。

(2) 袋から 1 個の玉を取り出し, それが赤玉ならば替わりに白玉 1 個を袋に入れ, 白玉ならばそのまま袋に戻す。この操作を繰り返し, 袋の中の玉が 3 個とも白玉になったとき操作を終えることにする。

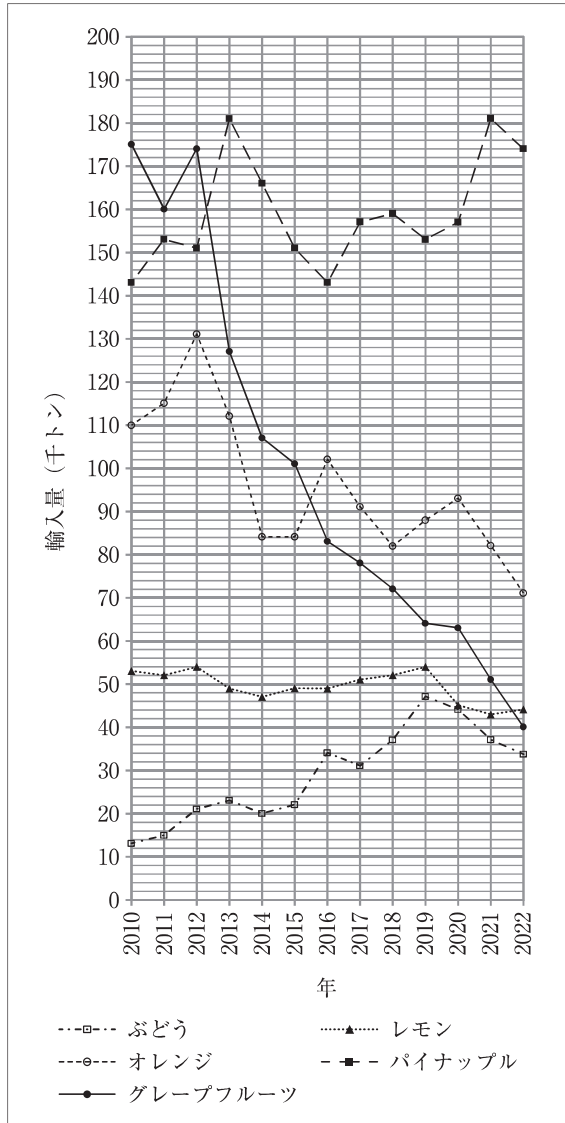
(i) 2 回目で操作を終える確率は $\frac{\boxed{34}}{\boxed{35}}$, 3 回目で操作を終える確率は

$\frac{\boxed{36}}{\boxed{37}}$ である。

(ii) 4 回目で操作を終える確率は $\frac{\boxed{38} \boxed{39}}{\boxed{40} \boxed{41}}$ である。また, 4 回目で操作を

終えたとき, 1 回目に赤玉を取り出している条件付き確率は $\frac{\boxed{42}}{\boxed{43}}$ である。

4 次の図は、2010年から2022年までの日本の1年間の果物輸入量を、ぶどう、レモン、オレンジ、パイナップル、グレープフルーツの5種類について折れ線グラフで示したものである。



(1) レモンの輸入量の最大値は千トン単位で (千トン) であり、5種類の果物の合計輸入量が最大であった年は20 年である。

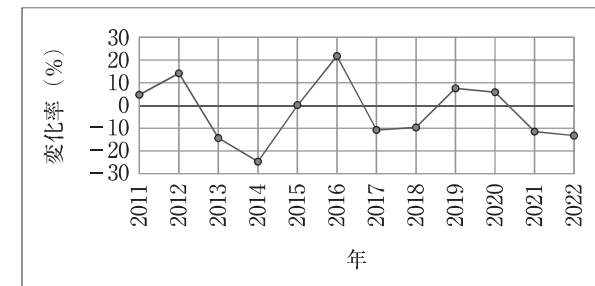
(2) ある年の輸入量の変化率を

$$\frac{(\text{ある年の輸入量}) - (\text{その前年の輸入量})}{(\text{その前年の輸入量})} \times 100(\%)$$

と定める。

2011年から2022年の間で、パイナップルの輸入量の変化率が最大であった年は20 年である。

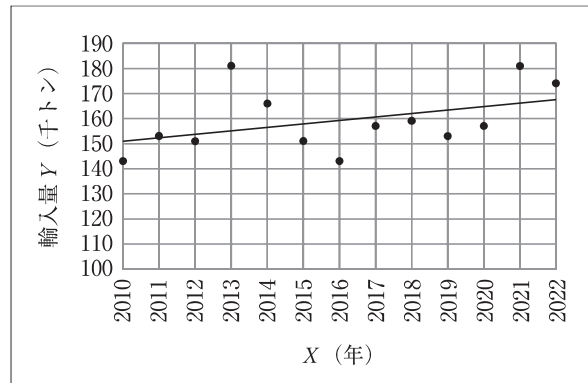
次の図は、ある果物の2011年から2022年までの各年の輸入量の変化率を折れ線グラフで表したものである。



このグラフは の変化率に関するものである。 には、次ページの選択肢から適するものを1つ選んで入れなさい。

(3) 輸入量 Y (千トン) の時間 X (年) による長期的変動は、 X と Y の散布図にデータ点との差異が全体としてできるだけ小さくなるような直線 $Y = aX + b$ (回帰直線) を当てはめると見やすい。(係数 a 、 b は、各 X ごとの実際の Y と $Y = aX + b$ で求められる Y の値の差 (残差) の 2 乗の和が最小になるように定められる。)

一例として、パイナップルの輸入量について散布図と回帰直線 $Y = 1.4176X - 2698.7$ を次に示す。回帰直線によって、パイナップルの輸入量は短期的な変動はあるものの、長期的には増加傾向にあることがわかる。



他の種類の果物についても回帰直線を当てはめることができるが、回帰直線 $Y = aX + b$ の係数 a の値が -3.4066 となる果物の種類は である。

には、下の選択肢から適するものを 1 つ選んで入れなさい。

, の選択肢

- ① ぶどう ② レモン ③ オレンジ
- ④ パイナップル ⑤ グレープフルーツ

令和8（2026）年度

一般入試（学科別）2月4日実施

経営学科、法律学科、国際関係学科

日本史

		解答番号	正解			解答番号	正解	
第1問	3点	問1	1	④	4点	問7	7	④
	4点	問2	2	③	3点	問8	8	②
	3点	問3	3	①	4点	問9	9	④
	3点	問4	4	②	3点	問10	10	③
	4点	問5	5	①	3点	問11	11	②
	3点	問6	6	③				
第2問	各3点	問1	12	②				
		問2	13	③				
		問3	14	②				
		問4	15	③				
		問5	16	①				
		問6	17	③				
		問7	18	②				
第3問	各3点	問1	19	④				
		問2	20	①				
		問3	21	④				
		問4	22	②				
		問5	23	③				
		問6	24	②				
		問7	25	①				
第4問	各3点	問1	26	③				
		問2	27	④				
		問3	28	②				
		問4	29	④				
		問5	30	④				
		問6	31	①				
		問7	32	③				
[100点満点]								

令和8（2026）年度

一般入試（学科別）2月4日実施

経営学科、法律学科、国際関係学科

世界史

		解答番号	正解			解答番号	正解
第1問	各3点	問1	1	②	問6	6	③
		問2	2	③	問7	7	①
		問3	3	③	問8	8	①
		問4	4	④	問9	9	②
		問5	5	④	問10	10	②
第2問	各3点	問1	11	③	問6	16	④
		問2	12	②	問7	17	②
		問3	13	④	問8	18	②
		問4	14	①	問9	19	④
		問5	15	④	問10	20	③
第3問	各2点	問1	21	②	問6	26	①
		問2	22	④	問7	27	②
		問3	23	④	問8	28	③
		問4	24	④	問9	29	①
		問5	25	④	問10	30	④
第4問	各2点	問1	31	②	問6	36	①
		問2	32	③	問7	37	②
		問3	33	④	問8	38	①
		問4	34	②	問9	39	①
		問5	35	③	問10	40	④
[100点満点]							

	解答番号	正解	解答番号	正解				
第1問	2点 問1-1	<table border="1"><tr><td>1</td></tr></table>	1	①	3点 問5	<table border="1"><tr><td>6</td></tr></table>	6	④
	1							
	6							
	2点 問1-2	<table border="1"><tr><td>2</td></tr></table>	2	②	3点 問6	<table border="1"><tr><td>7</td></tr></table>	7	③
	2							
7								
3点 問2	<table border="1"><tr><td>3</td></tr></table>	3	①	3点 問7	<table border="1"><tr><td>8</td></tr></table>	8	①	
3								
8								
2点 問3	<table border="1"><tr><td>4</td></tr></table>	4	④	3点 問8	<table border="1"><tr><td>9</td></tr></table>	9	④	
4								
9								
3点 問4	<table border="1"><tr><td>5</td></tr></table>	5	④	2点 問9	<table border="1"><tr><td>10</td></tr></table>	10	③	
5								
10								
第2問	2点 問1	<table border="1"><tr><td>11</td></tr></table>	11	①	2点 問6	<table border="1"><tr><td>16</td></tr></table>	16	①
	11							
	16							
	3点 問2	<table border="1"><tr><td>12</td></tr></table>	12	④	3点 問7	<table border="1"><tr><td>17</td></tr></table>	17	②
	12							
17								
3点 問3	<table border="1"><tr><td>13</td></tr></table>	13	③	3点 問8	<table border="1"><tr><td>18</td></tr></table>	18	③	
13								
18								
3点 問4	<table border="1"><tr><td>14</td></tr></table>	14	②	3点 問9	<table border="1"><tr><td>19</td></tr></table>	19	①	
14								
19								
3点 問5	<table border="1"><tr><td>15</td></tr></table>	15	④					
15								
第3問	3点 問1	<table border="1"><tr><td>20</td></tr></table>	20	③	3点 問6	<table border="1"><tr><td>25</td></tr></table>	25	④
	20							
	25							
	2点 問2	<table border="1"><tr><td>21</td></tr></table>	21	③	3点 問7	<table border="1"><tr><td>26</td></tr></table>	26	②
	21							
26								
3点 問3	<table border="1"><tr><td>22</td></tr></table>	22	①	3点 問8	<table border="1"><tr><td>27</td></tr></table>	27	③	
22								
27								
3点 問4	<table border="1"><tr><td>23</td></tr></table>	23	③	2点 問9	<table border="1"><tr><td>28</td></tr></table>	28	①	
23								
28								
3点 問5	<table border="1"><tr><td>24</td></tr></table>	24	①					
24								
第4問	2点 問1	<table border="1"><tr><td>29</td></tr></table>	29	③	3点 問6	<table border="1"><tr><td>34</td></tr></table>	34	②
	29							
	34							
	3点 問2	<table border="1"><tr><td>30</td></tr></table>	30	①	3点 問7	<table border="1"><tr><td>35</td></tr></table>	35	①
	30							
35								
3点 問3	<table border="1"><tr><td>31</td></tr></table>	31	③	2点 問8	<table border="1"><tr><td>36</td></tr></table>	36	④	
31								
36								
2点 問4	<table border="1"><tr><td>32</td></tr></table>	32	③	3点 問9	<table border="1"><tr><td>37</td></tr></table>	37	①	
32								
37								
3点 問5	<table border="1"><tr><td>33</td></tr></table>	33	④					
33								

[100点満点]

1	(1)	4点 <table border="1"><tr><td>1</td><td>2</td></tr><tr><td>2</td><td>3</td></tr></table>	1	2	2	3	解答番号 正解								
	1	2													
	2	3													
	(2)	4点 <table border="1"><tr><td>3</td><td>4</td></tr><tr><td>3</td><td>5</td></tr></table>	3	4	3	5	4点 <table border="1"><tr><td>5</td><td>6</td></tr><tr><td>2</td><td>5</td></tr></table>	5	6	2	5	解答番号 正解			
3	4														
3	5														
5	6														
2	5														
(3)	3点 <table border="1"><tr><td>7</td><td>8</td></tr><tr><td>2</td><td>3</td></tr></table>	7	8	2	3	4点 <table border="1"><tr><td>9</td><td>10</td><td>11</td></tr><tr><td>2</td><td>2</td><td>6</td></tr></table>	9	10	11	2	2	6	解答番号 正解		
7	8														
2	3														
9	10	11													
2	2	6													
(4)	3点 <table border="1"><tr><td>12</td></tr><tr><td>1</td></tr></table>	12	1	3点 <table border="1"><tr><td>13</td></tr><tr><td>4</td></tr></table>	13	4	解答番号 正解								
12															
1															
13															
4															
2	(1)	5点 <table border="1"><tr><td>14</td><td>15</td></tr><tr><td>5</td><td>9</td></tr></table>	14	15	5	9	解答番号 正解								
	14	15													
	5	9													
	(2)	5点 <table border="1"><tr><td>16</td><td>17</td></tr><tr><td>1</td><td>3</td></tr></table>	16	17	1	3	4点 <table border="1"><tr><td>18</td><td>19</td><td>20</td></tr><tr><td>5</td><td>-</td><td>1</td></tr></table>	18	19	20	5	-	1	解答番号 正解	
16	17														
1	3														
18	19	20													
5	-	1													
(3)	5点 <table border="1"><tr><td>21</td><td>22</td></tr><tr><td>2</td><td>6</td></tr></table>	21	22	2	6	解答番号 正解									
21	22														
2	6														
(4)	3点 <table border="1"><tr><td>23</td><td>24</td><td>25</td></tr><tr><td>4</td><td>2</td><td>2</td></tr></table>	23	24	25	4	2	2	3点 <table border="1"><tr><td>26</td></tr><tr><td>3</td></tr></table>	26	3	解答番号 正解				
23	24	25													
4	2	2													
26															
3															
3	(1) (i)	5点 <table border="1"><tr><td>27</td><td>28</td><td>29</td></tr><tr><td>8</td><td>2</td><td>7</td></tr></table>	27	28	29	8	2	7	解答番号 正解						
	27	28	29												
	8	2	7												
	(ii)	4点 <table border="1"><tr><td>30</td><td>31</td><td>32</td><td>33</td></tr><tr><td>8</td><td>0</td><td>8</td><td>1</td></tr></table>	30	31	32	33	8	0	8	1	解答番号 正解				
30	31	32	33												
8	0	8	1												
(2) (i)	4点 <table border="1"><tr><td>34</td><td>35</td></tr><tr><td>2</td><td>9</td></tr></table>	34	35	2	9	4点 <table border="1"><tr><td>36</td><td>37</td></tr><tr><td>2</td><td>9</td></tr></table>	36	37	2	9	解答番号 正解				
34	35														
2	9														
36	37														
2	9														
(ii)	4点 <table border="1"><tr><td>38</td><td>39</td><td>40</td><td>41</td></tr><tr><td>1</td><td>4</td><td>8</td><td>1</td></tr></table>	38	39	40	41	1	4	8	1	4点 <table border="1"><tr><td>42</td><td>43</td></tr><tr><td>4</td><td>7</td></tr></table>	42	43	4	7	解答番号 正解
38	39	40	41												
1	4	8	1												
42	43														
4	7														
4	(1)	5点 <table border="1"><tr><td>44</td><td>45</td></tr><tr><td>5</td><td>4</td></tr></table>	44	45	5	4	5点 <table border="1"><tr><td>46</td><td>47</td></tr><tr><td>1</td><td>2</td></tr></table>	46	47	1	2	解答番号 正解			
	44	45													
	5	4													
46	47														
1	2														
(2)	5点 <table border="1"><tr><td>48</td><td>49</td></tr><tr><td>1</td><td>3</td></tr></table>	48	49	1	3	5点 <table border="1"><tr><td>50</td></tr><tr><td>3</td></tr></table>	50	3	解答番号 正解						
48	49														
1	3														
50															
3															
(3)	5点 <table border="1"><tr><td>51</td></tr><tr><td>3</td></tr></table>	51	3	解答番号 正解											
51															
3															

[100点満点]